

تاریخ امتحان: 1402/10/30

بسمه تعالی

ساعت شروع: 8 صبح

وزارت آموزش و پرورش

نام:

مدت ارزشیابی: 120 دقیقه

اداره کل آموزش و پرورش استان خوزستان

نام خانوادگی:

نام آموزشگاه: **حجاب**

مدیریت آموزش و پرورش شهرستان دزفول

کلاس: دهم انسانی

طراح سوالات: ساکیانی

شماره:

ارزشیابی درس اقتصاد پایه دهم دی ماه سال تحصیلی 1402-1403 تعداد صفحه: 4

بارم	ردیف
1	1
1	درستی یا نادرستی هر عبارت را مشخص کنید. الف) کارآفرینان، واقع بین هستند اما مطمئن و دلگرم به موفقیت اقتصادی اند، به معنای تیزبینی آن ها است. ب) اگر درآمد بودجه از هزینه ی آن بیشتر باشد، با کسری بودجه مواجه هستیم. پ) مهم ترین نوع مالیات، مالیات بر دارایی است. ت) سهام یک سند مالکیت است و نشان می دهد که دارنده ی آن، بخشی از مالکیت شرکت را در اختیار دارد و تنها در سود، شریک است.
1/5	2
1/5	عبارت های زیر را کامل کنید. الف) به هزینه هایی که پرداخت شده ولی شما نمی توانید آن را باز گردانید، می گویند. ب) دو گروه از مهم ترین تصمیم گیرندگان و بازیگران در اقتصاد، و هستند. پ) آمریکا، کانادا و مکزیک در سال 1992 پیمان تجارت آزاد مشهور به پیمان را امضا کردند. ت) با افزایش قیمت، مقدار تقاضا می یابد و این دو باهم رابطه ی دارند.
1/5	3
1/5	گزینه صحیح را انتخاب کنید. الف) کدام گزینه از مزایای کسب و کار شرکتی نمی باشد؟ 1. دسترسی به منابع و سرمایه های بزرگتر 2. امکان افزایش سرمایه و تامین مالی بانکی 3. تقسیم بار مسولیت و هم افزایی توانایی ها 4. را اندازی نسبتا آسان ب) کدام یک از انواع مالیات های زیر، جزء مالیات های مستقیم محسوب می شود؟ 1. عوارض گمرکی 2. مالیات بر ارث 3. عوارض نوسازی 4. مالیات بر ارزش افزوده پ) چه زمانی قیمت یک کالا در بازار به تعادل می رسد؟ 1. زمانی که مقدار تولید، بیشتر از تقاضا باشد. 2. زمانی که مقدار تقاضا، بیشتر از تولید باشد. 3. زمانی که افزایش قیمت موجب کمبود محصول شود. 4. زمانی که مقدار تولید و تقاضای یک کالا برابر باشد.

2	<p>پاسخ کوتاه دهید.</p> <p>الف) دو مورد از ویژگی های کارآفرینان موفق را نام ببرید.</p> <p>ب) دو مورد از انواع مالیات غیر مستقیم را نام ببرید.</p> <p>پ) دو نمونه از ویژگی افرادی که از راه حلال کسب درآمد <u>ندارند</u> را بنویسید.</p> <p>ت) کالای عمومی چیست؟</p>	4
1	<p>قید بودجه را تعریف کنید.</p>	5
1	<p>وظایف دولت را نام ببرید.</p>	6
1/5	<p>سه مورد از اهداف دولت برای دریافت مالیات را بنویسید.</p>	7
1	<p>مالیات بر مصرف چه نوع مالیاتی است؟ توضیح دهید.</p>	8
1	<p>مزیت مطلق را توضیح دهید.</p>	9
2	<p>در چه صورتی یک کشور می تواند به وضعیت استقلال و استحکام اقتصادی نزدیک شود؟ (4 مورد)</p>	10

11

1/25

باتوجه به جدول زیر که در ارتباط با تولیدات سه کشور A, B و C می باشد، به سوالات زیر پاسخ دهید.

الف) کدام کشور در تولید قهوه مزیت مطلق دارد؟

ب) کدام کشور در تولید شکلات مزیت مطلق دارد؟

پ) کشور B بهتر است چه کالایی را در داخل تولید کند؟ چرا؟

کشور	محصول	قهوه (کیلو)	شکلات (کیلو)
A		1000	900
B		800	400
C		700	1200

12

2

چنانچه یک بنگاه تولیدی که دارای 3 کارگر می باشد، ماهانه 250 دست لباس تولید کند و هر یک را به قیمت 150 هزار تومان بفروشد، باتوجه به هزینه های زیر، عملکرد سالانه ی این بنگاه اقتصادی را به تومان محاسبه کنید.

میزان اجاره ی ماهانه	500 هزار تومان
میزان حقوق ماهیانه ی هر کارگر	200 هزار تومان
هزینه ی بیمه ی سالیانه ی مجموع کارگران	یک ششم اجاره ی سالیانه

13

آقای صفرزاده، 30000 سهم شرکتی را خریداری کرده است و خانم رضایی مالک 25000 سهم آن شرکت است. اگر دارایی کل شرکت به 100000 سهم تقسیم شده باشد، هر کدام از آن ها مالک چند درصد از سهام شرکت هستند؟

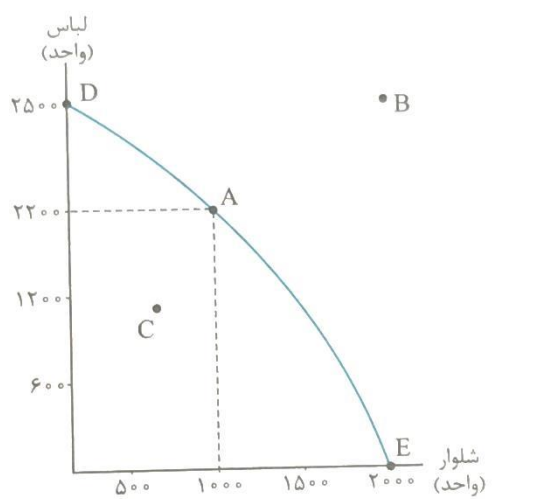
1/5

14

باتوجه به نمودار مرز امکانات تولید زیر، به سوالات داده شده پاسخ دهید.
الف) در کدام نقاط تنها یک کالا تولید می شود؟ مشخص کنید در هر یک از این نقاط چه کالایی فقط تولید می شود؟

ب) مقدار تولید هر کالا در نقطه ی A را مشخص کنید.

پ) وضعیت تولید در نقاط B و C را مشخص کنید.



"موفق و پیروز باشید." ساکیانی

تاریخ امتحان: 1402/10/30

بسمه تعالی

ساعت شروع: 8 صبح

وزارت آموزش و پرورش

نام:

مدت ارزشیابی: 120 دقیقه

اداره کل آموزش و پرورش استان خوزستان

نام خانوادگی:

نام آموزشگاه: **حجاب**

مدیریت آموزش و پرورش شهرستان دزفول

کلاس: دهم انسانی

طراح سوالات: ساکیانی

شماره:

ارزشیابی درس اقتصاد پایه دهم دی ماه سال تحصیلی 1402-1403 تعداد صفحه: 4

بارم	ردیف
1	1
1	درستی یا نادرستی هر عبارت را مشخص کنید. الف) کارآفرینان، واقع بین هستند اما مطمئن و دلگرم به موفقیت اقتصادی اند، به معنای تیزبینی آن ها است. نادرست ب) اگر درآمد بودجه از هزینه ی آن بیشتر باشد، با کسری بودجه مواجه هستیم. نادرست پ) مهم ترین نوع مالیات، مالیات بر دارایی است. نادرست ت) سهام یک سند مالکیت است و نشان می دهد که دارنده ی آن، بخشی از مالکیت شرکت را در اختیار دارد و تنها در سود، شریک است. نادرست
1/5	2
1/5	عبارت های زیر را کامل کنید. الف) به هزینه هایی که پرداخت شده ولی شما نمی توانید آن را باز گردانید، هزینه هدر رفته می گویند. ب) دو گروه از مهم ترین تصمیم گیرندگان و بازیگران در اقتصاد، بنگاه ها و خانوارها هستند. پ) آمریکا، کانادا و مکزیک در سال 1992 پیمان تجارت آزاد مشهور به پیمان نفتا را امضا کردند. ت) با افزایش قیمت، مقدار تقاضا کم می یابد و این دو باهم رابطه ی عکس دارند.
1/5	3
1/5	گزینه صحیح را انتخاب کنید. الف) کدام گزینه از مزایای کسب و کار شرکتی <u>نمی</u> باشد؟ 1. دسترسی به منابع و سرمایه های بزرگتر 2. امکان افزایش سرمایه و تامین مالی بانکی 3. تقسیم بار مسولیت و هم افزایی توانایی ها 4. را اندازی نسبتا آسان ب) کدام یک از انواع مالیات های زیر، جزء مالیات های مستقیم محسوب می شود؟ 1. عوارض گمرکی 2. مالیات بر ارزش افزوده 3. عوارض نوسازی 4. مالیات بر ارزش افزوده پ) چه زمانی قیمت یک کالا در بازار به تعادل می رسد؟ 1. زمانی که مقدار تولید، بیشتر از تقاضا باشد. 2. زمانی که مقدار تقاضا، بیشتر از تولید باشد. 3. زمانی که افزایش قیمت موجب کمبود محصول شود. 4. زمانی که مقدار تولید و تقاضای یک کالا برابر باشد.

2	<p>پاسخ کوتاه دهید.</p> <p>الف) دو مورد از ویژگی های کارآفرینان موفق را نام ببرید. تیزبین - نوآور - ریسک پذیر - خوش بین - پراکنگیزه - یادگیرنده - سازمان دهنده</p> <p>ب) دو مورد از انواع مالیات غیر مستقیم را نام ببرید. مالیات بر مصرف - مالیات بر ارزش افزوده - عوارض گمرکی و خدماتی</p> <p>پ) دو نمونه از ویژگی افرادی که از راه حلال کسب درآمد <u>ندارند</u> را بنویسید. بدنامی میان مردم - نبود برکت در زندگی - استفاده از رانت و رشوه - باعث سقوط اقتصادی خود و جامعه</p> <p>ت) کالای عمومی چیست؟ به کالا و خدماتی که توسط افراد زیادی می تواند هم زمان استفاده شود و هیچ کس نمی تواند مردم را از استفاده ی آن محروم سازد، کالای عمومی گفته می شود.</p>	4
1	<p>قید بودجه را تعریف کنید. مقدار پول مشخص و محدودی که فرد برای خرج کردن دارد را قید بودجه می نامیم. یعنی پول شما محدود است و برای خرج کردن دستتان باز نیست و باید دست به انتخاب بزنید و یا به عبارتی دیگر مجبور هستید بین گزینه های خود بده - بستان کنید.</p>	5
1	<p>وظایف دولت را نام ببرید. بهبود عملکرد بازار - ارئه ی کالای عمومی</p>	6
1/5	<p>سه مورد از اهداف دولت برای دریافت مالیات را بنویسید. افزایش درآمد دولت - کاهش فعالیت های نامناسب و تشویق فعالیت های مطلوب - کاهش نابرابری های اقتصادی و اجتماعی</p>	7
1	<p>مالیات بر مصرف چه نوع مالیاتی است؟ توضیح دهید. مصرف کنندگان کالاهای خاص در زمان خرید آن کالا (به همراه قیمت کالا) مالیات را پرداخت می کنند.</p>	8
1	<p>مزیت مطلق را توضیح دهید. زمانی یک کشور در تولید یک کالا مزیت مطلق دارد که با به کارگیری تمام عوامل تولیدش بتواند بیشترین واحد از آن کالا را نسبت به دیگر کشور ها تولید کند.</p>	9
2	<p>در چه صورتی یک کشور می تواند به وضعیت استقلال و استحکام اقتصادی نزدیک شود؟ (4 مورد)</p> <p>ایجاد راه های گوناگون برای تأمین کالاهای وارداتی و بازار های فروش صادراتی - فاصله گرفتن از وضعیت تک محصولی - خلق مزیت های جدید اقتصادی جهت تأمین نیازهای اساسی و مهم کشور - توجه بیشتر به علم و فن آوری و اقتصاد دانش بنیان</p>	10

11

1/25

باتوجه به جدول زیر که در ارتباط با تولیدات سه کشور A, B و C می باشد، به سوالات زیر پاسخ دهید.

الف) کدام کشور در تولید قهوه مزیت مطلق دارد؟ A

ب) کدام کشور در تولید شکلات مزیت مطلق دارد؟ C

پ) کشور B بهتر است چه کالایی را در داخل تولید کند؟ چرا؟ قهوه زیرا در تولید قهوه مزیت نسبی نسبت به تولید شکلات دارد. (تولید قهوه بیشتر از شکلات است.)

کشور	محصول	قهوه (کیلو)	شکلات (کیلو)
A		1000	900
B		800	400
C		700	1200

12

2

چنانچه یک بنگاه تولیدی که دارای 3 کارگر می باشد، ماهانه 250 دست لباس تولید کند و هر یک را به قیمت 150 هزار تومان بفروشد، باتوجه به هزینه های زیر، عملکرد سالانه ی این بنگاه اقتصادی را به تومان محاسبه کنید.

میزان اجاره ی ماهانه	500 هزار تومان
میزان حقوق ماهیانه ی هر کارگر	200 هزار تومان
هزینه ی بیمه ی سالیانه ی مجموع کارگران	یک ششم اجاره ی سالیانه

میزان اجاره سالیانه: $12 \times 500000 = 6000000$

میزان حقوق سالیانه هر کارگر: $200000 \times 12 = 2400000$

میزان حقوق سالیانه همه ی کارگران: $2400000 \times 3 = 7200000$

هزینه بیمه سالیانه همه کارگران: $\frac{1}{6} \times 6000000 = 1000000$

هزینه ی سالیانه:

$6000000 + 7200000 + 1000000 = 14200000$

درآمد سالیانه:

$(12 \times 250) \times 150000 = 450000000$

چون درآمد از هزینه بیشتر است پس شرکت سود کرده است.

$450000000 - 14200000 = 435800000$

13

آقای صفرزاده، 30000 سهم شرکتی را خریداری کرده است و خانم رضایی مالک 25000 سهم آن شرکت است. اگر دارایی کل شرکت به 100000 سهم تقسیم شده باشد، هر کدام از آن ها مالک چند درصد از سهام شرکت هستند؟

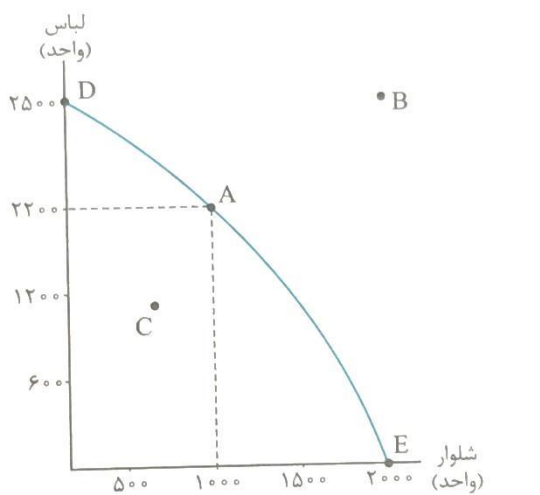
$$30\% = 100 \times \frac{30000}{100000} \text{ آقای صفرزاده}$$

$$25\% = 100 \times \frac{25000}{100000} \text{ خانم رضایی}$$

14

1/75

باتوجه به نمودار مرز امکانات تولید زیر، به سوالات داده شده پاسخ دهید.
الف) در کدام نقاط تنها یک کالا تولید می شود؟ مشخص کنید در هر یک از این نقاط چه کالایی فقط تولید می شود؟ **نقطه D فقط لباس و نقطه E فقط شلوار تولید می شود.**
ب) مقدار تولید هر کالا در نقطه A را مشخص کنید.
لباس: 2200 واحد شلوار: 2000 واحد
پ) وضعیت تولید در نقاط B و C را مشخص کنید.
نقطه B خارج از دسترس است. نقطه C تولید ناکارا است.




"موفق و پیروز باشید." ساکیانی



اپلیکیشن درسی همیار

برنامه رایگان درسی همیار



تمام پایه ها

جواب کتاب ، تدریس و نمونه سوال



همیشه رایگان

برنامه همیار کاملا رایگان میباشد