
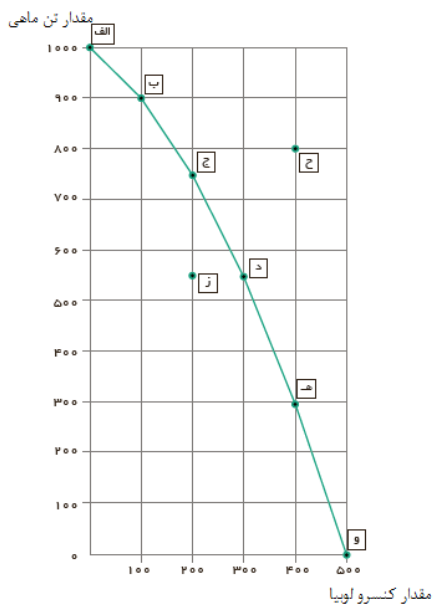


بارم	تاریخ امتحان: ۱۱ / ۱۰ / ۱۴۰۲ مدت امتحان: ۹۰ دقیقه تعداد سوالات: نام آزمون: اقتصاد	بسمه تعالی مدیریت آموزش و پرورش ناحیه ۳ تبریز دبیرستان غیر دولتی برهان (دوره دوم) 	نام و نام خانوادگی: پایه و رشته: دهم علوم انسانی دبیر مربوطه: ذاکری	سوال
۲	<p align="center"><b>الف در عبارات زیر موارد صحیح و غلط را مشخص کنید:</b></p> <p>۱- تعاونی ها مراحل راه اندازی کم و بیش مشابهی با شرکت ها دارند.</p> <p>۲- به دلیل وجود کمیابی در امکانات و داشته ها، همیشه باید بین گزینه های انتخاب بده - بستن کرد</p> <p>۳- چیز هایی که مد می شوند، با توجه به تغییر قیمت ها، مقدار تقاضای آن ها زیاد تر می شود.</p> <p>۴- در بازار کالاها و خدمات، خانوارها، فروشنده و بنگاه ها خریدارند.</p>			الف
۳	<p align="center"><b>ب جاهای خالی را با عبارات مناسب پر کنید:</b></p> <p>۱- وقتی شما مقدار مشخص و محدودی پول برای خرج کردن دارید، در این حالت می گوئیم شما یک ..... دارید .</p> <p>۲- یک رستوران زنجیره ای، زمانی که افرادی را استخدام می کند، نیروی کار را از..... اجاره می کند.</p> <p>۳- گاه به دالیل طبیعی، اقتصادی ، قانونی یا حتی غیر قانونی، تعداد فروشنده یا خریدار به یک یا چند نفر محدود می شود. این وضعیت را ..... می گوئیم.</p> <p>۴- طبق قانون تقاضا با افزایش ..... مقدار تقاضا ..... می یابد.</p> <p>۵- چنانچه سرمایه گذار یک کالا، یک شرکت آلمانی باشد ولی ساخته شده دست کارگران چینی باشد این کالا ..... است.</p>			ب
۱/۵	<p align="center"><b>ج مسئله زیر را حل کنید</b></p> <p>۱- چنانچه یک بنگاه تولیدی که دارای ۳ کارگر میباشد، ماهانه ۲۵۰ دست لباس تولید کند و هر یک را به قیمت ۱۵۰ هزار تومان بفروشد، با توجه به هزینه های زیر :</p> <p>الف ( عملکرد سالانه این بنگاه اقتصادی را به تومان محاسبه کنید :</p> <p>ب ( این بنگاه در طول یک سال سود ده است یا زیان ده ؟</p> <p align="center">میزان اجاره ماهیانه : ۵۰۰ هزار تومان          میزان حقوق ماهیانه هر کارگر : ۲ میلیون تومان          هزینه بیمه سالیانه کارگران : یک میلیون تومان</p>			ج



صفحه سوم سوالات اقتصاد

۱/۵



ز

باتوجه به نمودارمقابل به سوالات پاسخ دهید:

(۱) نام نمودار مقابل چیست؟

(۲) چنانچه بخواهیم ۳۰۰ عدد کنسرو لوبیا تولید کنیم حداکثر چه تعداد تن ماهی را می توانیم تولید کنیم؟

(۳) چنانچه تمام سرمایه صرف تولید تن ماهی بشود چه تعداد تن ماهی می توانیم تولید کنیم

ی

سوالات تشریحی

۱

۱ - منظور از هزینه فرصت یک انتخاب چیست؟

۱

۲ - منظور از بازار در مباحث اقتصادی چیست؟

۱

۳ - منظور از کالاهای عمومی چیست؟

۱/۵

۴ - اهداف اصلی دولت از گرفتن مالیات چیست؟

۱

۵ - تجارت موفق چه کمکی به کشورها می کند؟

۱

۶ - اصل مزیت مطلق یعنی چه؟


۱

۷ - عواملی موجب می شود تا کشورها با یکدیگر وارد مبادله و تجارت شوند؟ دو مورد

۲۰

جمع بارم

موفق باشید \_ ذاکری

بارم	تاریخ امتحان: ۱۱ / ۱۰ / ۱۴۰۲ مدت امتحان: ۹۰ دقیقه تعداد سوالات: نام آزمون: اقتصاد	بسمه تعالی پاسخ برگ دبیرستان غیر دولتی برهان (دوره دوم) - ناحیه ۳ تبریز 	نام و نام خانوادگی: پایه و رشته: دهم علوم انسانی دبیر مربوطه: ذاکری				
۲	<b>الف</b> در عبارات زیر موارد صحیح و غلط را مشخص کنید: (۱) صحیح (۲) صحیح (۳) غلط (۴) غلط						
۳	<b>ب</b> جاهای خالی را با عبارات مناسب پر کنید: (۱) ..... قید بودجه ..... (۲) ..... خانوارها ..... (۳) ..... انحصار ..... (۴) ..... قیمت ..... و ..... کاهش ..... (۵) ..... چند ملیتی .....						
۱/۵	<b>ج</b> مسئله زیر را حل کنید: (۱) تومانی $12 \times 150,000 \times 250 = 450,000,000$ درآمد سالیانه تومانی $12 \times 500,000 = 6,000,000$ اجاره سالیانه تومانی $12 \times 3 \times 2,000,000 = 72,000,000$ حقوق سالیانه تومانی $79,000,000 = 1,000,000 + 72,000,000 + 6,000,000$ هزینه سالیانه تومانی $371,000,000 = 450,000,000 - 79,000,000$ سود سالیانه (۲) سود ده						
۲	<b>د</b> سوالات چهار گزینه ای: (۱) گزینه (ب) (۲) گزینه (ج) (۳) گزینه (الف) (۴) گزینه (ب)						
۱	<b>و</b> جدول زیر را کامل کنید. (ذکر موارد دیگر از جدول صفحه ۱۵) <table border="1" data-bbox="131 1755 1438 1948"> <tr> <td>مزیای کسب و کار شخصی</td> <td>معایب کسب و کار شخصی</td> </tr> <tr> <td>راه اندازی آسان و هزینه های نسبتاً اندک</td> <td>بار سنگین مسئولیت</td> </tr> </table>			مزیای کسب و کار شخصی	معایب کسب و کار شخصی	راه اندازی آسان و هزینه های نسبتاً اندک	بار سنگین مسئولیت
مزیای کسب و کار شخصی	معایب کسب و کار شخصی						
راه اندازی آسان و هزینه های نسبتاً اندک	بار سنگین مسئولیت						

صفحه دوم پاسخ برگ سوالات اقتصاد

۱/۵	<p><b>سوالات کوتاه جواب</b></p> <p>۱) کسب و کار شرکتی</p> <p>۲) بهبود عملکرد بازار ، ارائه کالاهای عمومی</p> <p>۳) توجه به هزینه های هدر رفته ، بی صبری زیاد ( ذکر هر یک از موارد دیگر صفحه ۳۱ )</p>	ر
۱/۵	<p><b>باتوجه به نمودار مقابل به سوالات پاسخ دهید:</b></p> <p>۱) الگوی مرز امکانات تولید ( ۲ ) ۵۵۰ عدد ( ۳ ) ۱۰۰۰ عدد</p>	ز
۱ ۱ ۱ ۱ ۱/۵	<p><b>سوالات تشریحی</b></p> <p>۱) هزینه فرصت یک انتخاب، ارزش بهترین گزینه بعدی است که شما آن را هنگام انتخاب از دست داده اید.</p> <hr/> <p>۲) به مجموعه ی خریداران (تقاضا کنندگان و مصرف کنندگان) و فروشندگان (رضه کنندگان، تولیدکنندگان) در یک مکان (حضور یا مجازی) بازار گفته می شود.</p> <hr/> <p>۳) به کالا و خدماتی که توسط افراد زیادی می تواند هم زمان استفاده شود و شما نمی توانید مردم را از استفاده آن محروم سازید، کالای عمومی گفته می شود.</p> <hr/> <p>۴) مالیات دو هدف اصلی دارد. اولین و مهم ترین هدف مالیات، افزایش درآمد دولت است. دیگر اینکه، مالیات می تواند باعث کاهش فعالیت های نامناسب و تشویق فعالیت های مطلوب شود. (کاهش سیگار کشیدن و افزایش مصرف شیر)</p> <hr/> <p>۵) تجارت موفق می تواند دسترسی به بازارهای وسیعتر را افزایش داده و با سود آوری بیشتر و کاهش هزینه ها به افزایش رفاه کمک نماید .</p>	ی

صفحه سوم پاسخ برگ سوالات اقتصاد

ادامه سوالات تشریحی

۱

۶) وقتی دو یا چند کشور با شرایط یکسان و برابر در (عوامل تولید، نیروی کار، سرمایه و دانش فنی) اقدام به تولید یک یا چند کالا می کنند کشوری که در تولید کلایی از کشورهای دیگر وضعیت بهتری قرار دارد این کشور در مقایسه با سایر کشورها در تولید آن کالاها دارای مزیت مطلق می باشد.

۱

۷) یکسان نبودن منابع و عوامل تولید در کشورها و نیز یکسان نبودن کشورها از نظر دسترسی به فناوری یا تفاوت های اقلیمی و آب و هوایی

مفق باشید \_ ذاکری

نمره با حروف:

نمره با عدد:



## اپلیکیشن درسی همیار

برنامه رایگان درسی همیار



**تمام پایه ها**

جواب کتاب ، تدریس و نمونه سوال



**همیشه رایگان**

برنامه همیار کاملا رایگان میباشد