

نام و نام خانوادگی دانش آموز:

بسمه تعالی

وزارت آموزش و پرورش

سازمان آموزش و پرورش استان مازندران

اداره آموزش و پرورش شهرستان قائم شهر

دبیرستان الزهرا

تاریخ امتحان: ۱۴۰۲/۱۰/۱۶

نوبت : اول

ساعت امتحان: ۸ صبح

مدت امتحان: ۶۰ دقیقه

نام دبیر: خانم حیدری

تعداد صفحه : ۲

کلاس : ۰۵ / ۰۴

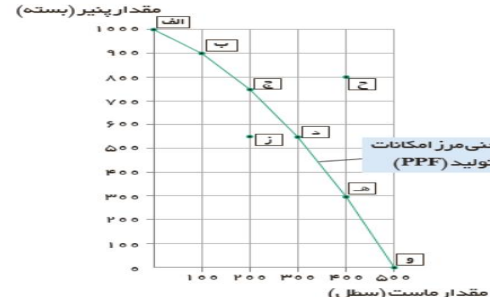
رشته: انسانی

پایه : دهم

نام درس : اقتصاد

محل مهر
آموزشگاه

بارم	شرح سوالات	ردیف								
۰/۵	صحیح یا غلط بودن عبارات زیر را مشخص نمایید. (هر سوال ۰/۲۵ نمره) الف) پولی را که تولید کننده برای تولید صرف می کند هزینه های تولید نام دارد. ص <input type="radio"/> غ <input type="radio"/> ب) وقتی تولید ناکارا باشد این امکان وجود ندارد که حداقل بیشتر از یک کالا تولید شود. ص <input type="radio"/> غ <input type="radio"/>	۱								
۰/۷۵	گزینه صحیح را انتخاب نمایید. (هر سوال ۰/۲۵ نمره) ۱- " کارآفرینان نظم ، انضباط ، پایداری ، اشتیاق و توانایی حل مسئله دارند " مربوط به کدام ویژگی مشترک کارآفرینان موفق می باشد؟ الف (تیزبین <input type="radio"/> خوش بین <input type="radio"/> ج) سازمان دهنده <input type="radio"/> د) پرانگیزه <input type="radio"/> ۲- مالیاتی که معمولا برای حمایت از صنایع داخلی به کار گرفته می شود کدام نوع مالیات است؟ الف-مالیات بر مصرف <input type="radio"/> ب-مالیات بر ارزش افزوده <input type="radio"/> ج-عوارض گمرکی <input type="radio"/> د-مالیات بر درآمد اشخاص <input type="radio"/> ۳- کالا و خدماتی که توسط افراد زیادی می تواند همزمان استفاده شود و نمی توان مردم را از استفاده از آن محروم کرد گفته می شود. الف) کالای معمولی <input type="radio"/> ب) کالای عمومی <input type="radio"/> ج) کالای پست <input type="radio"/> د) کالای مکمل <input type="radio"/>	۲								
۱/۵	جاهای خالی را با عبارت مناسب کامل نمایید. (هر سوال ۰/۵ نمره) الف- کسب و کاری که با هدف تامین نیازمندی های اعضا تشکیل می شود و به بهبود وضعیت اقتصادی آنها کمک می کند نام دارد. ب- مرزی که بین آنچه یک کسب و کار با استفاده از منابع موجود و در دسترس می تواند تولید کند و آنچه نمی تواند تولید کند را می گویند. ج-مقدار تقاضا از یک کالا با قیمت آن رابطه ی عکس دارد به این رابطه می گویند.	۳								
۱/۵	به صورت کوتاه پاسخ دهید. (هر سوال ۰/۵ نمره) الف- مشاغلی مانند تعمیرکاران ، کشاورزان و حسابداران از چه نوع کسب و کاری هستند؟ ب- " سرمایه گذاری در زمینه های پرخطر، بدون آمادگی لازم " مربوط به کدام تصمیمات غیرمنطقی می باشد؟ ج- مهم ترین نوع مالیات چه نوع مالیاتی است؟	۴								
۱	با توجه به انواع کسب و کار ، هر یک از عبارات سمت راست را به موارد سمت چپ وصل کنید. (حروف مورد نظر را در داخل پرانتز بنویسید.) <table border="1" style="width: 100%;"> <tr> <td>الف- مزایای کسب و کار شخصی</td> <td>۱) مشکل تامین مالی ()</td> </tr> <tr> <td>ب- معایب ایجاد شرکت</td> <td>۲) آزادی عمل و سهولت در تصمیم گیری ()</td> </tr> <tr> <td>ج- معایب کسب و کار شخصی</td> <td>۳) مسئولیت محدود برای سهامداران ()</td> </tr> <tr> <td>د- مزایای ایجاد شرکت</td> <td>۴) تقسیم سود به تناسب مالکیت سهام ()</td> </tr> </table>	الف- مزایای کسب و کار شخصی	۱) مشکل تامین مالی ()	ب- معایب ایجاد شرکت	۲) آزادی عمل و سهولت در تصمیم گیری ()	ج- معایب کسب و کار شخصی	۳) مسئولیت محدود برای سهامداران ()	د- مزایای ایجاد شرکت	۴) تقسیم سود به تناسب مالکیت سهام ()	۵
الف- مزایای کسب و کار شخصی	۱) مشکل تامین مالی ()									
ب- معایب ایجاد شرکت	۲) آزادی عمل و سهولت در تصمیم گیری ()									
ج- معایب کسب و کار شخصی	۳) مسئولیت محدود برای سهامداران ()									
د- مزایای ایجاد شرکت	۴) تقسیم سود به تناسب مالکیت سهام ()									
۱	سهام یک شرکت نشان دهنده چه چیزی است؟ با ذکر مثال.	۶								
۱/۵	انواع منابع یا عوامل تولید را با ذکر مثال توضیح دهید.	۷								
۱	با توجه به تصمیم گیریهای منطقی و مقایسه منافع و هزینه ها ، دو نوع گسترده از انواع تصمیمات را بنویسید.	۸								
<table border="1" style="width: 100%;"> <tr> <td rowspan="2">نمره ورقه</td> <td>به عدد</td> <td></td> </tr> <tr> <td>به حروف</td> <td></td> </tr> <tr> <td rowspan="2">نام دبیر و امضا</td> <td>تاریخ</td> <td></td> </tr> </table>		نمره ورقه	به عدد		به حروف		نام دبیر و امضا	تاریخ		
نمره ورقه	به عدد									
	به حروف									
نام دبیر و امضا	تاریخ									
	<table border="1" style="width: 100%;"> <tr> <td rowspan="2">نمره تجدید نظر</td> <td>به عدد</td> <td></td> </tr> <tr> <td>به حروف</td> <td></td> </tr> <tr> <td rowspan="2">نام دبیر و امضا</td> <td>تاریخ</td> <td></td> </tr> </table>		نمره تجدید نظر	به عدد		به حروف		نام دبیر و امضا	تاریخ	
نمره تجدید نظر	به عدد									
	به حروف									
نام دبیر و امضا	تاریخ									

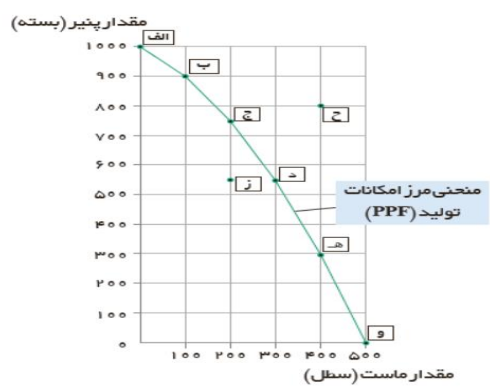
۱	<p>فعالیت سالانه یک بنگاه تولیدی را در نظر بگیرید و با توجه به اطلاعات داده شده محاسبه نمایید ؛</p> <p>الف) میزان درآمد سالانه این بنگاه چقدر است؟</p> <p>ب) فعالیت این بنگاه سودآور است یا زیان ده؟</p> <p>پرداخت حقوق = ۱۰ کارگر که حقوق سالانه هر یک ۱۵ میلیون تومان است.</p> <p>خرید ماشین آلات = ۲۰۰ میلیون تومان</p> <p>خرید مواد اولیه = ۵۰ میلیون تومان</p> <p>اجاره کارگاه و هزینه های جانبی = ۵۰ میلیون</p> <p>تولید کالا = در طول سال ۴۰۰۰ واحد</p> <p>قیمت هر واحد کالا = ۲۰۰۰۰۰ تومان</p>	۹																									
۰/۷۵	<p>با توجه به نمودار به سوالات پاسخ دهید.</p> <p>الف) چرا دستیابی به نقطه ح غیر ممکن است؟ ۰/۲۵ نمره</p> <p>ب) ذر کجای مرز امکانات تولید در نمودار قرار بگیریم تا در حالت کارآیی باشیم؟ ۰/۲۵ نمره</p> <p>ج) با جابجایی از نقطه "و" به نقطه "ه" چه تعداد پنیر بیشتری تولید می شود؟ ۰/۲۵ نمره</p> 	۱۰																									
۱	سیاست گذاران معمولاً از چه طریقی مقدار تقاضا و مصرف کالایی را کم می کنند؟	۱۱																									
۱	اگر مقدار عرضه کالایی از مقدار تقاضای آن بیشتر باشد، در بازار چه اتفاقی رخ می دهد؟ توضیح دهید.	۱۲																									
۱/۵	<table border="1" data-bbox="178 1176 698 1480"> <thead> <tr> <th>قیمت بستنی</th> <th>مقدار تقاضا (D)</th> <th>مقدار عرضه (S)</th> </tr> </thead> <tbody> <tr> <td>۰</td> <td>۱۶</td> <td>۰</td> </tr> <tr> <td>۵۰۰</td> <td>۱۴</td> <td>۲</td> </tr> <tr> <td>۱۰۰۰</td> <td>۱۱</td> <td>۵</td> </tr> <tr> <td>۱۵۰۰</td> <td>۸</td> <td>۸</td> </tr> <tr> <td>۲۰۰۰</td> <td>۵</td> <td>۱۱</td> </tr> <tr> <td>۲۵۰۰</td> <td>۲</td> <td>۱۴</td> </tr> <tr> <td>۳۰۰۰</td> <td>۰</td> <td>۱۶</td> </tr> </tbody> </table>	قیمت بستنی	مقدار تقاضا (D)	مقدار عرضه (S)	۰	۱۶	۰	۵۰۰	۱۴	۲	۱۰۰۰	۱۱	۵	۱۵۰۰	۸	۸	۲۰۰۰	۵	۱۱	۲۵۰۰	۲	۱۴	۳۰۰۰	۰	۱۶	<p>با توجه به جدول ، به سوالات زیر پاسخ دهید.</p> <p>الف) قیمت تعادلی کدام است؟ ۰/۲۵ نمره</p> <p>ب) مقدار تعادلی کدام است؟ ۰/۲۵ نمره</p> <p>ج) در کدام سطوح قیمتی ، مازاد عرضه و در کدام سطوح قیمتی کمبود عرضه وجود دارد؟ ۱ نمره</p>	۱۳
قیمت بستنی	مقدار تقاضا (D)	مقدار عرضه (S)																									
۰	۱۶	۰																									
۵۰۰	۱۴	۲																									
۱۰۰۰	۱۱	۵																									
۱۵۰۰	۸	۸																									
۲۰۰۰	۵	۱۱																									
۲۵۰۰	۲	۱۴																									
۳۰۰۰	۰	۱۶																									
۱	مالیات مستقیم و مالیات غیرمستقیم چه تفاوتی با هم دارند؟	۱۴																									
۱/۵	اهداف اصلی دولت از دریافت مالیات از مردم را بنویسید.	۱۵																									
۱/۵	چه دلایلی موجب می شود که کشورها با یکدیگر وارد مبادله شوند؟	۱۶																									
۱	عدم رعایت اصل مزیت های مطلق و نسبی چه پیامدهایی دارد؟	۱۷																									
۱	چرا اقتصاد تک محصولی در فضای جهانی ، اقتصادی شکننده و آسیب پذیر است؟	۱۸																									
۲۰	جمع نمره	موفق باشید																									

<p>بسمه تعالی</p> <p>وزارت آموزش و پرورش</p> <p>سازمان آموزش و پرورش استان مازندران</p> <p>اداره آموزش و پرورش شهرستان قائم شهر</p> <p>دبیرستان الزهرا</p>		<p>راهنمای تصحیح سؤالات امتحان داخلی درس : اقتصاد</p> <p>تاریخ امتحان: ۱۴۰۲ / ۱۰ / ۱۶</p>								
<p>نوبت : اول</p> <p>ساعت امتحان: ۸ صبح</p> <p>نام دبیر: خاتم حیدری</p>		<p>رشته: انسانی</p> <p>تعداد صفحه : ۳</p>								
بارم	صفحه اول	راهنمای تصحیح								
۰/۵		<p>۱ صحیح یا غلط بودن عبارات زیر را مشخص نمایید. (هر سوال ۰/۲۵ نمره)</p> <p>الف) ص</p> <p>ب) غ</p>								
۰/۷۵		<p>۲ گزینه صحیح را انتخاب نمایید. (هر سوال ۰/۲۵ نمره)</p> <p>۱- د- پرانگیزه</p> <p>۲- ج- عوارض گمرکی</p> <p>۳- ب- کالای عمومی</p>								
۱/۵		<p>۳ جاهای خالی را با عبارت مناسب کامل نمایید. (هر سوال ۰/۵ نمره)</p> <p>الف- تعاونی</p> <p>ب- مرز امکانات تولید</p> <p>ج- قانون تقاضا</p>								
۱/۵		<p>۴ به صورت کوتاه پاسخ دهید. (هر سوال ۰/۵ نمره)</p> <p>الف- کسب و کار شخصی</p> <p>ب- اعتماد به نفس بیش از حد یا خودرایی بودن</p> <p>ج- مهم ترین نوع مالیات ، مالیات بر درآمد اشخاص می باشد.</p>								
۱		<p>۵ هر یک از عبارات سمت راست را به موارد سمت چپ وصل کنید. (حروف مورد نظر را در داخل پرانتز بنویسید.)</p> <table border="1"> <tr> <td>الف- مزایای کسب و کار شخصی</td> <td>۱) مشکل تامین مالی (ج)</td> </tr> <tr> <td>ب- معایب ایجاد شرکت</td> <td>۲) آزادی عمل و سهولت در تصمیم گیری (الف)</td> </tr> <tr> <td>ج- معایب کسب و کار شخصی</td> <td>۳) مسئولیت محدود برای سهامداران (د)</td> </tr> <tr> <td>د- مزایای ایجاد شرکت</td> <td>۴) تقسیم سود به تناسب مالکیت سهام (ب)</td> </tr> </table>	الف- مزایای کسب و کار شخصی	۱) مشکل تامین مالی (ج)	ب- معایب ایجاد شرکت	۲) آزادی عمل و سهولت در تصمیم گیری (الف)	ج- معایب کسب و کار شخصی	۳) مسئولیت محدود برای سهامداران (د)	د- مزایای ایجاد شرکت	۴) تقسیم سود به تناسب مالکیت سهام (ب)
الف- مزایای کسب و کار شخصی	۱) مشکل تامین مالی (ج)									
ب- معایب ایجاد شرکت	۲) آزادی عمل و سهولت در تصمیم گیری (الف)									
ج- معایب کسب و کار شخصی	۳) مسئولیت محدود برای سهامداران (د)									
د- مزایای ایجاد شرکت	۴) تقسیم سود به تناسب مالکیت سهام (ب)									
۱		<p>۶ سهام یک سند مالکیت است و نشان می دهد که دارنده آن ، بخشی از مالکیت شرکت را در اختیار دارد و در سود و زیان آن شریک است. مثلا اگر دارایی شرکتی به ۱۰۰۰۰۰۰ سهم تقسیم شده باشد سرمایه گذاری که ۱۰۰۰۰۰ سهم آن را خریداری می کند مالک ۱۰ درصد شرکت است.</p>								
۱/۵		<p>۷ انواع منابع یا عوامل تولید : ۱- منابع طبیعی مانند زمین کشاورزی</p> <p>۲- نیروی کار مانند کشاورزانی که بر روی زمین کار می کنند.</p> <p>۳- سرمایه شامل سرمایه فیزیکی مانند تراکتور و سرمایه انسانی مانند دانش و مهارت انسانی</p>								
۱		<p>۸ دو نوع گسترده از انواع تصمیمات : ۱- یک انتخاب از میان گزینه های مختلف ۲- انتخاب چه مقدار از هر چیز.</p>								

<p>۱</p>	<p>فعالیت سالانه یک بنگاه تولیدی را در نظر بگیرید و با توجه به اطلاعات داده شده محاسبه نمایید ؛</p> <p>الف) میزان درآمد سالانه این بنگاه چقدر است؟ ب) فعالیت این بنگاه سودآور است یا زیان ده؟</p> <p>میلیون $10 \times 15 = 150$</p> <p>هزینه ها $150 + 200 + 50 + 50 = 450$ میلیون</p> <p>درآمد سالانه $4000 \times 200000 = 800000000$</p> <p>هزینه - درآمد = سود یا ضرر $800000000 - 450000000 = 350000000$</p> <p>فعالیت بنگاه سودآور است.</p>	<p>۹</p>
----------	--	----------

پرداخت حقوق = ۱۰ کارگر که حقوق سالانه هر یک ۱۵ میلیون تومان است.
خرید ماشین آلات = ۲۰۰ میلیون تومان
خرید مواد اولیه = ۵۰ میلیون تومان
اجاره کارگاه و هزینه های جانبی = ۵۰ میلیون
تولید کالا = در طول سال ۴۰۰۰ واحد
قیمت هر واحد کالا = ۲۰۰۰۰۰ تومان

<p>۰/۷۵</p>	<p>با توجه به نمودار به سوالات پاسخ دهید.</p> <p>الف) چرا دستیابی به نقطه ح غیر ممکن است؟ ۰/۲۵ نمره چون منابع کافی برای تولید آن وجود ندارد.</p> <p>ب) ذر کجای مرز امکانات تولید در نمودار قرار بگیریم تا در حالت کارآیی باشیم؟ ۰/۲۵ نمره روی مرز امکانات تولید</p> <p>ج) با جابجایی از نقطه "و" به نقطه "ه" چه تعداد پنیر بیشتری تولید می شود؟ ۰/۲۵ نمره از نقطه "و" به "ه" ۳۰۰ پنیر تولید می شود.</p>	<p>۱۰</p>
-------------	---	-----------



<p>۱</p>	<p>سیاست گذاران معمولاً از دو راه مقدار تقاضا و مصرف کالایی را کم می کنند، یکی از راه آگاه سازی مردم به زیان های آن کالا مانند سیگار و دیگری با بالا بردن قیمت آن از طریق وضع مالیات .</p>	<p>۱۱</p>
<p>۱</p>	<p>اگر مقدار عرضه کالایی از مقدار تقاضای آن بیشتر باشد، در بازار مازاد رخ می دهد و همین سبب می شود برخی از تولیدکنندگان از قیمت خود کم کنند تا بتوانند با پیدا کردن مشتری کالای بیشتری را بفروشند.</p>	<p>۱۲</p>

مقدار عرضه (S)	مقدار تقاضا (D)	قیمت بستنی
۰	۱۶	۰
۲	۱۴	۵۰۰
۵	۱۱	۱۰۰۰
۸	۸	۱۵۰۰
۱۱	۵	۲۰۰۰
۱۴	۲	۲۵۰۰
۱۶	۰	۳۰۰۰

<p>۱/۵</p>	<p>با توجه به جدول ، به سوالات زیر پاسخ دهید.</p> <p>الف) قیمت تعادلی کدام است؟ (۰/۲۵ نمره) ۱۵۰۰</p> <p>ب) مقدار تعادلی کدام است؟ (۰/۲۵ نمره) ۸</p> <p>ج) در کدام سطوح قیمتی ، مازاد عرضه و در کدام سطوح قیمتی کمبود عرضه وجود دارد؟ ۱ نمره در سطوح ۰ تا ۱۰۰۰ کمبود عرضه و در سطوح ۲۰۰۰ تا ۳۰۰۰ مازاد عرضه وجود دارد.</p>	<p>۱۳</p>
------------	--	-----------

	ادامه راهنمای تصحیح سوالات آزمون درس اقتصاد	صفحه سوم
۱	<p>۱۴ مالیات مستقیم - مبلغی به عنوان مالیات از درآمد و دارایی افراد دریافت می شود.</p> <p>مالیات غیرمستقیم - مالیات به صورت بخشی از قیمت کالا از مشتری گرفته می شود.</p>	
۱/۵	<p>۱۵ اهداف اصلی دولت از دریافت مالیات از مردم:</p> <p>۱- افزایش درآمد دولت</p> <p>۲- کاهش فعالیت های نامناسب و تشویق فعالیت های مطلوب</p> <p>۳- کاهش نابرابری ها و فاصله های اقتصادی و اجتماعی</p>	
۱/۵	<p>۱۶ یکسان نبودن منابع و عوامل تولید در کشورها - یکسان نبودن کشورها از نظر دسترسی به فناوری - تفاوت های اقلیمی و آب و هوایی</p>	
۱	<p>۱۷ اگر اصل مزیت های مطلق و نسبی رعایت نشود ؛ اولاً از منابع و سرمایه ها به بهترین نحو ممکن استفاده نمی شود که به نوعی هدررفت آنها محسوب می شود (چرا که منابع کمیاب هستند) ثانیاً با تولید محصولات کمتر و بی کیفیت تر ، رفاه جامعه کاهش می یابد.</p>	
۱	<p>۱۸ اقتصاد تک محصولی در فضای جهانی ، اقتصادی شکننده و آسیب پذیر است؛ زیرا اقتصاد تک محصولی در مواقع بحرانی امکان تاب آوری و انعطاف پذیری مقابل تکانه ها و مشکلات و تحریم ها را ندارد.</p>	
۲۰	<p>جمع نمره</p> <p>موفق باشید</p>	

نام و نام خانوادگی دانش آموز:

بسمه تعالی

وزارت آموزش و پرورش

سازمان آموزش و پرورش استان مازندران

اداره آموزش و پرورش شهرستان قائم شهر

دبیرستان الزهرا

تاریخ امتحان: ۱۴۰۲/۱۰/۱۶

نوبت : اول

ساعت امتحان: ۸ صبح

مدت امتحان: ۶۰ دقیقه

نام دبیر: خانم حیدری

تعداد صفحه : ۲

کلاس : ۰۵ / ۰۴

رشته: انسانی

پایه : دهم

نام درس : اقتصاد

محل مهر
آموزشگاه

بارم	شرح سوالات	ردیف								
۰/۵	صحیح یا غلط بودن عبارات زیر را مشخص نمایید. (هر سوال ۰/۲۵ نمره) الف) پولی را که تولید کننده برای تولید صرف می کند هزینه های تولید نام دارد. ص <input type="radio"/> غ <input type="radio"/> ب) وقتی تولید ناکارا باشد این امکان وجود ندارد که حداقل بیشتر از یک کالا تولید شود. ص <input type="radio"/> غ <input type="radio"/>	۱								
۰/۷۵	گزینه صحیح را انتخاب نمایید. (هر سوال ۰/۲۵ نمره) ۱- " کارآفرینان نظم ، انضباط ، پایداری ، اشتیاق و توانایی حل مسئله دارند " مربوط به کدام ویژگی مشترک کارآفرینان موفق می باشد؟ الف (تیزبین <input type="radio"/> خوش بین <input type="radio"/> ج) سازمان دهنده <input type="radio"/> د) پرانگیزه <input type="radio"/> ۲- مالیاتی که معمولا برای حمایت از صنایع داخلی به کار گرفته می شود کدام نوع مالیات است؟ الف-مالیات بر مصرف <input type="radio"/> ب-مالیات بر ارزش افزوده <input type="radio"/> ج-عوارض گمرکی <input type="radio"/> د-مالیات بر درآمد اشخاص <input type="radio"/> ۳- کالا و خدماتی که توسط افراد زیادی می تواند همزمان استفاده شود و نمی توان مردم را از استفاده از آن محروم کرد گفته می شود. الف) کالای معمولی <input type="radio"/> ب) کالای عمومی <input type="radio"/> ج) کالای پست <input type="radio"/> د) کالای مکمل <input type="radio"/>	۲								
۱/۵	جاهای خالی را با عبارت مناسب کامل نمایید. (هر سوال ۰/۵ نمره) الف- کسب و کاری که با هدف تامین نیازمندی های اعضا تشکیل می شود و به بهبود وضعیت اقتصادی آنها کمک می کند نام دارد. ب- مرزی که بین آنچه یک کسب و کار با استفاده از منابع موجود و در دسترس می تواند تولید کند و آنچه نمی تواند تولید کند را می گویند. ج-مقدار تقاضا از یک کالا با قیمت آن رابطه ی عکس دارد به این رابطه می گویند.	۳								
۱/۵	به صورت کوتاه پاسخ دهید. (هر سوال ۰/۵ نمره) الف- مشاغلی مانند تعمیرکاران ، کشاورزان و حسابداران از چه نوع کسب و کاری هستند؟ ب- " سرمایه گذاری در زمینه های پرخطر، بدون آمادگی لازم " مربوط به کدام تصمیمات غیرمنطقی می باشد؟ ج- مهم ترین نوع مالیات چه نوع مالیاتی است؟	۴								
۱	با توجه به انواع کسب و کار ، هر یک از عبارات سمت راست را به موارد سمت چپ وصل کنید. (حروف مورد نظر را در داخل پرانتز بنویسید.) <table border="1" style="width: 100%;"> <tr> <td>الف- مزایای کسب و کار شخصی</td> <td>۱) مشکل تامین مالی ()</td> </tr> <tr> <td>ب- معایب ایجاد شرکت</td> <td>۲) آزادی عمل و سهولت در تصمیم گیری ()</td> </tr> <tr> <td>ج- معایب کسب و کار شخصی</td> <td>۳) مسئولیت محدود برای سهامداران ()</td> </tr> <tr> <td>د- مزایای ایجاد شرکت</td> <td>۴) تقسیم سود به تناسب مالکیت سهام ()</td> </tr> </table>	الف- مزایای کسب و کار شخصی	۱) مشکل تامین مالی ()	ب- معایب ایجاد شرکت	۲) آزادی عمل و سهولت در تصمیم گیری ()	ج- معایب کسب و کار شخصی	۳) مسئولیت محدود برای سهامداران ()	د- مزایای ایجاد شرکت	۴) تقسیم سود به تناسب مالکیت سهام ()	۵
الف- مزایای کسب و کار شخصی	۱) مشکل تامین مالی ()									
ب- معایب ایجاد شرکت	۲) آزادی عمل و سهولت در تصمیم گیری ()									
ج- معایب کسب و کار شخصی	۳) مسئولیت محدود برای سهامداران ()									
د- مزایای ایجاد شرکت	۴) تقسیم سود به تناسب مالکیت سهام ()									
۱	سهام یک شرکت نشان دهنده چه چیزی است؟ با ذکر مثال.	۶								
۱/۵	انواع منابع یا عوامل تولید را با ذکر مثال توضیح دهید.	۷								
۱	با توجه به تصمیم گیریهای منطقی و مقایسه منافع و هزینه ها ، دو نوع گسترده از انواع تصمیمات را بنویسید.	۸								
<table border="1" style="width: 100%;"> <tr> <td colspan="2" style="text-align: center;">نمره ورقه</td> </tr> <tr> <td style="width: 50%; text-align: center;">نام دبیر و امضا</td> <td style="width: 50%; text-align: center;">تاریخ</td> </tr> <tr> <td style="text-align: center;">به عدد</td> <td style="text-align: center;">به حروف</td> </tr> <tr> <td style="text-align: center;">به عدد</td> <td style="text-align: center;">به حروف</td> </tr> </table>		نمره ورقه		نام دبیر و امضا	تاریخ	به عدد	به حروف	به عدد	به حروف	
نمره ورقه										
نام دبیر و امضا	تاریخ									
به عدد	به حروف									
به عدد	به حروف									
<table border="1" style="width: 100%;"> <tr> <td colspan="2" style="text-align: center;">نمره تجدید نظر</td> </tr> <tr> <td style="width: 50%; text-align: center;">نام دبیر و امضا</td> <td style="width: 50%; text-align: center;">تاریخ</td> </tr> <tr> <td style="text-align: center;">به عدد</td> <td style="text-align: center;">به حروف</td> </tr> <tr> <td style="text-align: center;">به عدد</td> <td style="text-align: center;">به حروف</td> </tr> </table>		نمره تجدید نظر		نام دبیر و امضا	تاریخ	به عدد	به حروف	به عدد	به حروف	
نمره تجدید نظر										
نام دبیر و امضا	تاریخ									
به عدد	به حروف									
به عدد	به حروف									

۱	<p>۹ فعالیت سالانه یک بنگاه تولیدی را در نظر بگیرید و با توجه به اطلاعات داده شده محاسبه نمایید ؛</p> <p>الف) میزان درآمد سالانه این بنگاه چقدر است؟</p> <p>ب) فعالیت این بنگاه سودآور است یا زیان ده؟</p> <p>پرداخت حقوق = ۱۰ کارگر که حقوق سالانه هر یک ۱۵ میلیون تومان است.</p> <p>خرید ماشین آلات = ۲۰۰ میلیون تومان</p> <p>خرید مواد اولیه = ۵۰ میلیون تومان</p> <p>اجاره کارگاه و هزینه های جانبی = ۵۰ میلیون</p> <p>تولید کالا = در طول سال ۴۰۰۰ واحد</p> <p>قیمت هر واحد کالا = ۲۰۰۰۰۰ تومان</p>	۹																								
۰/۷۵	<p>۱۰ با توجه به نمودار به سوالات پاسخ دهید.</p> <p>الف) چرا دستیابی به نقطه ح غیر ممکن است؟ ۰/۲۵ نمره</p> <p>ب) ذر کجای مرز امکانات تولید در نمودار قرار بگیریم تا در حالت کارآیی باشیم؟ ۰/۲۵ نمره</p> <p>ج) با جابجایی از نقطه "و" به نقطه "ه" چه تعداد پنیر بیشتری تولید می شود؟ ۰/۲۵ نمره</p>	۱۰																								
۱	<p>۱۱ سیاست گذاران معمولاً از چه طریقی مقدار تقاضا و مصرف کالایی را کم می کنند؟</p>	۱۱																								
۱	<p>۱۲ اگر مقدار عرضه کالایی از مقدار تقاضای آن بیشتر باشد، در بازار چه اتفاقی رخ می دهد؟ توضیح دهید.</p>	۱۲																								
۱/۵	<p>۱۳ با توجه به جدول ، به سوالات زیر پاسخ دهید.</p> <p>الف) قیمت تعادلی کدام است؟ ۰/۲۵ نمره</p> <p>ب) مقدار تعادلی کدام است؟ ۰/۲۵ نمره</p> <p>ج) در کدام سطوح قیمتی ، مازاد عرضه و در کدام سطوح قیمتی کمبود عرضه وجود دارد؟ ۱ نمره</p> <table border="1" data-bbox="170 1176 714 1480"> <thead> <tr> <th>قیمت بستنی</th> <th>مقدار تقاضا (D)</th> <th>مقدار عرضه (S)</th> </tr> </thead> <tbody> <tr> <td>۰</td> <td>۱۶</td> <td>۰</td> </tr> <tr> <td>۵۰۰</td> <td>۱۴</td> <td>۲</td> </tr> <tr> <td>۱۰۰۰</td> <td>۱۱</td> <td>۵</td> </tr> <tr> <td>۱۵۰۰</td> <td>۸</td> <td>۸</td> </tr> <tr> <td>۲۰۰۰</td> <td>۵</td> <td>۱۱</td> </tr> <tr> <td>۲۵۰۰</td> <td>۲</td> <td>۱۴</td> </tr> <tr> <td>۳۰۰۰</td> <td>۰</td> <td>۱۶</td> </tr> </tbody> </table>	قیمت بستنی	مقدار تقاضا (D)	مقدار عرضه (S)	۰	۱۶	۰	۵۰۰	۱۴	۲	۱۰۰۰	۱۱	۵	۱۵۰۰	۸	۸	۲۰۰۰	۵	۱۱	۲۵۰۰	۲	۱۴	۳۰۰۰	۰	۱۶	۱۳
قیمت بستنی	مقدار تقاضا (D)	مقدار عرضه (S)																								
۰	۱۶	۰																								
۵۰۰	۱۴	۲																								
۱۰۰۰	۱۱	۵																								
۱۵۰۰	۸	۸																								
۲۰۰۰	۵	۱۱																								
۲۵۰۰	۲	۱۴																								
۳۰۰۰	۰	۱۶																								
۱	<p>۱۴ مالیات مستقیم و مالیات غیرمستقیم چه تفاوتی با هم دارند؟</p>	۱۴																								
۱/۵	<p>۱۵ اهداف اصلی دولت از دریافت مالیات از مردم را بنویسید.</p>	۱۵																								
۱/۵	<p>۱۶ چه دلایلی موجب می شود که کشورها با یکدیگر وارد مبادله شوند؟</p>	۱۶																								
۱	<p>۱۷ عدم رعایت اصل مزیت های مطلق و نسبی چه پیامدهایی دارد؟</p>	۱۷																								
۱	<p>۱۸ چرا اقتصاد تک محصولی در فضای جهانی ، اقتصادی شکننده و آسیب پذیر است؟</p>	۱۸																								
۲۰	<p>جمع نمره</p> <p>موفق باشید</p>																									

<p>بسمه تعالی وزارت آموزش و پرورش سازمان آموزش و پرورش استان مازندران اداره آموزش و پرورش شهرستان قائم شهر دبیرستان الزهرا</p>		<p>راهنمای تصحیح سؤالات امتحان داخلی درس : اقتصاد تاریخ امتحان: ۱۴۰۲ / ۱۰ / ۱۶</p>									
<p>نوبت : اول ساعت امتحان: ۸ صبح</p>		<p>پایه : دهم رشته: انسانی تعداد صفحه : ۳</p>									
بارم	صفحه اول	نام دبیر: خاتم حیدری	راهنمای تصحیح								
۰/۵	۱	صحیح یا غلط بودن عبارات زیر را مشخص نمایید. (هر سوال ۰/۲۵ نمره) الف) ص ب) غ									
۰/۷۵	۲	گزینه صحیح را انتخاب نمایید. (هر سوال ۰/۲۵ نمره) ۱- د- پرانگیزه ۲- ج- عوارض گمرکی ۳- ب- کالای عمومی									
۱/۵	۳	جاهای خالی را با عبارت مناسب کامل نمایید. (هر سوال ۰/۵ نمره) الف- تعاونی ب- مرز امکانات تولید ج- قانون تقاضا									
۱/۵	۴	به صورت کوتاه پاسخ دهید. (هر سوال ۰/۵ نمره) الف- کسب و کار شخصی ب- اعتماد به نفس بیش از حد یا خودرایی بودن ج- مهم ترین نوع مالیات ، مالیات بر درآمد اشخاص می باشد.									
۱	۵	هر یک از عبارات سمت راست را به موارد سمت چپ وصل کنید. (حروف مورد نظر را در داخل پرانتز بنویسید.)	<table border="1"> <tr> <td>الف- مزایای کسب و کار شخصی</td> <td>۱) مشکل تامین مالی (ج)</td> </tr> <tr> <td>ب- معایب ایجاد شرکت</td> <td>۲) آزادی عمل و سهولت در تصمیم گیری (الف)</td> </tr> <tr> <td>ج- معایب کسب و کار شخصی</td> <td>۳) مسئولیت محدود برای سهامداران (د)</td> </tr> <tr> <td>د- مزایای ایجاد شرکت</td> <td>۴) تقسیم سود به تناسب مالکیت سهام (ب)</td> </tr> </table>	الف- مزایای کسب و کار شخصی	۱) مشکل تامین مالی (ج)	ب- معایب ایجاد شرکت	۲) آزادی عمل و سهولت در تصمیم گیری (الف)	ج- معایب کسب و کار شخصی	۳) مسئولیت محدود برای سهامداران (د)	د- مزایای ایجاد شرکت	۴) تقسیم سود به تناسب مالکیت سهام (ب)
الف- مزایای کسب و کار شخصی	۱) مشکل تامین مالی (ج)										
ب- معایب ایجاد شرکت	۲) آزادی عمل و سهولت در تصمیم گیری (الف)										
ج- معایب کسب و کار شخصی	۳) مسئولیت محدود برای سهامداران (د)										
د- مزایای ایجاد شرکت	۴) تقسیم سود به تناسب مالکیت سهام (ب)										
۱	۶	سهام یک سند مالکیت است و نشان می دهد که دارنده آن ، بخشی از مالکیت شرکت را در اختیار دارد و در سود و زیان آن شریک است. مثلا اگر دارایی شرکتی به ۱۰۰۰۰۰۰ سهم تقسیم شده باشد سرمایه گذاری که ۱۰۰۰۰ سهم آن را خریداری می کند مالک ۱۰ درصد شرکت است.									
۱/۵	۷	انواع منابع یا عوامل تولید : ۱- منابع طبیعی مانند زمین کشاورزی ۲- نیروی کار مانند کشاورزانی که بر روی زمین کار می کنند. ۳- سرمایه شامل سرمایه فیزیکی مانند تراکتور و سرمایه انسانی مانند دانش و مهارت انسانی									
۱	۸	دو نوع گسترده از انواع تصمیمات : ۱- یک انتخاب از میان گزینه های مختلف ۲- انتخاب چه مقدار از هر چیز.									

۹ فعالیت سالانه یک بنگاه تولیدی را در نظر بگیرید و با توجه به اطلاعات داده شده محاسبه نمایید ؛

الف) میزان درآمد سالانه این بنگاه چقدر است؟
 ب) فعالیت این بنگاه سودآور است یا زیان ده؟

میلیون $10 \times 15 = 150$

هزینه ها $150 + 200 + 50 + 50 = 450$ میلیون

درآمد سالانه $4000 \times 200000 = 800000000$

هزینه - درآمد = سود یا ضرر
 $800000000 - 450000000 = 350000000$

فعالیت بنگاه سودآور است.

۱ پرداخت حقوق = ۱۰ کارگر که حقوق سالانه هر یک ۱۵ میلیون تومان است.
 خرید ماشین آلات = ۲۰۰ میلیون تومان
 خرید مواد اولیه = ۵۰ میلیون تومان
 اجاره کارگاه و هزینه های جانبی = ۵۰ میلیون
 تولید کالا = در طول سال ۴۰۰۰ واحد
 قیمت هر واحد کالا = ۲۰۰۰۰۰ تومان

۱۰ با توجه به نمودار به سوالات پاسخ دهید.

الف) چرا دستیابی به نقطه ح غیر ممکن است؟ ۰/۲۵ نمره
 چون منابع کافی برای تولید آن وجود ندارد.

ب) ذر کجای مرز امکانات تولید در نمودار قرار بگیریم تا در حالت کارآیی باشیم؟ ۰/۲۵ نمره
 روی مرز امکانات تولید

ج) با جابجایی از نقطه "و" به نقطه "ه" چه تعداد پنیر بیشتری تولید می شود؟ ۰/۲۵ نمره
 از نقطه "و" به "ه" ۳۰۰ پنیر تولید می شود.

۱۱ سیاست گذاران معمولاً از دو راه مقدار تقاضا و مصرف کالایی را کم می کنند، یکی از راه آگاه سازی مردم به زیان های آن کالا مانند سیگار و دیگری با بالا بردن قیمت آن از طریق وضع مالیات .

۱۲ اگر مقدار عرضه کالایی از مقدار تقاضای آن بیشتر باشد، در بازار مازاد رخ می دهد و همین سبب می شود برخی از تولیدکنندگان از قیمت خود کم کنند تا بتوانند با پیدا کردن مشتری کالای بیشتری را بفروشند.

۱۳ با توجه به جدول ، به سوالات زیر پاسخ دهید.

الف) قیمت تعادلی کدام است؟ (۰/۲۵ نمره)
 ۱۵۰۰

ب) مقدار تعادلی کدام است؟ (۰/۲۵ نمره) ۸

ج) در کدام سطوح قیمتی ، مازاد عرضه و در کدام سطوح قیمتی کمبود عرضه وجود دارد؟ ۱ نمره

در سطوح ۰ تا ۱۰۰۰ کمبود عرضه و در سطوح ۲۰۰۰ تا ۳۰۰۰ مازاد عرضه وجود دارد.


قیمت بستنی	مقدار تقاضا (D)	مقدار عرضه (S)
۰	۱۶	۰
۵۰۰	۱۴	۲
۱۰۰۰	۱۱	۵
۱۵۰۰	۸	۸
۲۰۰۰	۵	۱۱
۲۵۰۰	۲	۱۴
۳۰۰۰	۰	۱۶

	ادامه راهنمای تصحیح سوالات آزمون درس اقتصاد	صفحه سوم
۱	<p>۱۴ مالیات مستقیم - مبلغی به عنوان مالیات از درآمد و دارایی افراد دریافت می شود.</p> <p>مالیات غیرمستقیم - مالیات به صورت بخشی از قیمت کالا از مشتری گرفته می شود.</p>	
۱/۵	<p>۱۵ اهداف اصلی دولت از دریافت مالیات از مردم:</p> <p>۱- افزایش درآمد دولت</p> <p>۲- کاهش فعالیت های نامناسب و تشویق فعالیت های مطلوب</p> <p>۳- کاهش نابرابری ها و فاصله های اقتصادی و اجتماعی</p>	
۱/۵	<p>۱۶ یکسان نبودن منابع و عوامل تولید در کشورها - یکسان نبودن کشورها از نظر دسترسی به فناوری - تفاوت های اقلیمی و آب و هوایی</p>	
۱	<p>۱۷ اگر اصل مزیت های مطلق و نسبی رعایت نشود ؛ اولاً از منابع و سرمایه ها به بهترین نحو ممکن استفاده نمی شود که به نوعی هدررفت آنها محسوب می شود (چرا که منابع کمیاب هستند) ثانیاً با تولید محصولات کمتر و بی کیفیت تر ، رفاه جامعه کاهش می یابد.</p>	
۱	<p>۱۸ اقتصاد تک محصولی در فضای جهانی ، اقتصادی شکننده و آسیب پذیر است؛ زیرا اقتصاد تک محصولی در مواقع بحرانی امکان تاب آوری و انعطاف پذیری مقابل تکانه ها و مشکلات و تحریم ها را ندارد.</p>	
۲۰	<p>جمع نمره</p> <p>موفق باشید</p>	



اپلیکیشن درسی همیار

برنامه رایگان درسی همیار



تمام پایه ها

جواب کتاب ، تدریس و نمونه سوال



همیشه رایگان

برنامه همیار کاملا رایگان میباشد