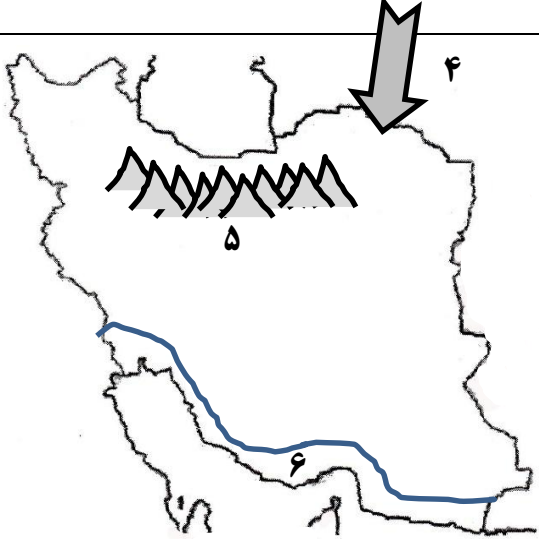



شماره صفحه : ۱	باسمه تعالی	تعداد صفحات : ۳
نام درس : جغرافیای ایران و استان شناسی	اداره کل آموزش و پرورش استان البرز	مدت امتحان : ۷۰ دقیقه
رشته : تجربی و انسانی پایه : دهم	مدیریت آموزش و پرورش ناحیه ۳ کرج	تاریخ امتحان : ۱۸ / ۱۰ / ۱۴۰۲
نام و نام خانوادگی :	سوالات دانش آموزان مدارس دوره دوم متوسطه	ساعت امتحان : ۸ صبح
کلاس :	هنرستان و دبیرستان شهید ثانی	نمره و امضاء:
شماره داوطلب :	نوبت اول (دی ماه ۱۴۰۲)	
نام دبیر : خانم کاری		

تذکر: پاسخ سوالات را با استفاده از خودکار مشکی یا آبی بنویسید

ردیف	سوالات	بارم
۱	در جاهای خالی عبارت مناسب قرار دهید. الف. و دو عامل مهم در علم جغرافیا است. ب. سؤال، به بررسی سیر تکوین و تحول پدیده می پردازد. ج. محل دقیق هر پدیده یا مکان، با توجه به طول و عرض جغرافیایی، موقعیت یا ریاضی آن مکان است. د. به سرزمین هموار یا نسبتاً همواری که حصار کوهستانی آن را فرا گرفته است، می گویند. هـ. یکی از عواملی که بر شیوه زندگی و فعالیت های انسان تاثیر بسزایی دارد، است.	۱/۵
۲	درست و نادرست بودن عبارات زیر را مشخص کنید. الف. اینکه «با افزایش ارتفاع دما کاهش می یابد» یک اصل آب و هواشناسی است. ب. پردازش اطلاعات گام سوم در پژوهش های جغرافیایی است. ج. درآمدها و دلارهای ناشی از صدور و فروش نفت خام، منطقه خلیج فارس را به صورت یکی از کانون های ثروتمند جهان در آورده است. د. جلگه ها یکی از بهترین مکان ها برای انجام فعالیت های اقتصادی هستند. هـ. اصطلاح آب و هوا به حالت آبی و زود گذر جو گفته می شود.	۱/۲۵
۳	گزینه مناسب را از داخل پرانتز انتخاب کنید. الف. (مکان - محیط جغرافیایی) از تعامل بین محیط طبیعی و محیط انسانی به وجود می آید. ب. (روش کتابخانه ای - روش میدانی) در تمامی پژوهش های علمی، مورد استفاده قرار می گیرد. ج. ایران در عرض جغرافیایی (۲۵ تا ۴۰ درجه شمالی - ۴۴ تا ۶۳ درجه شرقی) واقع شده است. د. یکی از زیبا ترین و فعال ترین پدیده های رشته کوه زاگرس (گل فشان ها - گنبدهای نمکی) است. هـ. (دشت لوت - دشت کویر) یکی از خشک ترین بیابان های ایران و از گرم ترین مناطق کره زمین است.	۱/۲۵
۴	جملات سمت راست را به جملات سمت چپ ارتباط دهید: (یک مورد اضافی است).	۱/۲۵
	الف- از ارزش های اقتصادی نواحی کوهستانی است؟	۱- قره داغ
	ب- از عوامل طبیعی تغییر دهنده زاگرس است؟	۲- ذخایر آب
	ج- از عوامل انسانی تغییر دهنده دشت هاست؟	۳- تراکم آبرفت
	د- از علل پیدایش جلگه هاست؟	۴- رودهای طغیانی
	ه - از کوه های شمال خراسان است؟	۵- آلا داغ
		۶- بوته کنی

ردیف	سوالات	بارم
۵	<p>گزینه درست را انتخاب کنید.</p> <p>الف. GIS مربوط به کدام شاخه جغرافیاست و با کدام یک از علوم بشری ارتباط دارد؟</p> <p>(۱) فنون جغرافیایی - هندسه (۲) جغرافیای طبیعی - علوم فضایی (۳) فنون جغرافیایی - علوم فضایی (۴) جغرافیای انسانی - هندسه</p> <p>ب. از بین شش سوال اساسی در جغرافیا کدام یک بر ماهیت هر پدیده یا مسئله، دلالت دارد؟</p> <p>(۱) چه چیز (۲) چرا (۳) چطور (۴) کجا</p> <p>ج. بزرگترین پهنه آبی محصور در خشکی است که به واسطه، تأمین ۹۰٪ از خاویار جهان اهمیت دارد؟</p> <p>(۱) خلیج فارس (۲) دریای عمان (۳) دریاچه ارومیه (۴) دریای خزر</p> <p>د. «ناهمواری های مریخی» در کدام منطقه از ناهمواری های ایران قرار دارند؟</p> <p>(۱) منطقه کوهستانی آذربایجان (۲) منطقه کوهستانی تالش (۳) کوه های بشاگرد (۴) کوه های مرکزی</p> <p>ه. برای مقابله با ریزگردها کدام راهکار زیر اثر کمتری دارد؟</p> <p>(۱) احیای تالاب ها و تأمین حقایق رودخانه های منطقه (۲) ایجاد باد شکن در مسیر بادهای (۳) اجرای طرح های مهار بیابان (۴) تغییر در شیوه کشت</p>	۱/۲۵
۶	<p>به سوالات زیر پاسخ کوتاه دهید:</p> <p>۱. واژه جغرافیا اولین بار توسط چه کسی ارائه شد؟</p> <p>۲. یک ابزار سنجش و گردآوری اطلاعات به روش میدانی را ذکر کنید؟</p> <p>۳. کشور ایران طولانی ترین خط مرزی را با چه کشوری دارد؟</p> <p>۴. قله سهند در کدام منطقه کوهستانی شمالی قرار دارد؟</p>	۱
۷	<p>هر یک از تعاریف زیر بیانگر کدام اصطلاح و مفاهیم جغرافیایی است؟</p> <p>الف. به یک واقعیت یا رویداد جغرافیایی که محسوس و مشهود شده باشد گفته می شود؟.....</p> <p>ب. پاسخ پیشنهادی و حدس اندیشمندانه محقق به سؤال تحقیق است؟.....</p> <p>ج. معمولاً به شکل گنبدی یا مخروطی شکل و در برخی جاها به صورت حوضچه های مملو از آب و گل مشاهده می شوند؟.....</p> <p>د. بخشی از بیابان است و به نمکزارهای پف کرده ای گفته می شود که تبخیر شدید، عامل اصلی شکل گیری آن است؟.....</p>	۲
۸	<p>چرا کشور ایران از موقعیت نسبی ممتازی در منطقه برخوردار است؟</p>	۱
۹	<p>دسترسی به آب های آزاد برای هر کشوری چه امکاناتی را برای آن کشور فراهم می کند؟(۳مورد)</p>	۰/۷۵
۱۰	<p>هر یک از ویژگی های زیر به کدام نواحی آب و هوایی ایران مربوط می شود؟</p> <p>(آب و هوای گرم و خشک - آب و هوای کوهستانی - آب و هوای گرم و شرجی - آب و هوای معتدل خزری)</p> <p>الف) میانگین دمای پایین ب) بارندگی زیاد ج) اختلاف شدید دما</p>	۰/۷۵
۱۱	<p>چه عواملی در ایجاد بیابان ها در ایران نقش دارد؟</p>	۱/۵

۱/۵		<p>سوالات مربوط به نقشه ایران</p> <p>الف. موارد زیر را روی نقشه نشان دهید:</p> <ol style="list-style-type: none"> ۱. زردکوه ۲. جلگه میناب ۳. دشت کویر <p>ب. موارد زیر را با توجه به نقشه پاسخ دهید:</p> <ol style="list-style-type: none"> ۴. نام توده هوا؟ ۵. نام رشته کوه؟ ۶. نام منطقه آب و هوایی؟ 	۱۲								
بارم	سوالات استان شناسی البرز		ردیف								
۰/۷۵	<p>الف) البرز در زبان باستانی به شکل بوده است .</p> <p>ب) چرا استان البرز از نظر موقعیت جغرافیایی (نسبی) جایگاه ویژه ای در کشور دارد؟ ۲ دلیل بیاورید؟</p>		۱								
۰/۵	<p>جدول زیر را کامل کنید.</p> <table border="1" data-bbox="203 882 852 1102"> <thead> <tr> <th>جهت جغرافیایی</th> <th>شمال</th> <th>غرب</th> </tr> </thead> <tbody> <tr> <td>استان‌های همسایه</td> <td>مازندران</td> <td>الف).....</td> </tr> <tr> <td>پدیده‌های طبیعی</td> <td>ب).....</td> <td>دشت قزوین ، دشت نظرآباد</td> </tr> </tbody> </table>	جهت جغرافیایی	شمال	غرب	استان‌های همسایه	مازندران	الف).....	پدیده‌های طبیعی	ب).....	دشت قزوین ، دشت نظرآباد	۲
جهت جغرافیایی	شمال	غرب									
استان‌های همسایه	مازندران	الف).....									
پدیده‌های طبیعی	ب).....	دشت قزوین ، دشت نظرآباد									
۱/۵	<p>الف) انواع ناهمواری در استان را نام ببرید؟</p> <p>ب) ۳ مورد از نقش ناهمواری های استان در زندگی مردم را ذکر کنید.</p>		۳								
۰/۵	انواع آب و هوای استان البرز را نام ببرید؟		۴								
۰/۷۵		<p>با توجه به نقشه استان به سوالات زیر پاسخ دهید:</p> <p>الف) دما از شمال به جنوب استان چه تغییری می کند؟</p> <p>ب) مقدار بارش در کدام بخش از استان بیشتر است؟</p> <p>ج) در کدام بخش های استان زمین های کویری به وجود آمده است؟</p>	۵								
۱	<p>الف) دو عامل موثر در بحران منابع آب های زیرزمینی استان ذکر کنید؟</p> <p>ب) یک اهمیت برای مراعات استان ذکر کنید؟</p> <p>ج) یک منطقه تحت مدیریت و شکار ممنوع در استان نام ببرید.</p>		۶								
موفق باشید											



کلید سوالات آزمون جغرافیای ایران و استان شناسی البرز

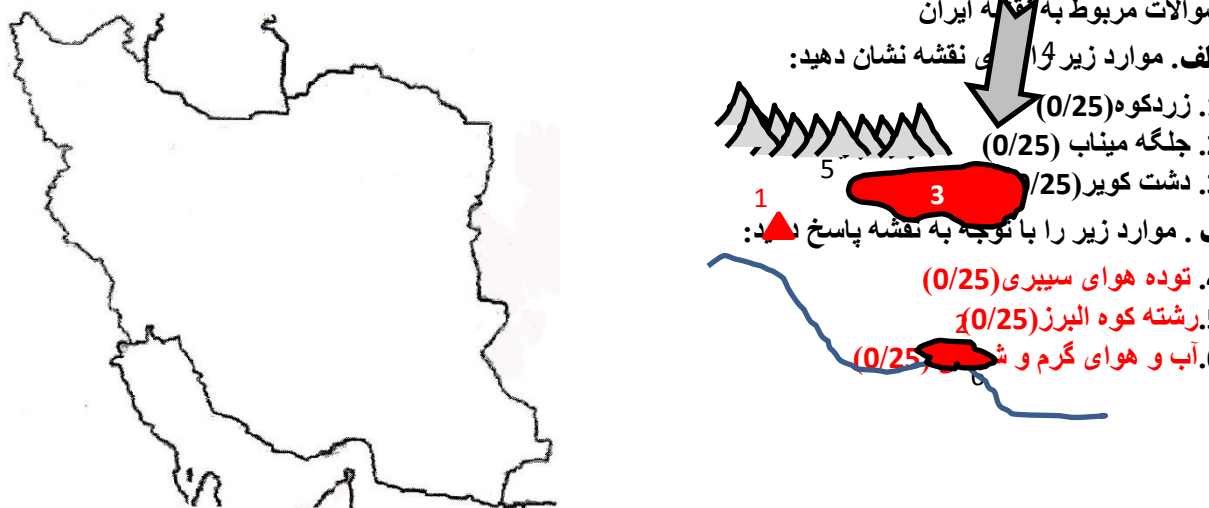
دهم نظری (کلیه رشته ها)

نوبت اول دی ماه 1402

هنرستان و دبیرستان شهید ثانی

خانم کاری

بارم	سوالات	ردیف
1/5	الف. انسان (0/25) و محیط (0/25) ب. چطور (0/25) ج. مطلق (0/25). د. دشت (0/25). ه. آب و هوا (0/25).	1
1/25	الف. نادرست (0/25) ب. نادرست (0/25) ه. نادرست (0/25) ج. درست (0/25) د. درست (0/25)	2
1/25	الف. محیط جغرافیایی (0/25) ب. روش کتابخانه ای (0/25) ج. 25 تا 40 درجه شمالی (0/25) د. گنبد های نمکی (0/25) ه. دشت لوت (0/25)	3
1/25	الف) 2- ذخایر آب (0/25) ب) 4- رود های طغیانی (0/25) ج) 6- بوته کنی (0/25) د) 3- تراکم آبرفت (0/25) ه) 5- آلاذغ (0/25)	4
1/25	الف. 3) فنون جغرافیایی- علوم فضایی (0/25) ب. 1) چه چیز (0/25) ج. 4) دریای خزر (0/25) د. 3) کوه های بشاگرد (0/25) ه. 2) ایجاد باد شکن در مسیر بادها (0/25)	5
1	1. اراتوستن (0/25) 2. مشاهده و پرسشنامه یا مصاحبه (0/25) 3. عراق (0/25) 4. منطقه کوهستانی آذربایجان (0/25)	6
2	الف. پدیده (0/5) ب. فرضیه (0/5) ج. گل فشان (0/5) د. کویر (0/5)	7
1	ایران به دلیل قرار گرفتن در مجاورت خلیج فارس (0/25)، دریای عمان (0/25)، تنگه هرمز (0/25) و نیز دریای خزر (0/25) از موقعیت نسبی ممتازی برخوردار است	8
0/75	علاوه بر امکان ارتباط (0/25) با سایر نقاط جهان (0/25)، دستیابی به منابع غذایی (0/25) ویا منابع معدنی و سوخت های فسیلی را نیز فراهم می کند	9
0/75	الف. آب و هوای سرد و کوهستانی (0/25) ب. آب و هوای معتدل خزری (0/25) ج. آب و هوای گرم و خشک (0/25)	10
1/5	پرفشار جنب حاره ای (0/5) جهت رشته کوه های البرز و زاگرس (0/5) دور بودن از دریاها و منابع رطوبتی (0/5)	11

1/5	<p>سوالات مربوط به نقشه ایران</p> <p>الف. موارد زیر را با توجه به نقشه نشان دهید:</p> <p>1. زردکوه (0/25)</p> <p>2. جلگه میناب (0/25)</p> <p>3. دشت کویر (0/25)</p> <p>ب. موارد زیر را با توجه به نقشه پاسخ دهید:</p> <p>4. توده هوای سیبری (0/25)</p> <p>5. رشته کوه البرز (0/25)</p> <p>6. آب و هوای گرم و خشک (0/25)</p> 	
بارم	کلید سوالات استان شناسی البرز	ردیف
0/75	<p>الف) هربرز (0/25)</p> <p>ب) 1- نزدیک ترین استان به مرکز سیاسی و اقتصادی کشور است. (0/25)</p> <p>2- دارای موقعیت ممتاز ارتباطی (قرار گرفتن در مسیر اصلی حمل و نقل کشور) است. (0/25)</p> <p>3- انواع فعالیت های اقتصادی در آن متمرکز است.</p> <p>4- این استان در دامنه جنوبی البرز قرار دارد و از منابع آب و دشت های حاصلخیز برخوردار است.</p>	1
0/5	الف) قزوین (0/25) ب) رشته کوه البرز (0/25)	2
1/5	<p>الف) کوهستانی (0/25) و پایکوهی (0/25) و دشت (0/25)</p> <p>ب) 1- تأمین منابع آب، 2- تعدیل درجه حرارت، 3- تأمین خاک، 4- محیط مناسب برای پرورش دام، 5- ایجاد زمینه های مناسب برای گردشگری</p>	3
0/5	1. آب و هوای معتدل کوهستانی (0/25) 2. آب و هوای نیمه بیابانی (0/25)	3
0/75	<p>الف) افزایش می یابد (0/25)</p> <p>ب) در بخش های شمالی استان (0/25)</p> <p>ج) در بخش جنوب غربی استان یا دشت های جنوبی (0/25)</p>	4
1	<p>الف) خشکسالی (0/25) و افزایش جمعیت (0/25) و آبیاری سنتی و افزایش سطح زیر کشت و بهره برداری غیر مجاز</p> <p>ب) چرای دام (0/25) و زیستگاه جانوران و جلوگیری از فرسایش خاک و تلطیف هوا و جلوگیری از سیل و نخیله آب</p> <p>ج) منطقه سوتک (0/25) و طالقان و حاشیه رودشور اشتهارد</p>	5
موفق باشید		



اپلیکیشن درسی همیار

برنامه رایگان درسی همیار



تمام پایه ها

جواب کتاب ، تدریس و نمونه سوال



همیشه رایگان

برنامه همیار کاملا رایگان میباشد