



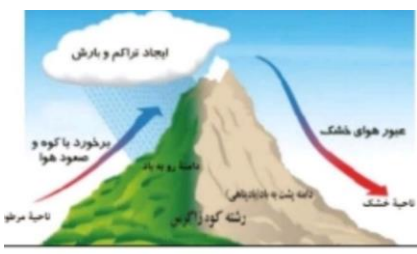



تاریخ امتحان: ۱۴ / ۱۰ / ۱۴۰۲	سؤالات درس: جغرافیای ایران و استان نوبت: دی ماه سال تحصیلی: ۱۴۰۲-۱۴۰۳
ساعت شروع: ۱۱:۳۰	پایه: دهم
زمان پاسخگویی: ۷۰ دقیقه	رشته: عمومی
تعداد سوال: ۱۹	نام و نام خانوادگی:
طراح: منیژه مرادی	کلاس:

نمره با عدد:	نمره با حروف:	نام دبیر و امضا:
--------------	---------------	------------------

ردیف	سؤالات	بارم
۱	<p>صحيح يا اشتباه بودن عبارات زیر را مشخص کنید .</p> <p>الف) خلیج فارس به واسطه مجاورت با آب های آزاد و وجود سواحل با قابلیت های دفاعی اهمیت زیادی برای ایران دارد .</p> <p>ب) کشاورزی از ارزش های اقتصادی دشتهای می باشد .</p> <p>ج) علم هندسه یکی از زیر شاخه های فنون جغرافیایی است .</p> <p>د) در اطراف خط استوا به دلیل گرم بودن و صعود هوا کمربند پرفشار حاره ای وجود دارد .</p>	۱
۲	<p>گزینه درست را انتخاب کنید .</p> <p>۱- کدام یک از کوههای زیر در شمال خراسان قرار دارد؟</p> <p>الف) قره داغ <input type="checkbox"/> ب) بغروداغ <input type="checkbox"/> ج) آلاداغ <input type="checkbox"/> د) ماسوله داغ <input type="checkbox"/></p> <p>۲- (تنوع آب و هوایی) (نقش ارتباطی بین ۳ قاره آفریقا - اروپا و آسیا) (وجود منابع انرژی فراوان) به ترتیب ناشی از کدام موقعیت جغرافیایی ایران هستند .</p> <p>الف) مطلق - ریاضی - نسبی <input type="checkbox"/> ب) ریاضی - نسبی - مطلق <input type="checkbox"/> ج) مطلق - نسبی - نسبی <input type="checkbox"/> د) نسبی - ریاضی - مطلق <input type="checkbox"/></p> <p>۳- در کدام مرحله از پژوهش جغرافیایی پژوهشگر از خود می پرسد این پژوهش چه اهمیتی دارد؟</p> <p>الف) طرح سوال و بیان مسئله <input type="checkbox"/> ب) تدوین فرضیه <input type="checkbox"/> ج) نتیجه گیری و ارائه پیشنهاد <input type="checkbox"/> د) پردازش اطلاعات <input type="checkbox"/></p> <p>۴- کوههای ارسباران - سبلان - دماوند و دنا به کدام نواحی کوهستانی ایران تعلق دارد؟ (به ترتیب نام برده شود)</p> <p>الف) تالش - البرز - البرز - زاگرس <input type="checkbox"/> ب) آذربایجان - تالش - البرز - تالش <input type="checkbox"/></p> <p>ج) زاگرس - آذربایجان - تالش - زاگرس <input type="checkbox"/> د) آذربایجان - آذربایجان - البرز - زاگرس <input type="checkbox"/></p>	۱
۳	<p>گزینه درست داخل پرانتز را انتخاب کنید .</p> <p>الف) در نواحی داخلی کشور به دلیل دور بودن از دریاها و کمبود رطوبت اختلاف دما ( زیاد - کم ) است.</p> <p>ب) سومین دوران زمین شناسی ( سنوزویک - مزوزویک ) نام دارد</p> <p>ج) سوال ( چه چیز - چطور ) به بررسی سیر تکوین و تحول پدیده می پردازد.</p> <p>د) ایران در جنوب منطقه معتدله نیمکره ( شمالی - جنوبی ) قرار دارد.</p>	۱

تاریخ امتحان: ۱۴ / ۱۰ / ۱۴۰۲		سؤالات درس: جغرافیای ایران و استان نوبت: دی ماه سال تحصیلی: ۱۴۰۲-۱۴۰۳		سازمان آموزش و پرورش استان کردستان مدیریت آموزش و پرورش شهرستان دهگلان	
ساعت شروع: ۱۱:۳۰		پایه: دهم		 دبیرستان نمونه دولتی پروین اعتصامی	
زمان پاسخگویی: ۷۰ دقیقه		رشته: عمومی			
تعداد سوال: ۱۹		نام و نام خانوادگی:			
طراح: منیژه مرادی		کلاس:			
				<input type="checkbox"/> دارد <input checked="" type="checkbox"/> ندارد	
		نام دبیر و امضا:		نمره با عدد:	
				نمره با حروف:	
بارم	سؤالات			ردیف	
۱	در جای خالی عبارت مناسب قرار دهید . الف) به یک واقعیت یا رویداد جغرافیایی که محسوس و مشهود باشد ..... گفته می شود. ب) محل قرار گرفتن هر پدیده در سطح کره زمین ..... آن پدیده است. ج) پاسخ پیشنهادی و حدس اندیشمندان محقق به سوال تحقیق را ..... می نامند. د) در جنوب استان سیستان و بلوچستان و اطراف چاله جازموریان در کرمان منطقه ..... قرار دارد .			۴	
۳	به سوالات زیر کوتاه پاسخ دهید . الف) تعریف جغرافیا از دیدگاه اراتوستن ب) چگونه محیط طبیعی به محیط جغرافیایی تبدیل می شود. ج) چرا تنگه هرمز یکی از گذرگاه های تجاری مهم جهان است؟ د) منظور از پردازش اطلاعات چیست؟ ه) دو توده مهم در منطقه کوهستانی آذربایجان را نام ببرید. ز) پنجمین و آخرین مرحله پژوهش چه نام دارد؟			۵	
۰/۷۵	منظور از دید ترکیبی چیست ؟			۶	
۰/۷۵	جلگه را تعریف کنید.			۷	
۱	دو مورد اهمیت دریای خزر را ذکر کنید			۸	

سؤالات درس : جغرافیای ایران و استان		سازمان آموزش و پرورش استان کردستان			
نوبت : دی ماه		مدیریت آموزش و پرورش شهرستان دهگلان			
سال تحصیلی: ۱۴۰۳-۱۴۰۲		 <p>دبیرستان نمونه دولتی پروین صیصامی</p>			
تاریخ امتحان: ۱۴ / ۱۰ / ۱۴۰۲					
ساعت شروع: ۱۱:۳۰				پایه : دهم	
زمان پاسخگویی: ۷۰ دقیقه				رشته : عمومی	
تعداد سوال: ۱۹				نام و نام خانوادگی:	
طراح: منیژه مرادی		کلاس:			
		پاسخنامه لازم: دارد <input type="checkbox"/> ندارد <input checked="" type="checkbox"/>			
نمره با عدد:		نمره با حروف:			
نام دبیر و امضا:					
ردیف	سؤالات		بارم		
۹	<p>باتوجه به نقشه پراکندگی های آب وهوای ایران .. نوع آب وهوای مشخص شده را نام برده و سه مورد از ویژگی های آنها بنویسید .</p>		۱		
					
۱۰	<p>با توجه به شکل روبه رو میزان بارش در دامنه های شرقی و غربی زاگرس را مقایسه کنید و علت آنها بگویید .</p>		۱/۵		
					
۱۱	<p>باتوجه به شکل ، منطقه کوهستانی چه نام دارد؟ و سه نقطه مشخص شده را طبق شماره ها نام ببرید .</p>		۱		
					
۱۲	<p>باتوجه به خصوصیات توده های هوای وارد شده به کشور سوالات ستون راست را به جوابهای ستون چپ وصل کنید ( یک مورد اضافی ست)</p> <p>۱- این توده هوا در ماههای سرد باعث بارش در سواحل خزر می شود.</p> <p>۲- این توده هوا در دوره گرم رطوبت اقیانوس هند را وارد ایران و موجب بارانهای سیلابی می شود.</p> <p>۳- این توده هوا در دوره سرد سال رطوبت دریای سرخ وارد و موجب بارش می شود.</p> <p>۴- این توده هوا رطوبت دریای مدیترانه و اقیانوس اطلس را وارد و موجب بارش باران و برف می شود</p> <p>الف) توده هوای سودانی</p> <p>ب) توده هوای مرطوب موسمی</p> <p>ج) توده هوای مرطوب غربی</p> <p>د) توده هوای سرد و خشک سیبری</p> <p>ر) توده هوای گرم و خشک</p>		۱		



تاریخ امتحان: ۱۴ / ۱۰ / ۱۴۰۲

سؤالات درس: جغرافیای ایران و استان

نوبت: دی ماه

سال تحصیلی: ۱۴۰۲-۱۴۰۳

ساعت شروع: ۱۱:۳۰

پایه: دهم

زمان پاسخگویی: ۷۰ دقیقه

رشته: عمومی

تعداد سوال: ۱۹

نام و نام خانوادگی:

طراح: منیژه مرادی

کلاس:

نام دبیر و امضا:

نمره با حروف:

نمره با عدد:

ردیف	سؤالات	بارم
۱۳	دانش آموزان عزیز به شکل نگاه کنید و به سوالات پاسخ دهید. (الف) نام پدیده؟ (۲۵/۰) (ب) این پدیده در کدام یک از ارتفاعات ایران مشاهده میشود؟ (۲۵/۰) (ج) علت تشکیل این پدیده چیست؟ (۵/۰)	۱
<b>سؤالات استان شناسی</b>		
۱	صحیح یا اشتباه بودن عبارات زیر را مشخص کنید. (الف) آب وهوای استان کردستان بیشتر متاثر از ارتفاع و جهت کوههای زاگرس و توده هوای مرطوب موسمی است. (ب) جنس ناهمواریهای بخش غربی استان اغلب رسوبی به ویژه از نوع آهک است.	۰/۵
۲	در جای خالی عبارت مناسب قرار دهید. (الف) ناهمواریهای استان کردستان در نتیجه حرکات کوهزایی اواخر دوره ..... به صورت قطعی تثبیت شد و سپس در طول دوره ..... تحت تاثیر عوامل فرسایش به صورت کنونی درآمد.	۰/۵
۳	گزینه درست داخل پرانتز را انتخاب کنید. (الف) زبان کوردی از زیر شاخه های خانواده زبانی (هندو اروپایی - هندو مادی) است. (ب) مراتع ییلاقی بیشتر در (نیمه غربی - نیمه شرقی) استان قرار دارد.	۰/۵
۴	ویژگی مهم و شاخص دشتهای شرقی استان که باعث تمایز آن با دشتهای غربی می شود چیست؟ دو مورد از محصولات اصلی دشتهای کشاورزی را نام ببرید.	۱
۵	مراسم پیر شالیار در چه ایامی برگزار می شود نام ببرید.	۱
۶	از عوامل انسانی که باعث تخریب جنگل ها و مراتع استان می شود ۳ مورد را نام ببرید.	۱/۵
	موفق باشید.	۲۰
	جمع بارم	

سازمان آموزش و پرورش استان کردستان  
مدیریت آموزش و پرورش شهرستان دهگلان



کلید درس: جغرافیای ایران و استان  
نوبت: دی ماه  
سال تحصیلی: ۱۴۰۲-۱۴۰۳

تاریخ امتحان: ۱۴ / ۱۰ / ۱۴۰۲



پایه: دهم

ساعت شروع: ۱۱:۳۰

رشته: عمومی

زمان پاسخگویی: ۷۰ دقیقه

نام و نام خانوادگی:

تعداد سوال: ۱۹

کلاس:

طراح: منیژه مرادی

ندارد

پاسخنامه لازم: دارد

نمره با عدد:

نمره با حروف:

نام دبیر و امضا:

ردیف

سؤالات

بارم

کلید سوال اول (هر مورد ۲۵٪)

الف) اشتباه (ب) درست (ج) اشتباه (د) اشتباه

کلید سوال دوم (هر مورد ۲۵٪)

۱- ج ۲- ج ۳- الف ۴- د

کلید سوال سوم (هر مورد ۲۵٪)

الف) زیاد (ب) سنوزویک (ج) چطور (د) شمالی

کلید سوال چهارم (هر مورد ۲۵٪)

الف) پدیده (ب) موقعیت جغرافیایی (ج) فرضیه (د) مکران

کلید سوال پنجم

الف) علم مطالعه زمین (۲۵٪) به عنوان جایگاه انسان (۲۵٪)

ب) از تعامل محیط طبیعی (۲۵٪) و محیط انسانی (۲۵٪) به وجود می آید

ج) دروازه خروجی (۲۵٪) نفت خلیج فارس است (۲۵٪)

د) حذف اطلاعات غیر ضروری (۲۵٪) حفظ اطلاعات مرتبط (۲۵٪)

ه) سهپند (۲۵٪) سبلان (۲۵٪)

ز) نتیجه گیری (۲۵٪) و ارائه پیشنهاد (۲۵٪)

کلید سوال ششم

مطالعه همه جانبه و جامع پدیده ها (۲۵٪) با تمام ویژگی ها (۲۵٪) در یک مکان (۲۵٪)

کلید سوال هفتم

سرزمین های همواری هستند (۲۵٪) از یک طرف به کوهها (۲۵٪) و از طرف دیگر به دریا یا دریاچه منتهی میشوند (۲۵٪)

کلید سوال هشتم

داشتن منابع نفت و گاز (۵٪) تامین ۹۰٪ خاویار جهان (۵٪)

کلید سوال نهم

آب و هوای معتدل خزری (۲۵٪) بارندگی زیاد (۲۵٪) اعتدال دما در طول سال (۲۵٪) پوشش گیاهی غنی (۲۵٪)

کلید سوال دهم

به ازای هر ۱۰۰۰ متر ارتفاع ۶ درجه کاهش دما (۲۵٪) در ارتفاعات آب و هوا سردتر (۲۵٪) و در دشت‌های داخلی گرم‌تر (۲۵٪) جهت رشته کوه‌های البرز و زاگرس در پراکندگی بارش اثر دارند (۲۵٪) در دامنه شمالی البرز (۲۵٪) و دامنه‌های غربی زاگرس بارش بیشتر (۲۵٪)

کلید سوال یازدهم

منطقه کوهستانی مرکزی (۲۵٪)

رشته کوه جغتای (۲۵٪) گردنه آوج (۲۵٪) بزمان در سیستان و بلوچستان (۲۵٪)

کلید سوال دوازدهم

۱- توده هوای سرد و خشک سیبری (۲۵٪)

۲- توده هوای مرطوب موسمی (۲۵٪)

۳- توده هوای سودانی (۲۵٪)

۴- توده هوای مرطوب غربی (۲۵٪)

کلید سوال سیزدهم

الف) گنبد نمکی (۲۵٪) ب) زاگرس (۲۵٪)

ج) عوامل درونی (۲۵٪) و وزن مخصوص (۲۵٪)

### کلید سوالات استان شناسی استان کردستان

کلید سوال اول

الف) اشتباه (۲۵٪) ب) درست (۲۵٪)

کلید سوال دوم

الف) ترشیاری (۲۵٪) ب) کواترنر (۲۵٪)

کلید سوال سوم

الف) هندو اروپایی (۲۵٪) ب) نیمه غربی (۲۵٪)

کلید سوال چهارم

ارتفاعات زیاد (۵٪) گندم (۲۵٪) جو (۲۵٪)

کلید سوال پنجم

هفته دوم بهمن ماه (۵٪) و ادامه آن ۱۵ اردیبهشت (۵٪)

کلید سوال ششم

برداشت نامناسب علوفه (۵٪) استفاده از چوب جنگل‌ها برای زغال و هیزم (۵٪) چرای بی رویه دام (۵٪)



## اپلیکیشن درسی همیار

برنامه رایگان درسی همیار



**تمام پایه ها**

جواب کتاب ، تدریس و نمونه سوال



**همیشه رایگان**

برنامه همیار کاملا رایگان میباشد