


نمره با عدد : نمره با حروف: تاریخ امتحان: ۲۰ / ۰۳ / ۱۴۰۲ وقت امتحان: ۵۰ دقیقه	بسمه تعالی  نیمسال اول سال تحصیلی ۱۴۰۲-۱۴۰۱	نام و نام خانوادگی: نام دبیر: خانم سطوت نام درس: جغرافیا پایه تحصیلی: دهم رشته: تجربی و ریاضی نام کلاس: ب و ج
بارم	سوالات	ردیف
۰/۷۵	جاهای خالی را با عبارات مناسب پر کنید. الف) اراتوستن جغرافیا را علم مطالعه زمین به عنوان تعریف می کند. ب) از به هم پیوستن چند بخش همجوار تشکیل می گردد. ج) آب موجود در کشور ایران از تامین می شود.	۱
۰/۵	گزینه درست را انتخاب کنید. ۱. دریای خزر از طریق کدام کانال آبی با دریای سیاه ارتباط پیدا می کند؟ الف) اورال _ ولگا ب) دن _ ولگا ج) داردانل _ مدیترانه د) دن _ کورا ۲. طولی ترین و تنها رود قابل کشتیرانی ایران کدام است؟ الف) اروندرود ب) کرخه ج) دالکی د) کارون	۲
۰/۵	درست یا نادرست بودن جملات زیر را مشخص کنید. الف) ارومیه دومین دریاچه آب شور جهان است. ب) جمعیت کره زمین از لحاظ نسبت جنسیتی تفاوت زیادی دارد. ص غ ص غ	۳
۰/۵	کلمات مناسب را از داخل پرانتز انتخاب نمایید. الف) قدیمی ترین نوع سکونتگاهها در ایران (روستایی _ عشایری) می باشد. ب) پیدایش نهایی ناهمواریهای ایران در دوران (سنوزوئیک _ کواترنر) بوده است.	۴
	سوالات کوتاه پاسخ	۵
	۱. پردازش اطلاعات چیست؟ ۰/۵ ۲. در روش کتابخانه ای جغرافیدان از چه منابعی استفاده می کند؟ (۲ مورد) ۰/۵ ۳. مرز را تعریف کنید و بنویسید طولانی ترین مرز را ایران با کدام کشور دارد؟ ۱ ۴. رشته کوه زاگرس چگونه به وجود آمد؟ ۰/۵ ۵. علل پیدایش جلگه ها چیست؟ (۲ مورد) ۰/۵ ۶. آب و هوا را تعریف کنید. ۰/۵	

۷. علت های تنوع آب و هوایی ایران را نام ببرید. ۰/۷۵

۸. دو مورد از ویژگیهای اصلی مناطق خشک و بیابانی را بنویسید. ۰/۵

۹. به سوالات زیر در مورد خلیج فارس پاسخ دهید. ۱/۵

الف) مهمترین رودهایی که به آن می ریزد (۲مورد) (ب) به خلیج های کوچک آن می گویند؟

ج) ۲مورد از جزایر آن؟ (د) چند کشور در اطراف خلیج فارس قرار دارد؟

۱۰. دو مورد از ویژگی های منحصر به فرد دریای عمان چیست؟ ۰/۵

۱۱. رشد طبیعی جمعیت چگونه بدست می آید؟ با ذکر فرمول ۰/۷۵

۱۲. دو مورد از اهمیت و کاربرد هرم سنی را بنویسید. ۱

۱۳. دو مورد از عوامل انسانی اثرگذار بر پراکندگی جمعیت را نام ببرید. ۰/۵

۱۴. هدف از تقسیمات کشوری چیست؟ ۰/۵

۱۵. از لحاظ نظام اداری موارد زیر تابع کدام قسمت است؟ ۰/۵

الف) استان: ب: دهستان:

۱۶. سکونتگاههای شهری به چند شکل دیده می شوند؟ ۰/۷۵

۱۷. نقش شهرهای زیر را مشخص کنید. ۰/۵


الف) مشهد..... ب) پیرانشهر.....

۱۸. دو مورد از از روستاهای متمرکز را نام ببرید. ۰/۵

۱۹. دو مورد از مزایای کشت گلخانه ای را بنویسید. ۰/۵

۲۰. تقسیم بندی صنایع در ایران را نام ببرید. ۰/۵

سوالات استان مرکزی		
۰/۲۵	نام فرش دستباف استان مرکزی که شهرت جهانی دارد؟	۱
۰/۵	نقش استان در پشتیبانی و حمایت از دفاع مقدس چگونه بود؟ ۲ مورد	۲
۰/۲۵	در دوره صفوی در استان مرکزی شاهد گسترش یکپارچه مذهب هستیم.	۳
۰/۷۵	جاذبه های گردشگری استان به چند نوع تقسیم می شود؟ نام ببرید.	۴
۰/۷۵	زبان رایج در استان مرکزی چیست؟ نام دو زبان متداول را بنویسید.	۵
۰/۵	نام دو سیاستمدار تراز اول کشور که در استان مرکزی بودند را بنویسید.	۶
۱	مهمترین دستاوردهای استان مرکزی را بعد از انقلاب اسلامی نام ببرید. ۴ مورد	۷
۰/۵	از جمله اقدامات مهم در دوره زندیه در استان مرکزی چه بود؟	۸
۰/۵	دو مورد از صنایع دستی در استان مرکزی را بنویسید.	۹

نمره با عدد : نمره با حروف: تاریخ امتحان: ۲۰ / ۰۳ / ۱۴۰۲ وقت امتحان: ۵۰ دقیقه	بسمه تعالی  نیمسال اول سال تحصیلی ۱۴۰۲-۱۴۰۱	نام و نام خانوادگی: نام دبیر: خانم سطوت نام درس: جغرافیا پایه تحصیلی: دهم رشته: تجربی و ریاضی نام کلاس: ب و ج
بارم	سوالات و پاسخنامه	ردیف
۰/۷۵	جاهای خالی را با عبارات مناسب پر کنید. الف) اراتوستن جغرافیا را علم مطالعه زمین به عنوان جایگاه انسان.... تعریف می کند. ب) از به هم پیوستن چند بخش همجوار شهرستان.... تشکیل می گردد. ج) آب موجود در کشور ایران از..... ریزشهای جوی..... تامین می شود.	۱
۰/۵	گزینه درست را انتخاب کنید. ۱. دریای خزر از طریق کدام کانال آبی با دریای سیاه ارتباط پیدا می کند؟ الف) اورال _ ولگا <input type="radio"/> ب) دن _ ولگا <input checked="" type="radio"/> ج) داردانل _ مدیترانه <input type="radio"/> د) دن _ کورا <input type="radio"/> ۲. طویل ترین و تنها رود قابل کشتیرانی ایران کدام است؟ الف) اروندرود <input type="radio"/> ب) کرخه <input type="radio"/> ج) دالکی <input type="radio"/> د) کارون <input checked="" type="radio"/>	۲
۰/۵	درست یا نادرست بودن جملات زیر را مشخص کنید. الف) ارومیه دومین دریاچه آب شور جهان است. ب) جمعیت کره زمین از لحاظ نسبت جنسیتی تفاوت زیادی دارد. ص <input checked="" type="radio"/> غ <input type="radio"/> ص <input type="radio"/> غ <input checked="" type="radio"/>	۳
۰/۵	کلمات مناسب را از داخل پرانتز انتخاب نمایید. الف) قدیمی ترین نوع سکونتگاهها در ایران (روستایی _ عشایری) می باشد. ب) پیدایش نهایی ناهمواریهای ایران در دوران (سنوزوئیک _ کواترنر) بوده است.	۴
	سوالات کوتاه پاسخ	۵
	۱. پردازش اطلاعات چیست؟ ۰/۵ حذف اطلاعات غیرروری و حفظ اطلاعات مرتبط با پژوهش ۲. در روش کتابخانه ای جغرافیدان از چه منابعی استفاده می کند؟ (۲ مورد) ۰/۵ نقشه ها، عکسهای هوایی، عکسهای ماهواره ای، سالنامه ۳. مرز را تعریف کنید و بنویسید طولانی ترین مرز را ایران با کدام کشور دارد؟ ۱ مهمترین عامل تشخیص و جدایی هرکشور از کشورهای دیگر را مرز می گویند و نشان می دهد یک کشور تا کجا امتداد دارد. طولانی ترین مرز را با عراق دارد. ۴. رشته کوه زاگرس چگونه به وجود آمد؟ ۰/۵ از برخورد دو صفحه شبهجزیره عربستان و اوراسیا ۵. علل پیدایش جلگه ها چیست؟ (۲ مورد) ۰/۵ ساختمان زمین، مقاومت سنگ، عمق آب، تراکم آبرفت ۶. آب و هوا را تعریف کنید. ۰/۵ به مجموعه عناصر جوی غالب در یک منطقه در دراز مدت می گویند.	


۷. علت های تنوع آب و هوایی ایران را نام ببرید. ۰/۷۵
- موقعیت جغرافیایی، میزان ارتفاع و جهت کوهستانها، ورود توده های هوا به کشور
۸. دو مورد از ویژگیهای اصلی مناطق خشک و بیابانی را بنویسید. ۰/۵
- بارندگی کم و نامنظم، زیاد بودن تبخیر و تعرق، کمبود پوشش گیاهی
۹. به سوالات زیر در مورد خلیج فارس پاسخ دهید. ۱/۵
- (الف) مهمترین رودهایی که به آن می ریزد (۲ مورد) (ب) به خلیج های کوچک آن می گویند؟
کارون، کرخه، دالکی، مند خور
- (ج) ۲ مورد از جزایر آن؟ کیش و قشم (د) چند کشور در اطراف خلیج فارس قرار دارد؟ ۱ کشور
۱۰. دو مورد از ویژگی های منحصر به فرد دریای عمان چیست؟ ۰/۵
- جنس ساحل، عمق مناسب
۱۱. رشد طبیعی جمعیت چگونه بدست می آید؟ با ذکر فرمول ۰/۷۵
- ۱۰۰ * کل جمعیت / مرگ و میر - میزان موالید = رشد طبیعی جمعیت
۱۲. دو مورد از اهمیت و کاربرد هرم سنی را بنویسید. ۱
- بهبود وضعیت سالمندان، ارتقای سلامت جامعه، تامین شغل برای حال و آینده
۱۳. دو مورد از عوامل انسانی اثرگذار بر پراکندگی جمعیت را نام ببرید. ۰/۵
- حمل و نقل و ارتباطات، سرمایه گذاری دولتها، سرمایه و فناوری، سابقه تاریخی
۱۴. هدف از تقسیمات کشوری چیست؟ ۰/۵
- اداره بهتر کشور، عرضه خدمات مناسب تر، تامین نیازهای مردم
۱۵. از لحاظ نظام اداری موارد زیر تابع کدام قسمت است؟ ۰/۵
- (الف) استان: تشکیلات مرکزی (ب) دهستان: بخش
۱۶. سکونتگاههای شهری به چند شکل دیده می شوند؟ ۰/۷۵
- شعاعی یا ستاره ای، شطرنجی، خطی
۱۷. نقش شهرهای زیر را مشخص کنید. ۰/۵
- (الف) مشهد... مذهبی، زیارتگاهی..... (ب) پیرانشهر... نظامی.....
۱۸. دو مورد از روستاهای متمرکز را نام ببرید. ۰/۵
- پلکانی، خطی، میدانی
۱۹. دو مورد از مزایای کشت گلخانه ای را بنویسید. ۰/۵
- کاهش مصرف آب، تولید در طول سال و همه جا، بهبود وضعیت کشت
۲۰. تقسیم بندی صنایع در ایران را نام ببرید. ۰/۵
- صنایع دستی، ماشینی

	سوالات استان مرکزی	
۰/۲۵	نام فرش دستباف استان مرکزی که شهرت جهانی دارد؟ ساروق یا جیریا	۱
۰/۵	نقش استان در پشتیبانی و حمایت از دفاع مقدس چگونه بود؟ مورد اعزام نیرو، کمک های مردمی، سازندگی و دفاع هوایی، اسکان جنگ زدگان	۲
۰/۲۵	در دوره صفوی در استان مرکزی شاهد گسترش یکپارچه مذهب ... تشیع..... هستیم.	۳
۰/۷۵	جاذبه های گردشگری استان به چند نوع تقسیم می شود؟ نام ببرید. طبیعی تاریخی فرهنگی	۴
۰/۷۵	زبان رایج در استان مرکزی چیست؟ نام دو زبان متداول را بنویسید. فارسی، تاتی، ترکی، خلیجی	۵
۰/۵	نام دو سیاستمدار تراز اول کشور که در استان مرکزی بودند را بنویسید. امیرکبیر، دکتر مصدق	۶
۱	مهمترین دستاوردهای استان مرکزی را بعد از انقلاب اسلامی نام ببرید. ۴ مورد راه و ترابری، پست و مخابرات، عمران شهری و روستایی، فرهنگ و هنر	۷
۰/۵	از جمله اقدامات مهم در دوره زندیه در استان مرکزی چه بود؟ عمران روستاها، ایجاد بناهای عام المنفعه	۸
۰/۵	دو مورد از صنایع دستی در استان مرکزی را بنویسید. ریخته گری، نساجی، گلیم بافی	۹



اپلیکیشن درسی همیار

برنامه رایگان درسی همیار



تمام پایه ها

جواب کتاب ، تدریس و نمونه سوال



همیشه رایگان

برنامه همیار کاملا رایگان میباشد