

نام درس : آمار و احتمال		به نام خدا																
رشته : ریاضی		اداره آموزش و پرورش استان البرز																
نام و نام خانوادگی:		مدیریت آموزش و پرورش ناحیه ۳ کرج																
کلاس: یازدهم		سوالات دانش آموزان مدارس دوره دوم متوسطه																
نام دبیر: نصر اصفهانی		دبیرستان دخترانه اهل بیت																
		نوبت دوم (خرداد ماه)																
سوال	دانش آموزان عزیز امتحان شامل ۱۳ سوال می باشد. (نیاز به پاسخنامه دارد)																	
۱	ارزش گزاره زیر را تعیین کنید سپس نقیض آن را بنویسید.	۱	بارم															
	$\forall X \in (-\infty, 0); X - \frac{1}{X} \leq -2$																	
۲	اگر $A = \{2, x + 2y, 4\}, B = \{4, 5, x - y\}, A = B$ در این صورت مقادیر x و y را بیابید	۲																
۳	عبارت زیر را ساده کنید.	۱/۵																
	$(A \cup B) - B =$																	
۴	در پرتاب یک تاس احتمال مشاهده هر عدد متناسب با همان عدد است اگر این تاس را به هوا پرتاب کنیم احتمال اینکه عدد مشاهده شده کمتر از ۴ باشد را تعیین کنید.	۲																
۵	دو ظرف داریم در اولی ۴ مهره سبز و ۳ مهره قرمز و در دومی ۳ مهره سبز و ۵ مهره قرمز وجود دارد از ظرف اول یک مهره بطور تصادفی برمی داریم و بدون مشاهده آن را به ظرف دوم منتقل می کنیم اکنون یک مهره از ظرف دوم بیرون می آوریم با چه احتمالی این مهره سبز است؟	۱/۵																
۶	جعبه ای شامل ۱۲ لامپ است که سه تای آنها معیوب است اگر به تصادف و بدون جای گذاری ۳ لامپ از جعبه بیرون آوریم احتمال آن را بدست آورید که : الف) هر ۳ لامپ معیوب باشند ب) حداقل یک لامپ معیوب باشد.	۱ ۱																
۷	جدول را کامل کنید سپس نمودار دایره ای رسم کنید.	۱/۵																
	<table border="1"> <thead> <tr> <th>زایه بر حسب درجه</th> <th>تعداد</th> <th>اتومبیل</th> </tr> </thead> <tbody> <tr> <td></td> <td>۱۵</td> <td>پراید</td> </tr> <tr> <td></td> <td>۲۰</td> <td>پژو</td> </tr> <tr> <td></td> <td>۵</td> <td>سمند</td> </tr> <tr> <td></td> <td>$n=40$</td> <td></td> </tr> </tbody> </table>	زایه بر حسب درجه	تعداد	اتومبیل		۱۵	پراید		۲۰	پژو		۵	سمند		$n=40$			
زایه بر حسب درجه	تعداد	اتومبیل																
	۱۵	پراید																
	۲۰	پژو																
	۵	سمند																
	$n=40$																	
۸	میانگین ۵ داده آماری ۱۷ است اگر دو عدد ۱۵ و ۱۲ را به داده های قبلی اضافه کنیم میانگین جدید چه عددی خواهد شد؟	۱																
۹	برای داده های زیر نمودار جعبه ای رسم کنید. (همه مراحل نوشته شود) ۴، ۱۲، ۳، ۵، ۱۷، ۲۱، ۲۲، ۳۹، ۲۷، ۳۳، ۱۰، ۴۱، ۳۰، ۳۴، ۴۲، ۱۱، ۲۴	۱/۵																
۱۰	فرض کنید سن افراد شرکت کننده در یک شورای منتخب روستایی به شرح زیر است میانگین، واریانس، انحراف معیار و ضریب تغییرات داده های زیر را بدست آورید. ۱۷، ۱۹، ۲۴، ۲۸، ۳۰، ۳۲	۲																
۱۱	انواع نمونه گیری احتمالی را نام ببرید.	۱																
۱۲	نمونه گیری اریب به چه دلایلی رخ می دهد (نام ببرید)	۱/۵																
۱۳	اگر یک نمونه به اندازه ۴ داشته باشیم به طوری که میانگین آنها ۲ و انحراف معیار ۱/۸۷ باشد یک فاصله اطمینان برای میانگین این جامعه محاسبه کنید.	۱/۵																
	موفق باشید	۲۰																

باسم تعالیٰ آمین و احوال خرداد ۱۴۰۲ دبیرستان اهل بیت بیرقصر اصفهانی

نادریست سوال $x = -1$ $\circ/10$ $-1 \neq -2$ $-1+1 \neq -2$ $0 \neq -2$ $\circ/10$
 نقیض $\exists x \in (-\infty, 0); x - \frac{1}{x} > -2$ $\circ/10$

$\begin{cases} x - y = 2 \quad \circ/10 \\ x + 2y = 5 \quad \circ/10 \end{cases} \Rightarrow \begin{cases} 2x - 2y = 4 \\ x + 2y = 5 \end{cases} \Rightarrow \begin{cases} 3x = 9 \rightarrow x = 3 \quad \circ/10 \\ 3 - y = 2 \rightarrow y = 1 \quad \circ/10 \end{cases}$

$(A \cup B) - B = (A \cup B) \cap B' = (A \cap B') \cup (B \cap B') = A \cap B' = A - B$
 $\circ/10$ $\circ/10$ $\circ/10$ $\circ/10$ $\circ/10$ $\circ/10$

$S = \{1, 2, 3, 4, 5, 6\}$ $P(1) + P(2) + P(3) + P(4) + P(5) + P(6) = 1$

$x + 2x + 3x + 4x + 5x + 6x = 1 \Rightarrow 21x = 1 \rightarrow x = \frac{1}{21}$ $\circ/10$

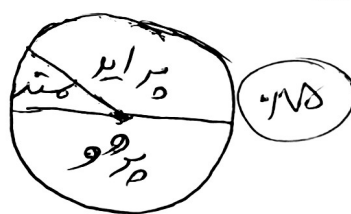
$P(\{1, 2, 3\}) = x + 2x + 3x = 6x = \frac{6}{21} = \frac{2}{7}$ $\circ/10$

اول روز اول $\frac{4}{7}$ روز دوم $\frac{5}{9}$ روز اول $\frac{4}{7}$ روز دوم $\frac{3}{9}$
 $P(A) = (\frac{4}{7} \times \frac{4}{7}) + (\frac{4}{7} \times \frac{3}{9}) = \frac{16}{49} + \frac{12}{63} = \frac{14+9}{42} = \frac{23}{42}$ $\circ/10$

سوی معیوب و درسی معیوب و لامه اول معیوب $P(A) = \frac{3}{12} \times \frac{2}{11} \times \frac{1}{16} = \frac{1}{176}$ $\circ/10$

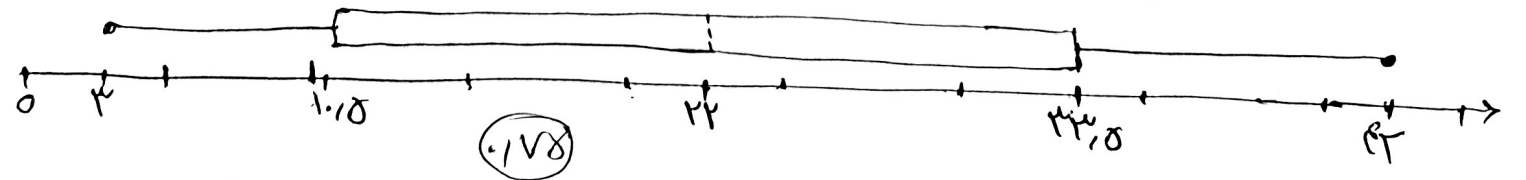
ب) $P(\text{معدل کلاس معیوب}) = 1 - P(\text{همه سالم}) = 1 - \frac{9}{12} \times \frac{11}{11} \times \frac{15}{16} = 1 - \frac{21}{32} = \frac{11}{32}$ $\circ/10$

اتوبوس	تعداد	زاویه
۱۵	۱۵	$\frac{15}{36} \times 360 = 150$
۲۰	۲۰	۱۸۰
۵	۵	۴۵ $\circ/10$
n=40		



$\frac{\sum x_i}{n} = 17 \rightarrow \sum x_i = 8 \times 17 = 136$ $\circ/10$ $\frac{136 + 27}{7} = \frac{163}{7} = 23.28$ $\circ/10$

۳ و ۴ و ۵ و ۱۰ و ۱۱ و ۱۲ و ۱۷ و ۲۱ و ۲۲ و ۲۴ و ۲۷ و ۳۰ و ۳۳ و ۳۴ و ۳۹ و ۴۱ و ۴۲
 $a = 2$ $Q_1 = 6.5$ $Q_2 = 22$ $Q_3 = 44$ $b = 42$
 $\circ/10$ $\circ/10$ $\circ/10$ $\circ/10$



۱۷، ۱۹، ۲۴، ۲۸، ۳۰، ۳۲

$$\bar{x} = \frac{150}{4} = 37.5 \quad (10)$$

$$(17-37.5)^2 + (19-37.5)^2 + (24-37.5)^2 + (28-37.5)^2 + (30-37.5)^2 + (32-37.5)^2 = (-20)^2 + (-18.5)^2 + (-13.5)^2 + (-9.5)^2 + (-7.5)^2 + (-5.5)^2 = 400 + 342.25 + 182.25 + 90.25 + 56.25 + 30.25 = 1001.5$$

$$s^2 = \frac{1001.5}{4} = 250.375 \quad (11) \quad s = \sqrt{250.375} = 15.82 \quad (12) \quad CV = \frac{15.82}{37.5} = 0.422 \quad (13)$$

۱) نمونه گیری تصادفی ساده (۱۰)

۲) نمونه گیری تصادفی سیستماتیک یا ساده (۱۰)

۳) نمونه گیری طبقه ای (۱۰)

۴) روش نادرست انتخاب نمونه ها ۱۰

۱) انتخاب نادرست روش گرفتن اطلاعات از هر واحد آماری ۱۰

۲) تحلیل آماری مناسب ۱۰

۳) روش نادرست انتخاب نمونه ها ۱۰

$$n = 4$$

$$\bar{x} = 2$$

$$s = 1.187$$

میانگین جامعه μ

$$\bar{x} - \frac{2s}{\sqrt{n}} \leq \mu \leq \bar{x} + \frac{2s}{\sqrt{n}}$$

$$2 - \frac{2(1.187)}{\sqrt{4}} \leq \mu \leq 2 + \frac{2(1.187)}{\sqrt{4}} \quad (14)$$


$$2 - 1.187 \leq \mu \leq 2 + 1.187$$

$$0.813 \leq \mu \leq 3.187 \quad (15)$$



اپلیکیشن درسی همیار

برنامه رایگان درسی همیار



تمام پایه ها

جواب کتاب ، تدریس و نمونه سوال



همیشه رایگان

برنامه همیار کاملا رایگان میباشد