



تاریخ امتحان: ۱۴ / ۱۰ / ۱۴۰۲

سؤالات درس: جغرافیای ناحیه ای
نوبت: دی ماه
سال تحصیلی: ۱۴۰۲-۱۴۰۳

ساعت شروع: ۱۱:۳۰

پایه: یازدهم

زمان پاسخگویی: ۷۰ دقیقه

رشته: انسانی

تعداد سوال: ۱۳

نام و نام خانوادگی:

طراح: منیژه مرادی

کلاسی:

دارد ندارد

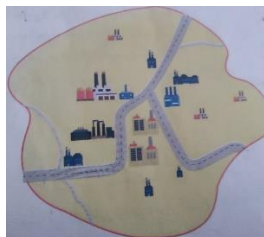
پاسخنامه لازم: دارد


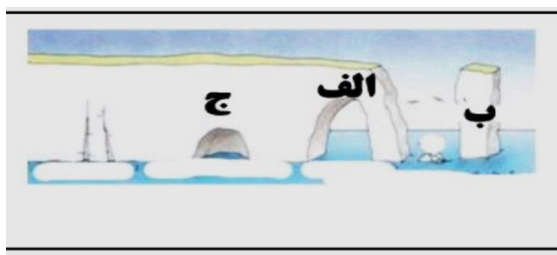
نام دبیر و امضا:


نمره با حروف:

نمره با عدد:

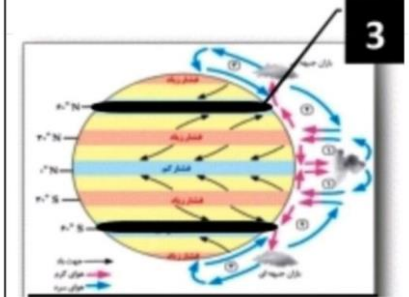

ردیف	سؤالات	بارم
۱	<p>صحيح يا اشتباه بودن عبارات زیر را مشخص کنید .</p> <p>الف) خاک یخ بسته نواحی توندرا چرنوزیوم نام دارد .</p> <p>ب) جوامع انسانی برای ادامه حیات به نواحی سیاسی وابسته اند .</p> <p>ج) مرزهای سیاسی و اداری معمولا بر مرزهای نواحی طبیعی و انسانی منطبق نیستند .</p> <p>د) دین مسیح سرزمین مشخصی ندارد و پیروان آن به صورت پراکنده در شهرها و نواحی بزرگ بازرگانی جهان زندگی می کنند.</p> <p>ه) زبان ماندارین چینی در میان مردم آسیای شرقی رواج دارد .</p>	۱/۲۵
۲	<p>گزینه صحیح را انتخاب کنید .</p> <p>۱- کدام یک از اقوام در کشور افغانستان بیشترین درصد جمعیتی این کشور را تشکیل میدهد؟ الف) ازبک <input type="checkbox"/> ب) هزاره <input type="checkbox"/> ج) تاجیک <input type="checkbox"/> د) پشتون <input type="checkbox"/></p> <p>۲- با توجه به خصوصیات نواحی همه جملات درست است به جز گزینه الف) براساس طرز تفکر جغرافیدانان نواحی مختلف در سطح زمین به وجود آمده است . <input type="checkbox"/></p> <p>ب) جغرافیدانان با استفاده از یک یا چند معیار سطح زمین را ناحیه بندی می کنند. <input type="checkbox"/></p> <p>ج) همگونی عناصر طبیعی و انسانی در کانون ناحیه دیده می شود. <input type="checkbox"/></p> <p>د) با گذشت زمان ممکن است وسعت نواحی تغییر کند . <input type="checkbox"/></p> <p>۳- کدام گزینه از ویژگی های عمده بارش نیست ؟ الف) میانگین بارندگی سالانه <input type="checkbox"/> ب) توزیع سالانه بارش <input type="checkbox"/> ج) بالاترین میزان بارش روزانه <input type="checkbox"/> د) توزیع فصلی بارش <input type="checkbox"/></p> <p>۴- کدام یک از ادیان زیر در قاره های آسیا و آفریقا پراکندگی بیشتری دارد ؟ الف) اسلام <input type="checkbox"/> ب) مسیحیت <input type="checkbox"/> ج) بودایی <input type="checkbox"/> د) یهود <input type="checkbox"/></p> <p>۵- علت ایجاد کدام بیابان با بقیه متفاوت است ؟ الف) گبی <input type="checkbox"/> ب) نامیب <input type="checkbox"/> ج) لوت <input type="checkbox"/> د) صحرای بزرگ آفریقا <input type="checkbox"/></p> <p>۶- کدام یک از عبارات زیر با تصویر هماهنگی ندارد ؟</p> <p>الف) هر ناحیه جغرافیایی دارای کانون یا مرکز است <input type="checkbox"/> ب) در کانون یک ناحیه صنعتی تجمع زیاد کارخانه ها مشاهده می شود. <input type="checkbox"/></p> <p>ج) در مرز یک ناحیه وحدت و همگونی نسبی عناصر انسانی و طبیعی بیشتر است <input type="checkbox"/> د) مرز نواحی صنعتی قابل تغییر است <input type="checkbox"/></p>	۱/۷۵




سؤالات درس : جغرافیای ناحیه ای نوبت : دی ماه سال تحصیلی: ۱۴۰۳-۱۴۰۲		سازمان آموزش و پرورش استان کردستان مدیریت آموزش و پرورش شهرستان دهگلان	
تاریخ امتحان: ۱۴۰۲/۱۰/۱۴	پایه : یازدهم	 دبیرستان نمونه دولتی پروینت اختصاصی	
ساعت شروع: ۱۱:۳۰	رشته : انسانی		
زمان پاسخگویی: ۷۰ دقیقه	نام و نام خانوادگی:		
تعداد سوال: ۱۳	کلاس:		
طراح: منیژه مرادی	دارد <input type="checkbox"/> ندارد <input checked="" type="checkbox"/>		
نام دبیر و امضا:		نمره با حروف:	
		نمره با عدد:	
بارم	سؤالات	ردیف	
		<p>۷- تصویر روبه رو به ترتیب موارد الف - ب - ج کدام است .</p> <p>الف) غار دریایی - ستون سنگی دریایی - حفره <input type="checkbox"/></p> <p>ب) طاق دریایی - ستون سنگی دریایی - حفره <input type="checkbox"/></p> <p>ج) غار دریایی - زبانه ماسه ای - شکاف <input type="checkbox"/></p> <p>د) طاق دریایی - آب سنگ - دماغه <input type="checkbox"/></p>	
۱/۵		<p>۳ در جای خالی عبارت مناسب بنویسید .</p> <p>الف) همه نواحی حتی دور افتاده ترین آنها از نظر تحت تاثیر یکدیگرند .</p> <p>ب) ناحیه یک ناحیه انتقالی بین جنگلهای بارانی استوایی و صحرای بزرگ آفریقا است</p> <p>ج) در نقشه های توپوگرافی مماس شدن منحنی های میزان روی نقشه نشانه است .</p> <p>د) رکن مهم زیست کره (بیوسفر) است</p> <p>ه) انرژی دریافتی روزانه در مناطق نزدیک حدود ۱۰۰ کالری در سانتی متر مربع است</p> <p>ر) در بین زبانهای خانواده آفرو آسیایی معروفترین و مهمترین آنها زبان است.</p>	
۱/۵		<p>۴ گزینه درست داخل پرانتز را انتخاب کنید.</p> <p>الف) گرز دیو از اشکال فرسایشی (تراکمی - کاوشی) در بیابان است</p> <p>ب) اختلاف دما از عوامل هوازدگی (شیمیایی - فیزیکی) است</p> <p>ج) عنصر اصلی گسترش یک فرهنگ (زبان - دین) است</p> <p>د) هرچه ارتفاع افزایش یابد قد یا بلندی گیاهان (کوتاهتر - بلندتر) می شود</p> <p>ه) دومین خانواده بزرگ زبانی از نظر تعداد سخنگو (خانواده چینی - تبتی خانواده هندو اروپایی) است</p> <p>ر) هر چه از استوا به سمت عرضهای جغرافیایی بالاتر حرکت کنیم دمای هوا (کاهش - افزایش) می یابد</p>	
۲		<p>۵ به سوالات زیر به صورت کوتاه پاسخ دهید.</p> <p>الف) منظور از منحنی میزان چیست؟</p> <p>ب) دو نمونه از اشکال کارستی در ایران را نام ببرید .</p> <p>ج) انرژی به دست آمده از سواحل از کدام نیروها حاصل می شود دو مورد را نام ببرید .</p> <p>د) دو ویژگی اصلی بیابان را نام ببرید</p>	

تاریخ امتحان: ۱۴۰۲/۱۰ / ۱۴	سوالات درس: جغرافیای ناحیه ای نوبت: دی ماه سال تحصیلی: ۱۴۰۲-۱۴۰۳	سازمان آموزش و پرورش استان کردستان مدیریت آموزش و پرورش شهرستان دهگلان
ساعت شروع: ۱۱:۳۰	پایه: یازدهم	 دبیرستان نمونه دولتی پروین اعتصامی
زمان پاسخگویی: ۷۰ دقیقه	رشته: انسانی	
تعداد سوال: ۱۳	نام و نام خانوادگی:	
طراح: منیژه مرادی	کلاس:	
		پاسخنامه لازم: دارد <input type="checkbox"/> ندارد <input checked="" type="checkbox"/>

نمره با عدد: نمره با حروف: نام دبیر و امضا:

بارم	سوالات	ردیف										
۱/۵	طبق تقسیم بندی کوپن ویزگی های خواسته شده آب و هوای بسیار سرد (قطبی) را ذکر کنید. <table border="1" style="width: 100%; text-align: center;"> <tr> <td>پوشش گیاهی</td> <td>بارش</td> <td>دما</td> <td>نام آب و هوا</td> <td>علامت آب و هوا</td> </tr> <tr> <td></td> <td></td> <td></td> <td>قطبی</td> <td>E</td> </tr> </table>	پوشش گیاهی	بارش	دما	نام آب و هوا	علامت آب و هوا				قطبی	E	۶
پوشش گیاهی	بارش	دما	نام آب و هوا	علامت آب و هوا								
			قطبی	E								
۱/۲۵	 <p>با توجه به شکل روبه رو به سوالات زیر پاسخ دهید. الف) علت انحراف مسیر بادها بین کمربندهای فشار چیست؟ ب) مسیر بادها در نیمکره شمالی و جنوبی به کدام سمت منحرف می شود؟ ج) عرض جغرافیایی ۶۰ درجه شمالی (شماره ۳) فشار زیاد است یا کم؟</p>	۷										
۲	<p>موارد زیر را تعریف کنید . الف) ناحیه ب) بوم سازگان یا اکوسیستم</p>	۸										
۱	 <p>شکل روبه رو مربوط به کدام نوع بارش است توضیح دهید .</p>	۹										
۳	<p>به سوالات زیر پاسخ دهید . الف) سرعت هوازدگی در سنگها به چه عواملی بستگی دارد ب) سه مورد از مهمترین عوامل بیابانی شدن را نام ببرید ج) چشم انداز فرهنگی چگونه خلق میشود؟ د) سه مذهب مهم دین مسیحیت را نام ببرید</p>	۱۰										

سؤال‌ات درس : جغرافیای ناحیه ای نوبت : دی ماه سال تحصیلی : ۱۴۰۲-۱۴۰۳		سازمان آموزش و پرورش استان کردستان مدیریت آموزش و پرورش شهرستان دهگلان	
تاریخ امتحان: ۱۴ / ۱۰ / ۱۴۰۲	پایه : یازدهم		
ساعت شروع: ۱۱:۳۰	رشته : انسانی		
زمان پاسخگویی: ۷۰ دقیقه	نام و نام خانوادگی:		
تعداد سوال: ۱۳	کلاس:	پاسخنامه لازم: دارد <input type="checkbox"/> ندارد <input checked="" type="checkbox"/>	
طراح: منیژه مرادی			
نمره با عدد:		نمره با حروف:	
نام دبیر و امضا:			
ردیف	سؤالات	بارم	
۱۱	چهار مورد از قابلیت‌های نواحی کوهستانی را نام ببرید؟	۱	
۱۲	منظور از پدیده پخش یا انتشار چیست توضیح دهید .	۱	
۱۳	شکل روبه رو مربوط به کدام پدیده است ؟ نحوه تشکیل آنرا توضیح دهید.	۱/۲۵	
	موفق باشید.	۲۰	جمع بارم

کلید سوال هشتم

الف) بخشی از سطح زمین که ویژگی های جغرافیایی (۲۵٪) طبیعی اقتصادی فرهنگی (۲۵٪) همگونی و خاص دارد (۲۵٪) به طوری که با بخش های مجاور خود متفاوت است (۲۵٪)

ب) مجموعه ای از موجودات زنده (۲۵٪) که با یکدیگر (۲۵٪) و با محیطی که در آن زندگی می کنند (۲۵٪) در ارتباط و تعامل اند (۲۵٪)

کلید سوال نهم

بارندگی همرفتی (۲۵٪) توده هوا از هوای مجاور خود گرم تر می شود (۲۵٪) همراه با بالا رفتن دمای آن پایین میاد (۲۵٪) و ابر و بارندگی (۲۵٪)

کلید سوال دهم

الف) جنس سنگ (۲۵٪) نوع آب و هوا (۲۵٪) زمان (۲۵٪)

ب) خشکسالی (۲۵٪) حفر چاه های عمیق و نیمه عمیق (۲۵٪) کندن بوته و علف (۲۵٪)

ج) انسانها (۲۵٪) با تغییراتی که در (۲۵٪) محیط های طبیعی به وجود می آورند (۲۵٪)

د) کاتولیک (۲۵٪) ارتدوکس (۲۵٪) پروتستان (۲۵٪)

کلید سوال یازدهم

تنوع زیستی (۲۵٪) جاذبه های گردشگری (۲۵٪) تامین منابع آب شیرین (۲۵٪) معادن (۲۵٪)

کلید سوال دوازدهم

یک موضوع یا پدیده مانند زبان مذهب افکار (۲۵٪) وسایل و ابزار (۲۵٪) شیوه زندگی (۲۵٪) از یک مکان به سایر مکان ها گسترش یابد (۲۵٪)

کلید سوال سیزدهم

چاله های بادی (۲۵٪) باد ماسه های ریز را با خود می برد (۲۵٪) و به تدریج حفره یا چاله هایی ایجاد می شود (۲۵٪) در اثر برخورد با آب های زیرزمینی (۲۵٪) رطوبت و چسبندگی ایجاد و فرسایش کند و قطع خواهد شد (۲۵٪)



اپلیکیشن درسی همیار

برنامه رایگان درسی همیار



تمام پایه ها

جواب کتاب ، تدریس و نمونه سوال



همیشه رایگان

برنامه همیار کاملا رایگان میباشد