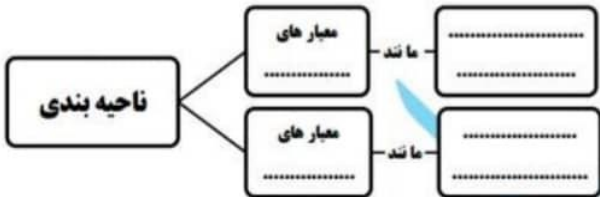
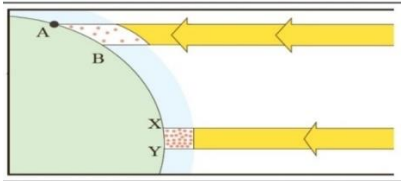
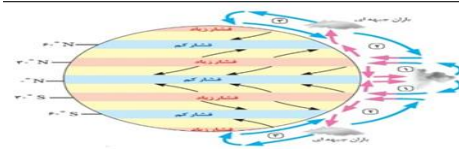



نام درس: جغرافیا ۲		محل مهر آموزشگاه		اداره کل آموزش و پرورش استان کردستان مدیریت/ اداره آموزش و پرورش شهرستان سروآباد نام آموزشگاه: دبیرستان شبانه روزی سمیه	
رشته: علوم انسانی		پایه: یازدهم		نام و نام خانوادگی:	
شماره صفحه: ۱	تعداد صفحه: ۳	پاسخنامه نیاز: دارد <input type="checkbox"/> ندارد <input checked="" type="checkbox"/>			
تاریخ امتحان: ۱۴/۱۰/۱۴۰۲		ساعت شروع: ۱۰:۳۰ صبح		تعداد سؤال: ۱۷	
ردیف	سوالات				
۱	<p>صحیح یا غلط بودن جملات زیر را مشخص کنید.</p> <p>الف - میان اجزا و پدیده های هر مکان نوعی پیوستگی وجود دارد که آن را از سایر مکانها متفاوت می سازد. ()</p> <p>ب - در قطب ها به دلیل سردی فوق العاده هوا مراکز کم فشار هستند. ()</p> <p>ج- یکی از مهمترین جبهه های هوا جبهه قطبی است. ()</p> <p>د - عوامل درونی تغییر چهره زمین هوازگی و فرسایش است. ()</p> <p>و-نمایش پراکندگی همه زبان ها بر روی نقشه به سهولت انجام می شود. ()</p>				
۲	<p>گزینه صحیح را مشخص کنید.</p> <p>الف-احداث راه آهن در کدام نواحی زیر دشوار است؟</p> <p>۱- اراضی پست و جلگه ای <input type="checkbox"/></p> <p>۲- نواحی داخلی ایران <input type="checkbox"/></p> <p>۳- نواحی مرتفع و برف گیر <input type="checkbox"/></p> <p>۴- نواحی گرم و خشک <input type="checkbox"/></p> <p>ب- طبق طبقه بندی کوپن پوشش گیاهی خزان دار در کدام یک از مناطق آب و هوایی رشد می کنند؟</p> <p>۱) استوایی <input type="checkbox"/> ۲) خشک <input type="checkbox"/> ۳) معتدل <input type="checkbox"/> ۴) قطبی <input type="checkbox"/></p> <p>ج- این اشکال فرسایشی در رسوبات نرم به جامانده از دریاچه های قدیم پدید می آید</p> <p>۱- یاردانگ <input type="checkbox"/> ۲- گرز دیو <input type="checkbox"/> ۳- برخان <input type="checkbox"/> ۴- ریگ <input type="checkbox"/></p> <p>د- مهم ترین موجودات زنده تولید کننده در یک بوم سازگان هستند.</p> <p>۱- جانوران <input type="checkbox"/> ۲- گیاهان <input type="checkbox"/> ۳- بخش زنده <input type="checkbox"/> ۴- بخش غیر زنده <input type="checkbox"/></p> <p>ذ- از مهمترین شاخص های فرهنگی است.</p> <p>۱- نژاد <input type="checkbox"/> ۲- مذهب <input type="checkbox"/> ۳- دین <input type="checkbox"/> ۴- زبان <input type="checkbox"/></p>				
۳	<p>جاهای خالی را با کلمات مناسب پر کنید .</p> <p>الف - ویژگی اصلی هر ناحیه وحدت و نسبی عناصر طبیعی و انسانی در آن است .</p> <p>ب- ساوان یک ناحیه..... بین جنگل های بارانی استوایی و صحرای بزرگ افریقا است</p> <p>ج - یکی از نکات جالب توجه در باره تلماسه ها یا تپه های ماسه ای آن هاست.</p> <p>د - مطالعه زیست بوم ها یکی از موضوعات رشته است.</p> <p>ذ- با حفظ زبان های ملی و محلی فرهنگی پا برجا می ماند.</p>				

ردیف	سؤالات	نمره
۴	<p>به سوالات زیر پاسخ کوتاه بدهید.</p> <p>الف- منظور از کانون ناحیه چیست؟</p> <p>ب- بر اساس تقسیم بندی کوپن کدام نواحی بارشی برای رویش گیاه مناسب نیستند؟</p> <p>ج- دو مورد از عواملی که باعث هوازدگی زیستی می شود را بنویسید.</p> <p>د- معروفترین شاخه زبان چینی تبتی چه نام دارد؟</p>	۲
۵	<p>شکل را با نوشتن جا های خالی کامل کنید.</p> 	۱/۵
۶	<p>به چه دلیل امروزه شهر ها ، استان ها و کشور ها نواحی سیاسی محسوب می شوند؟</p>	۱
۷	<p>با توجه به شکل زیر عرض جغرافیایی چگونه بر دمای یک ناحیه تاثیر می گذارد؟</p> 	۰/۵
۸	<p>با توجه به شکل روبرو به سوالات زیر پاسخ دهید .</p> <p>الف- دلیل ایجاد توده کم فشار در اطراف خط استوا چیست؟</p> <p>ب- باران همرفتی چگونه ایجاد می شود؟</p> <p>ج- باد چگونه ایجاد می شود؟</p> 	۱/۵
۹	<p>با توجه به نقشه جهان به سوالات زیر پاسخ دهید</p> <p>الف- دلیل ایجاد بیابان آتا کاما (شماره ۲) چیست؟</p> <p>ب- نام یک بیابان سرد و یک بیابان گرم را بنویسید.</p> 	۰/۷۵
۱۰	<p>در مورد فرسایش به سوالات زیر پاسخ دهید.</p> <p>الف- عامل اصلی فرسایش در بیابان را نام ببرید.</p> <p>ب- نتیجه فرسایش در سنگ های آهکی چه پدیده های را به وجود می آورد؟</p> <p>ج- چه عواملی باعث فرسایش در سواحل می شوند؟</p>	۱/۵

نام درس: جغرافیا ۲		محل مهر آموزشگاه		اداره کل آموزش و پرورش استان کردستان مدیریت / اداره آموزش و پرورش شهرستان سروآباد نام آموزشگاه: دبیرستانشانه روزی سمیه	
رشته: علوم انسانی		پایه: یازدهم		نام و نام خانوادگی:	
تعداد صفحه: ۳		شماره صفحه: ۳		پاسخنامه نیاز: <input type="checkbox"/> دارد <input checked="" type="checkbox"/> ندارد	
تاریخ امتحان: ۱۴۰۲ / ۱۰ / ۱۴		ساعت شروع ۱۰:۳۰ صبح		زمان امتحان: ۷۰ دقیقه	
تعداد سؤال: ۱۷					
ردیف	سوالات				
نمره					
۱	<p>با توجه به شکل زیر به موارد زیر پاسخ دهید .</p> <p>الف- نیم رخ توپوگرافی را رسم کنید.</p> <p>ب- فاصله خطوط میزان چقدر است؟</p> <p>ج- شیب در سمت شمال بیشتر است یا جنوب؟</p> 				
۱/۵	<p>با توجه به مفهوم زیست بوم به سوالات زیر پاسخ دهید.</p> <p>الف- نوع و ویژگی های یک زیست بوم به چه عواملی بستگی دارد؟(سه مورد)</p> <p>ب- غنی ترین پوشش گیاهی در کدام زیست بوم مشاهده می شود ؟</p> <p>ج- با افزایش ارتفاع قد و انبوهی پوشش گیاهی چه تغییری می کند؟</p>				
۱	<p>با توجه به اینکه ما در یک ناحیه کوهستانی زندگی می کنیم ، کو هستان دارای چه قابلیت و محدودیت های است؟ برای هر کدام دو مورد بنویسید.</p>				
۱	<p>راهکار های حفاظت از نواحی زیر را بنویسید.</p> <p>الف) سواحل (۲ مورد)</p> <p>ب) بیابان (۲ مورد)</p>				
۰/۷۵	<p>برای اهمیت زبان انگلیسی سه دلیل بیاورید .</p>				
۰/۷۵	<p>نقش ((عصر اکتشافات جغرافیایی)) در تغییر تاریخی الگو های زبانی جهان چیست؟</p>				
۱/۵	<p>عبارت های غلط را پیدا کنید و درست آنها را بنویسید.</p> <p>الف- زبان قوم حامی ، زبان مردم عرب و یهود و زبان قوم سامی زبان بعضی از مردم شمال افریقا است.</p> <p>ب- دین مسیحیت در افریقا ظهور کرد، اما بیشتر پیروان آن در قاره های اروپا ، آسیا ، امریکا ، استرالیا کشور های شمال افریقا است . و شامل سه مذهب کاتولیک ، پروتستان و زرتشت است.</p>				
نمره به عدد :	به حروف		طراح سوال : مریم عظیمی		
۲۰	موفق باشید		جمع بارم		

--	--	--

(ادامه ی سوالات در صفحه سوم)

نام درس: جغرافیا ۲		محل مهر آموزشگاه		اداره کل آموزش و پرورش استان کردستان مدیریت/ اداره آموزش و پرورش شهرستان سراباد نام آموزشگاه: دبیرستان سمیه	
رشته: علوم انسانی		پایه: یازدهم		پاسخنامه سوالات	
شماره صفحه: ۱		تعداد صفحه: ۲			
تاریخ امتحان: ۱۴۰۱/۱۰/۱۴		ساعت شروع: ۱۰ صبح		تعداد سؤال: ۱۷	
زمان امتحان: ۷۰ دقیقه					
ردیف	نمره				
۱	۱/۲۵	الف- صحیح-ب-غلط-ج-صحیح-د-غلط-ذ-غلط هر مورد ۰/۲۵			
۲	۱/۲۵	الف-۰گزینه ۲-ب-گزینه ۳-ج-گزینه ۱د-گزینه ۲و-گزینه ۴-ذ-گزینه ۴ هر مورد ۰/۲۵			
۳	۱/۲۵	الف- تجانس ب- انتقالی ج- حرکت د- جغرافیای زیستی ذ- هویت هر مورد ۰,۲۵ نمره			
۴	۲	الف- بیشترین وحدت و تجانس در مرکز کانون ناحیه وجود دارد ۰/۲۵، هر چه به طرف مرز ها می رویم وحدت کاهش می یابد ۰/۲۵ ب- خشک- قطبی هر مورد ۰/۲۵ ج- جانوران و گیاهان هر مورد ۰/۲۵ د- ماندارین ۰/۵			
۵	۱/۵	طبیعی: پوشش گیاهی - ناهمواری- آب و هوا - انسانی: زبان دین آداب و رسوم -اقتصادی			
۶	۰/۷۵	یک نهاد آنها را اداره می کند-با مرز قرار دادی از نواحی مجاور خود متمایز می شوند. هر مورد ۰/۵ نمره			
۷	۱	مایل بودن محور زمین موجب می شود ۰/۲۵ که خورشید بر نواحی استوایی عمود و نزدیک به عمود بتابد ۰/۲۵ و زاویه تابش به سمت قطب مایل تر می تابد ۰/۲۵ هر چه اشعه خورشید مایل تر باشد میزان دریافت انرژی کمتر هوا سردتر است و برعکس ۰/۲۵			
۸	۱/۵	الف) به دلیل تابش مستقیم نور آفتاب هوا گرم شده صعود پیدا کرده و توده کم فشار ایجاد می شود ۰/۵ نمره ب- توده هوا از هوای مجاور خود گرم تر می شود و صعود پیدا می کند ۰/۲۵ دمای آن پایین می آید و ابر تشکیل می شود و بارندگی صورت می گیرد. ۰/۲۵ ج- هوا همیشه از جایی که فشار بیشتری دارد ب ۰/۲۵ ه سمت جایی که فشار کمتر دارد می رود و باد تشکیل می شود ۰/۲۵			
۹	۰/۷۵	الف- پرفشار جنب حاره ای -یا جریان آب سرد پرو ب- سرد-تکله ماکان گبی تار گرم -لوت صحرا -عربستان -نامیب هر مورد ۰/۲۵			
ردیف	نمره	سوالات			

۱/۵	الف- باد ۰/۵ نمره ب- غار طبیعی - چشمه های آهکی هر مورد ۰/۲۵ ج- امواج دریا - جزر ومد - باد هر مورد ۰/۲۵	۱۰
۱		۱۱
۱/۵	الف- ارتفاع - آب و هوا - خاک - عرض جغرافیایی - شکل ناهمواری هر مورد ۰/۲۵ ب- جنگل های استوایی ۰/۵ نمره ج- تعداد گونه ها قديا بلندی کوتاه تر وانبوهی گیاهان کمتر می شود هر مورد ۰/۲۵	۱۲
۱	محدودیت ها : شرایط سخت طبیعی - مشکل بودن حمل و نقل - خطر زمین لرزه آتشفشان - شیبی زمین و محدودیت خاک قابلیت ها : تنوع زیستی - تامین آب شیرین - دامنه های مناسب برای پرورش دام - جاذبه های گردشگری - معادن هر مورد ۰/۲۵	۱۳
۱	الف- حفاظت از سواحل با ساخت موج شکن ، نصب انواع حفاظ ها - حفاظت از تپه های ماسه ای - پاکسازی سواحل از انواع آلودگی ها-زهکشی اراضی ساحلی ب- کاشت گیاهان سازگار و مقاوم-مقابله با برداشت آب های زیر زمینی -مالچ پاشی ماسه های روان هر مورد ۰/۲۵	۱۴
۰/۷۵	زبان نرم افزار های علمی است- برای پایش هواپیما و کشتی ها- متون علمی و تحقیقاتی است هر مورد ۰/۲۵	۱۵
۱/۷۵ ۰	با پیشرفت اروپاییان در دریا نوردی در امریکا شمالی ،استرالیا و نیوزیلند زبان انگلیسی رواج یافت	۱۶
۱،۲ ۵	الف- زبان سامی - زبان سامی ب- آسیا - جنوب و مرکز افریقا - پروتستان و ارتدو کسی هر مورد ۰/۲۵	۱۷
	طراح سوال : مریم عظیمی	
۲۰	جمع بارم	



اپلیکیشن درسی همیار

برنامه رایگان درسی همیار



تمام پایه ها

جواب کتاب ، تدریس و نمونه سوال



همیشه رایگان

برنامه همیار کاملا رایگان میباشد