

محل مهر آموزشگاه	جغرافیا (۲)	نام درس	باسمه تعالی وزارت آموزش و پرورش اداره کل آموزش و پرورش استان خراسان جنوبی مدیریت آموزش و پرورش شهرستان: بیرجند. دبیرستان / هنرستان : انقلاب اسلامی	نام و نام خانوادگی:	
	۱۴۰۲/۱۰/۲۷	تاریخ امتحان		نام پدر:	
تعداد سوال: ۱۳	تعداد صفحه: ۴			پایه: یازدهم	شعبه کلاسی:
زمان شروع: ۸ صبح	وقت: ۷۵ دقیقه			شماره صندلی:	رشته: علوم انسانی

ضمن خیرمقدم به دانش آموزان و داوطلبان عزیز، سوالات زیر را به دقت بخوانید و با توکل به خدا و آرامش خاطر پاسخ دهید.

نمره برگه	با عدد با حروف	نام و نام خانوادگی دبیر:	نام و نام خانوادگی دبیر: آصفه رضازاده	نمره تجدید نظر	با عدد با حروف	امضا:
-----------	-------------------	--------------------------	--	-------------------	-------------------	-------

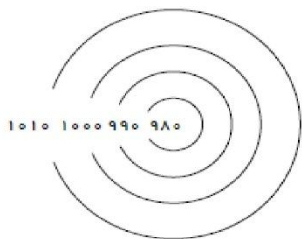
شماره	هر مرادی را به همت می توان تسخیر کرد.	نمره
۱	<p>درستی یا نادرستی هریک از عبارتهای زیر را تعیین کنید.</p> <p>الف- ناحیه ، بخشی از سطح زمین است که از نظر وحدت و همگونی، با بخش های مجاور شباهت دارد.</p> <p>درست <input type="checkbox"/> نادرست <input type="checkbox"/></p> <p>ب- انتخاب معیارها و ملاک ها برای تعیین حدود یک ناحیه ، به هدف مطالعه و تحقیق جغرافی دان بستگی دارد.</p> <p>درست <input type="checkbox"/> نادرست <input type="checkbox"/></p> <p>ج- در همه تعاریف بیابان بر دو ویژگی کمبود بارش و پوشش گیاهی ضعیف تأکید می شود. درست <input type="checkbox"/> نادرست <input type="checkbox"/></p> <p>د- بیابانهای سرد عمدتاً در عرض جغرافیا بالا یا در ارتفاعات زیاد قرار دارند.</p> <p>درست <input type="checkbox"/> نادرست <input type="checkbox"/></p> <p>و- علت تشکیل بیابان آتاکاما ، دوری از منابع رطوبت می باشد.</p> <p>درست <input type="checkbox"/> نادرست <input type="checkbox"/></p> <p>ه- کلویت ( یاردانگ ) ، حاصل فرسایش بادی می باشد.</p> <p>درست <input type="checkbox"/> نادرست <input type="checkbox"/></p> <p>و- جزایر مرجانی و دماغه های ماسه ای از اشکال فرسایش کاوشی می باشد..</p> <p>درست <input type="checkbox"/> نادرست <input type="checkbox"/></p> <p>ی- بزرگترین و گسترده ترین گروه زبانی دنیا ، خانواده هند و اروپایی است.</p> <p>درست <input type="checkbox"/> نادرست <input type="checkbox"/></p>	۲
۲	<p>صحیح ترین گزینه را علامت بزنید.</p> <p>۱- شکل گیری نواحی صنعتی در اطراف تهران بیان کننده کدام ویژگی ارتباط انسان و نواحی می باشد؟</p> <p>الف- انسان ها نواحی را بوجود می آورند. <input type="checkbox"/></p> <p>ب- نواحی به فعالیت های انسان شکل می دهند. <input type="checkbox"/></p> <p>ج- نواحی با همدیگر در حال کنش هستند. <input type="checkbox"/></p> <p>د- تمایز نواحی در تصمیم گیری های سیاسی اثر دارد. <input type="checkbox"/></p> <p>۲- شهرها ، استان ها و کشورها به دلیل اینکه .....، نواحی ..... محسوب می شوند.</p> <p>الف- آب و هوای یکسان دارند- طبیعی <input type="checkbox"/></p> <p>ب- دارای دین مشابه هستند- انسانی <input type="checkbox"/></p> <p>ج- یک نهاد آن ها را اداره می کند- سیاسی <input type="checkbox"/></p> <p>د- از یک قوم تشکیل شده اند- فرهنگی <input type="checkbox"/></p> <p>۳- به ترتیب تولید کنندگان ، مصرف کنندگان رده دوم و تجزیه کنندگان در بخش زنده بوم سازگان کدام اند؟</p> <p>الف- باکتری ها- گیاه خواران- گوشت خواران. <input type="checkbox"/></p> <p>ب- باکتری ها- گوشت خواران- گیاه خواران. <input type="checkbox"/></p> <p>ج- گیاهان- گوشت خواران- باکتری ها. <input type="checkbox"/></p> <p>د- گیاهان- گیاه خواران- باکتری ها. <input type="checkbox"/></p> <p>۴- مالچ های مناسب جهت تثبیت ماسه های روان کدام است؟</p> <p>الف- ریگ- بقایای گیاهان <input type="checkbox"/></p> <p>ب- مالچ نفتی - ریگ <input type="checkbox"/></p> <p>ج- ریگ- بقایای حیوانی <input type="checkbox"/></p> <p>د- مالچ نفتی- بقایای گیاهان <input type="checkbox"/></p>	۱/۷۵

محل مهر آموزشگاه	جغرافیا (۲)	نام درس تاریخ امتحان	باسمه تعالی وزارت آموزش و پرورش اداره کل آموزش و پرورش استان خراسان جنوبی مدیریت آموزش و پرورش شهرستان بیرجند دبیرستان / هنرستان : انقلاب اسلامی	نام و نام خانوادگی:	
	۱۴۰۲/۱۰/۲۷			نام پدر:	
تعداد سوال: ۱۳	تعداد صفحه: ۴		شعبه کلاسی:	پایه: یازدهم	
زمان شروع: ۸ صبح وقت: ۷۵ دقیقه			رشته: علوم انسانی	شماره صندلی:	

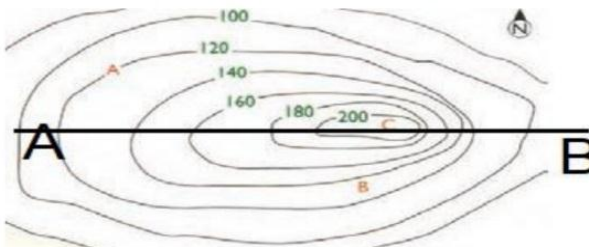
	<p>۵- به ترتیب زبان مردم عرب و یهود، مردم زردپوست آسیای شرقی و مردم شمال آفریقا چه نام دارد؟</p> <p>الف-سامی-ماندارین-حامی <input type="checkbox"/>      ب-حامی-ماندارین-سامی <input type="checkbox"/></p> <p>ج-سامی-حامی-ماندارین <input type="checkbox"/>      د-ماندارین-سامی-حامی <input type="checkbox"/></p> <p>۶- هدف از نصب تابلو ایست به زبان فرانسوی در کبک ایتالیا کدام است؟</p> <p>الف-حفظ هویت فرهنگی <input type="checkbox"/>      ب-راهنمای گردشگران <input type="checkbox"/></p> <p>ج-رعایت قوانین رانندگی <input type="checkbox"/>      د-حفظ زبان های زنده جهانی <input type="checkbox"/></p> <p>۷-چه تعداد از عبارتهای زیر درست می باشد؟</p> <p>*دین مسیحیت در اروپا ظهور کرد و شامل سه مذهب عمده کاتولیک، پروتستان و ارتدوکس می باشد.</p> <p>*انسان ها با تغییراتی که در محیط طبیعی بوجود می آورند، به دو گروه تقسیم می شوند.</p> <p>*دین عنصر اصلی گسترش یک فرهنگ است و ادیان به دو گروه تقسیم می شوند.</p> <p>*یکی از مهم ترین تغییرات تاریخی در الگو های زبانی جهان در قرن ۱۵ و ۱۶ میلادی معروف به عصر اکتشافات جغرافیایی آغاز شد.</p> <p>الف- یک <input type="checkbox"/>      ب- دو <input type="checkbox"/>      ج- سه <input type="checkbox"/>      د- چهار <input type="checkbox"/></p>	
۰/۵ ۰/۵ ۰/۵	<p>۳ جا های خالی را تکمیل کنید.</p> <p>۱- معیار های مهم ناحیه بندی عوامل ..... و ..... می باشد.</p> <p>۲- در یک ناحیه جغرافیایی با حرکت به سمت ..... آن ، از عوامل همگونی آن ناحیه کاسته می شود.</p> <p>۳- بیشترین تغییرات آب و هوایی در لایه ..... بوجود می آید.</p>	۳
۰/۷۵ ۱ ۰/۵ ۰/۵ ۰/۵ ۰/۵	<p>۴ کوتاه پاسخ:</p> <p>۱- نتیجه دریافت نامساوی انرژی خورشید بر سطح زمین چیست؟</p> <p>۲- نوع هر زیست بوم و ویژگی های آن به چه عواملی بستگی دارد؟</p> <p>۳- چرا بیابان ها برای تحقیقات نجومی و صنایع هوا فضا مناسبند؟</p> <p>۴- دو مورد از محدودیت های نواحی کوهستانی را بنویسید.</p> <p>۵- امروزه علت غلبه بیشتر برخی زبان ها در جهان چیست؟</p> <p>۶- چه عواملی امروزه خطر بزرگ برای فرهنگ و هویت ملی و بومی نواحی جهان می باشد؟ دو مورد.</p>	۴

محل مهر آموزشگاه	جغرافیا (۲)	نام درس تاریخ امتحان	باسمه تعالی وزارت آموزش و پرورش اداره کل آموزش و پرورش استان خراسان جنوبی مدیریت آموزش و پرورش شهرستان: بیرجند. دبیرستان / هنرستان : انقلاب اسلامی	نام و نام خانوادگی:	
	۱۴۰۲/۱۰/۲۷			نام پدر:	
تعداد سوال: ۱۳		تعداد صفحه: ۴	اداره کل آموزش و پرورش استان خراسان جنوبی مدیریت آموزش و پرورش شهرستان: بیرجند. دبیرستان / هنرستان : انقلاب اسلامی	شعبه کلاسی:	پایه: یازدهم
وقت: ۷۵ دقیقه		زمان شروع: ۸ صبح		رشته: علوم انسانی	شماره صندلی:

سوالات تشریحی:	
۱	۵ چرا جغرافی دان ها ناحیه بندی را انجام می دهند؟
۱	۶ اگر بخواهیم از استوا به سمت صحرای آفریقا حرکت کنیم چه تغییراتی در پوشش گیاهی و بارش ایجاد می شود؟
۱	۷ چگونه بارندگی همرفتی بوجود می آید؟
۱	۸ با توجه به شکل داده شده به سؤالات پاسخ دهید. الف- به منحنی فشار ۱۰۱۰ چه می گویند؟ ب- شکل داده شده چه نوع مرکز فشاری را نشان می دهد؟ ج- این مرکز فشار را با چه حرفی نمایش می دهند؟ د- با کشیدن فلش جهت گردش هوا را روی آن نشان دهید؟




محل مهر آموزشگاه	جغرافیا (۲)	نام درس تاریخ امتحان	باسمه تعالی وزارت آموزش و پرورش اداره کل آموزش و پرورش استان خراسان جنوبی مدیریت آموزش و پرورش شهرستان: بیرجند. دبیرستان / هنرستان : انقلاب اسلامی	نام و نام خانوادگی:	
	۱۴۰۲/۱۰/۲۷			نام پدر:	
تعداد سوال: ۱۳	تعداد صفحه: ۴		اداره کل آموزش و پرورش استان خراسان جنوبی مدیریت آموزش و پرورش شهرستان: بیرجند. دبیرستان / هنرستان : انقلاب اسلامی	شعبه کلاسی:	پایه: یازدهم
زمان شروع: ۸ صبح	وقت: ۷۵ دقیقه			رشته: علوم انسانی	شماره سندلی:

۲	<p>به نقشه زیر توجه کنید و به سؤالات پاسخ دهید. *توجه* (پاسخ الف تا ج را در پایین بنویسید جای کافی برای رسم نیمرخ توپوگرافی داشته باشید). الف- نقطه A چقدر از سطح دریا ارتفاع دارد؟ ب- شیب در سمت شرق بیشتر است یا غرب؟ چرا؟ ج- نقطه C چیست؟ د- نیمرخ توپوگرافی خط A-B را رسم کنید.</p>  <p>پاسخ: الف-..... ب-..... ج-.....</p>	۹	
۱/۵	<p>یک شباهت و یک تفاوت برای اشکال کارستی با غارها و طاق های دریایی بنویسید.</p>	۱۰	
۱/۵	<p>رابطه پراکندگی پوشش گیاهی با ارتفاع در زیست بوم ها را بنویسید.</p>	۱۱	
۱	<p>چرا آثار دین را می توان در نواحی مختلف مشاهده کرد؟</p>	۱۲	
۱	<p>انواع پخش و انتشار فرهنگی را بنویسید و بگویید امروزه کدام نوع پخش فرهنگی غالب است؟ چرا؟</p>	۱۳	
۲۰	جمع نمرات	پاداش تلاش موفقیت است.	

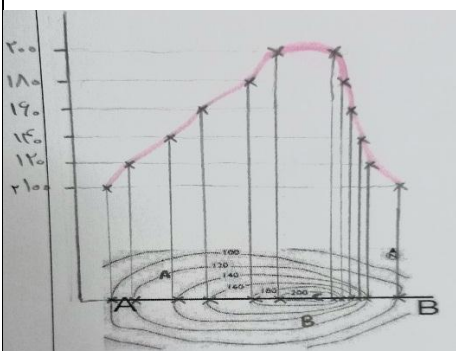
شماره سؤال	شرح پاسخ	ریز بارم
۱	الف- نادرست ب- درست ج- نادرست د- درست و- نادرست ه- نادرست و- نادرست د- درست	۲
۲	۱- الف ۲- ج ۳- ج ۴- الف ۵- الف ۶- الف ۷- دو	۱/۲۵
۳	۱- طبیعی (۰/۲۵ نمره) - انسانی (۰/۲۵ نمره) ۲- مرز (۰/۵ نمره) ۳- ورد سپهر (تروپوسفر) (۰/۵ نمره)	۱/۵
۴	۱- مناطق گرم (۰/۲۵ نمره) - معتدل (۰/۲۵ نمره) - سرد (۰/۲۵ نمره) ۲- موقعیت جغرافیایی - شرایط آب و هوایی - شکل ناهمواری ها - ارتفاع از سطح زمین - جنس خاک ها (۴ مورد هر مورد ۰/۲۵ نمره) ۳- به دلیل آسمان صاف و بدون ابر (۰/۵ نمره) ۴- ۱- شرایط سخت و طبیعی مانند سرمای شدید بویژه در شب، کاهش اکسیژن و مشکلات تنفسی ۲- مشکل بودن حمل و نقل و احداث راه ها، خطرات برف و یخ بندان ۳- منطبق بودن اغلب نواحی کوهستانی جوان بر گسل های فعال و وجود خطر زمین لرزه، آتشفشان های فعال و لغزش دامنه ها ۴- شیب زمین و محدودیت خاک، که خانه سازی و فعالیت های کشاورزی را با مشکل مواجه می کند. (دو مورد کافی است. هر مورد ۰/۵ نمره - مجموع ۱ نمره) ۵- در اثر ارتباطات و فناوری اطلاعات (۰/۵ نمره) ۶- فرایند یکسان سازی فرهنگ ها (۰/۲۵ نمره) و توسعه فرهنگ کشورهای سلطه گر (۰/۲۵ نمره)	۳/۲۵
۵	برای شناخت بهتر (۰/۲۵ نمره) و آسان تر مکان های مختلف (۰/۲۵ نمره) و علمی کردن مطالعات و تحقیقات درباره این مکان ها صورت می گیرد (۰/۲۵ نمره). تا بتوان آن ها را بطور صحیح برنامه ریزی کرد. (۰/۲۵ نمره)	۱
۶	هر چه به سمت بیابان صحرا پیش می رویم، بارندگی کمتر (۰/۲۵ نمره) و علف های ساوان کوتاه تر می شوند (۰/۲۵ نمره) و کم کم به مراتع مداری، که از علفزارهای کوتاه قد تشکیل شده است، تبدیل می گردند (۰/۲۵ نمره). این مراتع در حاشیه صحرا به علت خشکی هوا به استپ های بیابانی تبدیل می شوند. (۰/۲۵ نمره)	۱
۷	در این نوع بارندگی، توده هوا از هوای مجاور خود گرم تر می شود (۰/۲۵ نمره)؛ همراه با بالارفتن (۰/۲۵ نمره)، دمای آن پایین می آید (۰/۲۵ نمره) و ابر تشکیل می شود و بارندگی صورت می گیرد. (۰/۲۵ نمره)	۱

- الف- منحنی های فشار یا ایزوبار. ( ۰/۲۵ نمره )  
 ب- کم فشار ( ۰/۲۵ نمره )  
 ج- L ( ۰/۲۵ نمره )  
 د- کشیدن فلش ها جهت گردش هوا ( ۰/۲۵ نمره )



۸

- الف- ۱۲۰ متر ( ۰/۲۵ نمره )  
 ب- شرق ( ۰/۲۵ نمره ) - زیرا منحنی های میزان به یکدیگر نزدیک تر هستند. ( ۰/۲۵ نمره )  
 ج- قله ( ۰/۲۵ نمره )  
 د- رسم نیمرخ توپوگرافی خط A-B ( ۱ نمره )



۹

شباهت : هر دو اشکال در نواحی که سنگ ها قابلیت حل شدن در آب را داشته باشند مانند سنگهای آهکی یا گچی و نظایر آن آب با نفوذ به شکاف ها و درز های این نوع سنگ ها موجب فرسایش می شوند و اشکال را بوجود می آورند. ( ۰/۵ نمره )  
 تفاوت: اشکال کارستی از اشکال فرسایش انحلالی در نواحی کوهستانی می باشد. ( ۰/۵ نمره )  
 ولی غارها و طاق های دریایی از اشکال فرسایش کاوشی طبیعی در سواحل صخره ای هستند. ( ۰/۵ نمره )  
 یا  
 اشکال کارستی با نفوذ آبهای جاری به شکاف ها و درزهای این نوع سنگ ها شکل می گیرد ولی غارها و طاق های دریایی با نفوذ آب دریا در سواحل شکل می گیرد. ( یک مورد تفاوت برای هر کدام کافی می باشد.)

۱/۵

۱۰

گیاهان در ارتفاع معینی قادر به زیستن هستند. ( ۰/۲۵ نمره ) هر چه ارتفاع افزایش می یابد ، تعداد گونه ها ( ۰/۲۵ نمره ) ، قد ، یا بلندی گیاهان ( ۰/۲۵ نمره ) ، انبوهی و درجه رشد گیاهان ( ۰/۲۵ نمره ) و همچنین فصل رویش آنها ( ۰/۲۵ نمره ) کمتر و کوتاه تر می شود. ( ۰/۲۵ نمره )

۱/۵

۱۱

زیرا دین ها بر قوانین اجتماعی ، عقاید، رفتارها و ارزش های اخلاقی ، آیین ها و مراسم و همچنین پدیده های قابل مشاهده مانند بناها و آثار هنری تأثیر زیادی دارند.

۱

۱۲

گاهی دو ناحیه فرهنگی به هم خیلی نزدیک اند و پدیده فرهنگی در اثر تماس مستقیم مردم ، از ناحیه ای به ناحیه دیگر منتقل می شود. ( ۰/۲۵ نمره )  
 گاهی پخش و انتشار از یک فرهنگ به فرهنگ های دیگر بدون آنکه فرهنگ ها در تماس مستقیم با یکدیگر باشند ، اتفاق می افتد. ( ۰/۲۵ نمره )  
 امروزه بر خلاف گذشته ، با توجه به گسترش رسانه ها ، ( ۰/۲۵ نمره ) نوع دوم پخش فرهنگی غالب است. ( ۰/۲۵ نمره )

۱

۱۳

۲۰ جمع نمرات



## اپلیکیشن درسی همیار

برنامه رایگان درسی همیار



**تمام پایه ها**

جواب کتاب ، تدریس و نمونه سوال



**همیشه رایگان**

برنامه همیار کاملا رایگان میباشد