


<p>مهردرسه</p> <p>تاریخ آزمون: ۱۴۰۲ / ۱۰ / ۴</p> <p>شروع آزمون: ۸ صبح</p> <p>مدت آزمون: ۷۰ دقیقه</p> <p>تعداد صفحه: ۳</p> 	<p>باسمه تعالی</p> <p>مدیریت آموزش و پرورش منطقه ۳ تهران</p> <p>ارزشیابی نوبت اول</p> <p>سال تحصیلی ۱۴۰۲-۱۴۰۳</p> <p>دبیرستان دوره دوم مهرمینوی دانش</p>	<p>ارزشیابی درس: جغرافیا ناحیه ای</p> <p>پایه و رشته تحصیلی: یازدهم انسانی</p> <p>نام و نام خانوادگی:</p> <p>شماره کارت:</p> <p>نام دبیر: سرکار خانم بابایی نیا</p>
--	--	---

بارم	محل علم و دانش، باغ بهشت است امام علی (ع)	ردیف
------	---	------

۱	<p>غلط یا صحیح جمله های زیر را مشخص کنید</p> <p>۱- یکی از کارهای جغرافیدانان مطالعه شباهت ها و تفاوت ها مکان هاست. صحیح <input type="checkbox"/> ، غلط <input type="checkbox"/></p> <p>۲- مرزهای سیاسی و اداری معمولا بر مرزهای نواحی طبیعی منطبق هستند. صحیح <input type="checkbox"/> ، غلط <input type="checkbox"/></p> <p>۳- بیابانهای سرد در عرض ها یا در ارتفاعات زیاد قرار دارند. صحیح <input type="checkbox"/> ، غلط <input type="checkbox"/></p> <p>۴- دین عنصر اصلی گسترش فرهنگ است. صحیح <input type="checkbox"/> ، غلط <input type="checkbox"/></p>	
۱	<p>گزینه صحیح را انتخاب کنید.</p> <p>۱- در طبقه بندی کوپن پوشش گیاهی خزان دار جز کدام یک از مناطق آب و هوایی است؟</p> <p>الف ( استوایی      ب ( خشک      ج ( معتدل      د ( مدیترانه ای</p> <p>۲- به تپه های ماسه ای هلالی شکل که دارای دو بازو در جهت باد هستند چه می گویند؟</p> <p>الف ( یاردانگ      ب ( برخان      ج ( چاله های بادی      د ( تپه های ماسه ای</p> <p>۳- کمبود آب و خاک برای کشاورزی از محدودیت های کدام ناحیه است؟</p> <p>الف ( بیابانی      ب ( ساحلی      ج ( کوهستانی      د ( استوایی</p> <p>۴- کدام گزینه های زیر از ویژگی های ناحیه فرهنگی نمی باشد؟</p> <p>الف) هنر      ب ( معماری      ج ( زبان      د ( طبیعت بکر و دست نخورده</p> <p>در جای خالی کلمات مناسب بنویسید.</p>	
۲	<p>۱- ناحیه انتقالی بین جنگل های بارانی استوایی و صحرای بزرگ آفریقا ..... گفته می شود.</p> <p>۲- به سنگ ها و رسوبات که یخچال ها با خود حمل می کنند ..... گفته می شود.</p> <p>۳- مطالعه زیست بوم ها یکی از موضوعات رشته جغرافیای ..... است.</p> <p>۴- منظور از ..... گروه بزرگی از زبان هاست که یک ریشه اصلی دارند.</p>	

به سؤالات زیر پاسخ کوتاه دهید.

۱- در کدام قسمت ناحیه بیشترین وحدت و همگونی دیده می‌شود؟

۲- به طور کلی وقوع بارش در یک ناحیه به چه عواملی بستگی دارد؟

۳- دره های U شکل معمولاً بر اثر چه نوع فرسایشی به وجود می‌آیند؟

۴- منظور از ناحیه بندی چیست؟

۵- از گزینه های زیر کدام گزینه طبیعی و کدام گزینه انسانی است؟

دین اسلام..... هوای کوهستانی.....

۶- باد چگونه به وجود می‌آید؟

۷- وایتکر در تقسیم بندی زیست بوم ها بیشتر به چه عواملی توجه کرد؟

۸- اشکال کارستی در کدام کوهستان ایران دیده می‌شوند؟ نام دو غار در این کوهستان را نام ببرید.

به پرسش های زیر پاسخ کامل دهید.

۱- بارندگی همرفتی چگونه به وجود می‌آید؟

۲- تلماسه ها چگونه به وجود می‌آیند؟

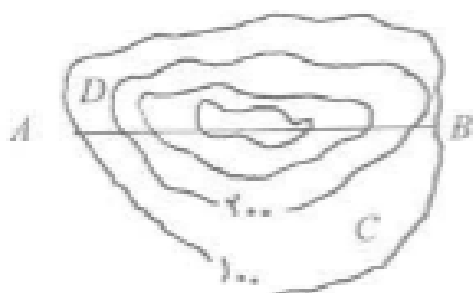
۳- مرزهای نواحی ثابت است یا متغیر توضیح دهید؟

۴- اشکال فرسایش کاوشی در سواحل را نام ببرید؟

۵- در روش های جدید برای تقسیم بندی زیست بوم ها چه معیارهایی را در نظر می‌گیرند؟

۶- روشها و راه‌های پیشگیری از گسترش بیابان را بنویسید؟

بارم		ردیف
۱	۷- محدودیت های نواحی کوهستان را بنویسید؟	
۱	۸- دو گروه اصلی ادیان را با ذکر مثال توضیح دهید؟	
۱	۹- انواع پخش و انتشار فرهنگی را توضیح دهید؟	
۱	۱۰- چگونگی ایجاد چشم انداز فرهنگی را بنویسید؟	
۲	<p>۱۱- با توجه به شکل مقابل به پرسش های زیر پاسخ دهید:</p> <p>الف) نیم رخ توپوگرافی شکل مقابل را در امتداد AB رسم کنید؟</p> <p>ب) شیب در نقطه C بیشتر است یا نقطه D چرا؟</p> <p>ج) شکل مقابل چه عارضه ای را نمایش می دهد؟</p>	
	شماره صفحه:	جمع
	نام و نام خانوادگی مصحح:	نمره به عدد:
	نمره به حروف:	



لیلا مصطفائی دانشمند - رتبه 73 منطقه 1 - دانشجوی روانشناسی دانشگاه تهران

پاسخنامه سوالات جغرافیای یازدهم مدرسه مهرمینوی دانش

1-1. ص 2 غ 3. ص 4 غ

2- 1. ج 2. ب 3. الف 4. د

3- 1. ساوان

2. مورن یا یخ رفت

3. زیستی

4. خانواده زبانی

4- 1. بیشترین وحدت و همگونی در مرکز ناحیه است. هرچه از کانون به مرزهای ناحیه نزدیک تر شویم عوامل وحدت افزایش می یابند.

2. وجود هوای مرطوب - عامل صعود

3. فرسایش یخچالی

4. وقتی یک محیط جغرافیایی را براساس معیارهایی به واحدهای کوچک تر تقسیم می کنیم، به طوری که هر واحد مجاور تفاوت داشته باشد،

5. دین اسلام: انسانی هوای کوهستانی: طبیعی

6. باد جریان هوایی است که از مراکز دارای فشار زیاد به طرف مراکز کم فشار به حرکت در می آید؛ بنابراین عامل ایجاد و حرکت باد فشار است.

7. بارش و دما

8. زاگرس

5- 1. علت اصلی بارش باران جابجایی هوای مرطوب به علت اختلاف دما و رطوبت است که به جبهه‌های هواشناسی معروف است. اگر رطوبت به اندازه کافی و بسمت بالا حرکت کند، بارش از ابرهای همرفتی (که دارای حرکت عمودی به سمت بالا هستند) مانند کومولونیمبوس (ابرهای رعد و برق) رخ می‌دهد.

2. طرز تشکیل تل‌ماسه‌ها بدین صورت است که ماسه‌هایی که بوسیله باد در سطح زمین در حرکت هستند، پس از رسیدن به موانعی در سر راه خود از قبیل گیاهان، قطعات سنگ یا عوارض طبیعی دیگر، سرعت باد کاهش یافته و در نتیجه ذرات ماسه از حرکت متوقف می‌شود. این ذرات در اطراف موانع انباشته شده و بتدریج به مقدار آنها افزوده می‌شود.

3. ویژگی‌های یک ناحیه در اثر فعالیت‌های انسانی یا عوامل طبیعی ممکن است از بین برود و وسعت آن کم یا زیاد شود.

4. شکال فرسایش کاوشی (ناشی از حفر مواد): ۱- ستون‌های سنگی دریایی ۲- غارها ۳- طاق‌های دریایی  
\* اشکال فرسایش تراکمی (ناشی از رسوب‌گذاری مواد): ۱- آب سنگ‌ها و جزایر مرجانی ۲- باتلاق‌ها ۳- زبانه یا دماغه ماسه‌ای

5. در روش‌های جدید، یکی از معیارهای مورد استفاده برای تمایز زیست بوم‌ها از یکدیگر «میزان تولید ماده آلی» و سرعت رشد گیاهان هر زیست بوم است

- 6. کاشت درختان و گیاهان مقاوم و متناسب با مناطق خشک همچون گیاهان شوره‌زی
- پخش سیلاب و پخش آب
- تعادل دام و مراتع برای حفاظت از پوشش گیاهی موجود
- بهره‌گیری از روش‌های کارآ در انباشتن آب باران
- احیاء شوره زارها

7- شرایط سخت طبیعی مانند سرمای شدید به ویژه در شب‌ها، کاهش اکسیژن و مشکلات تنفسی؛

-مشکل بودن حمل و نقل و احداث راه‌ها، خطرات برف و یخ‌بندان؛

-منطبق بودن اغلب نواحی کوهستانی جوان بر گسل‌های فعال و وجود خطر زمین‌لرزه، آتش‌فشان‌های فعال و لغزش دامنه‌ها؛

-شیب زمین و محدودیت خاک، که خانه‌سازی و فعالیت‌های کشاورزی را با مشکل مواجه می‌کند.

8. تشیع و تسنن دو مذهب بزرگ اسلام هستند. - دین مسیحیت در آسیا ظهور کرد اما امروزه شمار پیروان آن در قاره‌های اروپا، امریکا، استرالیا و نیوزیلند و کشورهای مرکزی و جنوبی آفریقا بیشتر است. این دین شامل سه مذهب عمده کاتولیک، پروتستان و ارتدوکس است.


9. پدیده پخش یا انتشار فرایندی است که طی آن یک موضوع یا پدیده مانند زبان، مذهب، افکار و ایده‌ها، نوآوری، وسایل و ابزار، لباس، شیوه زندگی و حتی بیماری از یک مکان به سایر مکان‌ها گسترش می‌یابد.

10. انسان‌ها با تغییراتی که در محیط‌های طبیعی به وجود می‌آورند، «چشم‌اندازهای فرهنگی» خلق می‌کنند. فرهنگ هر ناحیه، موجب به وجود آمدن چشم‌اندازهای خاصی در آن ناحیه می‌شود.



## اپلیکیشن درسی همیار

برنامه رایگان درسی همیار



تمام پایه ها

جواب کتاب ، تدریس و نمونه سوال



همیشه رایگان

برنامه همیار کاملا رایگان میباشد