

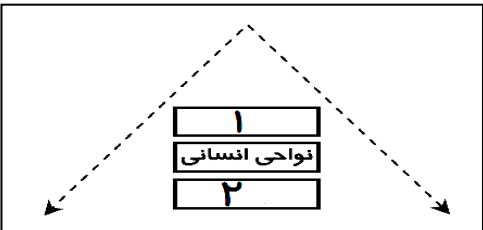
شماره صفحه : ۱	باسمه تعالی	تعداد صفحات : ۴
نام درس : جغرافیا ۲	اداره کل آموزش و پرورش استان البرز	مدت امتحان : ۸۰ دقیقه
رشته : علوم انسانی	مدیریت آموزش و پرورش ناحیه ۳ کرج	تاریخ امتحان : ۱۸ / ۱۰ / ۱۴۰۲
نام و نام خانوادگی :	سوالات دانش آموزان مدارس دوره دوم متوسطه	ساعت : ۸ صبح
کلاس :	هنرستان و دبیرستان شهید ثانی	نمره و امضاء:
شماره داوطلب :	امتحانات نوبت اول (دی ماه ۱۴۰۲)	
نام دبیر : خانم کاری		

ردیف	سوالات	بارم
۱	<p>درست <input checked="" type="checkbox"/> یا نادرست <input checked="" type="checkbox"/> بودن جملات زیر را مشخص کنید .</p> <p>الف (مکانهایی که ویژگی های مشابه دارند، همان نواحی هستند. <input type="checkbox"/>)</p> <p>ب) دره های V شکل معمولاً بر اثر فرسایش یخچالی طی هزاران سال پدید آمده اند. <input type="checkbox"/>)</p> <p>ج) تخمین زده می شود که حدود ۱۰ درصد مردم جهان در نواحی کوهستانی زندگی می کنند. <input type="checkbox"/>)</p> <p>د (فرهنگ هر ناحیه، موجب به وجود آمدن چشم اندازهای خاصی در آن ناحیه می شود. <input type="checkbox"/>)</p>	۱
۲	<p>در جاهای خالی کلمات مناسب بنویسید .</p> <p>الف (..... یکی از مفاهیم اصلی در دانش جغرافیاست.</p> <p>ب (به حجم وسیعی از هوا که از نظر دما و رطوبت، در سطح افقی تا صدها کیلومتر ویژگی های یکسانی داشته باشد، گفته می شود .</p> <p>ج (پدیده پخش یا فرایندی است که طی آن یک موضوع یا پدیده مانند زبان، مذهب، افکار و ایده ها و.. از یک مکان به سایر مکان ها گسترش می یابد.</p> <p>د (زیست بوم از تعدادی تشکیل شده است و وسعت زیادی دارد.</p>	۱
۳	<p>در هر یک از جملات زیر، کلمه مناسب داخل پرانتز را انتخاب کنید .</p> <p>الف (تعیین مرز نواحی انسانی (دشوارتر - آسان تر) از نواحی طبیعی است .</p> <p>ب) میزان بارندگی سالانه در مناطق (بیابانی - نیمه بیابانی) ۵۰ تا ۱۰۰ میلی متر است.</p> <p>ج ((فلات ها - دشت ها) بیش از یک سوم سطح زمین را پوشانده اند .</p> <p>د) در بین زبان های خانواده آفروآسیایی، معروف ترین و مهم ترین آنها زبان (عربی - ایرانی) است.</p>	۱
۴	<p>مفهوم هر یک از جملات زیر را با عبارت بیشتر یا کمتر کامل کنید.</p> <p>الف) مقدار انرژی خورشیدی که هر سانتیمترمربع از زمین در مناطق استوایی دریافت می کند، بسیار از مقداری است که مناطق قطبی جذب می کنند.</p> <p>ب) هرچه سرعت رشد پوشش گیاهی در یک ناحیه باشد، میزان تولید ماده آلی در آنجا بیشتر است.</p> <p>ج) در دامنه های پرشیب، ضخامت خاک است و این دامنه ها می توانند آب را در خود نگه دارند.</p>	۱

۱/۵	<p>گزینه صحیح را انتخاب کنید .</p> <p>الف) کدام گزینه نشان می دهد نواحی با یک دیگر رابطه و کنش متقابل دارند ؟</p> <p>۱- استفاده از پانل خورشیدی در سمنان ۲- ساخت جزیره مصنوعی در خلیج فارس</p> <p>۳- وقوع جنگ بین حکومت ها ۴- امضای موافقت نامه فرهنگی بین ایران و چین</p> <p>ب) بر اساس تقسیم بندی کوپن علامت اختصاری B و D هر کدام به ترتیب نشانگر کدام آب و هوا است ؟</p> <p>۱- قطبی، معتدل ۲- گرم و مرطوب، سرد ۳- خشک، سرد ۴- معتدل، استوایی</p> <p>ج) کدام راهکار برای حفاظت از هر سه زیست بوم کوهستان ، بیابان و ساحل به کار می رود ؟</p> <p>۱- کشت گیاهان سازگار با محیط زیست ۲- تثبیت تپه های ماسه ای</p> <p>۳- زهکشی اراضی ۴- ایجاد حوضچه های ذخیره و سیل بند</p> <p>د) غار کتله خور زنجان در نتیجه فرسایش به وجود می آیند.</p> <p>۱- انسانی ۲- انحلالی ۳- بادی ۴- یخچالی</p> <p>ه) کدام زیست بوم بیشترین و کدام زیست بوم کمترین میزان تولید مواد آلی را دارند ؟</p> <p>۱- جنگل های بارانی استوا - توندرا ۲- جنگل های پهن برگ - توندرا</p> <p>۳- جنگل های پهن برگ - بیابان ۴- جنگل های بارانی استوا - بیابان</p> <p>و) کدام گزینه در نوع دوم پخش فرهنگی نقش مهمی دارد ؟</p> <p>۱- مهاجرت ۲- جنگ ۳- رسانه ها ۴- داد و ستد</p>	۵										
۰/۷۵	<p>با توجه به تقسیمات بارشی ایران، هر یک از ایستگاه های نام برده، در چه ناحیه ای قرار دارد ؟</p> <table border="1" data-bbox="183 1232 1412 1500"> <thead> <tr> <th>نام ایستگاه</th> <th>نام ناحیه</th> </tr> </thead> <tbody> <tr> <td>۱- زنجان</td> <td>الف) خزر شرقی</td> </tr> <tr> <td>۲- سمنان</td> <td>ب) داخلی</td> </tr> <tr> <td>۳- گرگان</td> <td>ج) خزر غربی</td> </tr> <tr> <td></td> <td>د) آذربایجان و زاگرس</td> </tr> </tbody> </table>	نام ایستگاه	نام ناحیه	۱- زنجان	الف) خزر شرقی	۲- سمنان	ب) داخلی	۳- گرگان	ج) خزر غربی		د) آذربایجان و زاگرس	۶
نام ایستگاه	نام ناحیه											
۱- زنجان	الف) خزر شرقی											
۲- سمنان	ب) داخلی											
۳- گرگان	ج) خزر غربی											
	د) آذربایجان و زاگرس											
۰/۵	<p>کدام ویژگی اصلی ناحیه، به وحدت یابی اشاره دارد ؟</p>	۷										
۰/۵	<p>از معیار های زیر، کدام یک به عوامل انسانی و کدام یک به عوامل طبیعی ارتباط دارد ؟</p> <p>الف) قوم تاجیک</p> <p>ب) ناحیه تایگا.....</p>	۸										
۰/۷۵	<p>الف) در ناحیه معتدله حوالی عرض جغرافیایی ۶۰ درجه، چه نوع مرکز فشاری به وجود می آید؟</p> <p>ب) علت ایجاد آن چیست؟</p>	۹										

سوالات

صفحه ۳

۱	<p>الف) بیشترین عوامل وحدت و همگونی در کدام قسمت ناحیه جغرافیایی وجود دارد؟ ب) شهرها، استانها و کشورها از چه نوع نواحی محسوب می شوند؟ ج) با توجه به شکل رو برو، که نقش حکومتها را نشان می دهد، موارد ۱ و ۲ مربوط به کدام نواحی است؟</p> <div style="display: flex; align-items: center; justify-content: center;">  <div style="margin-left: 20px;"> <p>۱-.....</p> <p>۲-.....</p> </div> </div>	۱۰
۱	<p>علت اصلی ایجاد هر یک از بیابانهای زیر را ذکر کنید؟ الف) گبی ب) آتاکاما</p>	۱۱
۰/۷۵	<p>هر یک از قابلیت های زیر خاص کدام نواحی (کوهستانی - بیابانی - ساحلی) است؟ الف) فعالیت های بازرگانی ب) مناسب پرورش دام و رمه گردانی ج) تامین منابع آب شیرین</p>	۱۲
۰/۵	<p>هر یک از عبارات های زیر بیانگر کدام نوع بارش می باشد؟ الف) این نوع بارندگی بیش تر در محل جبهه ها، به وجود می آید؟ ب) بارش های بهاری بیش تر از این نوع اند؟</p>	۱۳
۱/۵	<p>درارتباط با خانواده های زبانی مهم و پرتکلم جهان به سوالات به صورت کوتاه پاسخ دهید: الف) کدام خانواده زبانی در میان مردم زردپوست ناحیه آسیای شرقی رواج دارد؟ ب) امروزه چه عواملی سبب شده برخی از زبانها در جهان غلبه بیشتری پیدا کنند؟ ج) زبان لری از زیرشاخه های کدام خانواده بزرگ زبانی است؟</p>	۱۴
۱	<p>الف) دو دلیل بیاورید که نواحی بیابانی برای فعالیت و سکونت انسان شرایط مناسب ندارد؟ ب) در مناطق بیابانی بهتر است به جای مالچ نفتی از چه مالچ هایی استفاده کرد؟</p>	۱۵
۰/۵	<p>هر یک از عبارات های زیر، به کدام اشکال فرسایشی در بیابان اشاره دارد؟ الف) به این اشکال در زبان انگلیسی هودو (Hoodoo) می گویند؟ ب) تپه های ماسه ای هلالی شکل و منفردی هستند که دو زائده یا بازو در جهت باد دارند؟</p>	۱۶

سوالات

صفحه ۴

<p>۱/۵</p>		<p>۱۷ با توجه به منحنی های ایزوبار به سوالات پاسخ دهید: الف) کدام یک از مراکز A و B آنتی سیکلون و کدام یک سیکلون است؟ با حرف L و H نامگذاری کنید. ب) کدام یک پایین ترین فشار را دارد؟ مقدار فشار آن چقدر است؟</p>
<p>۰/۷۵</p>	<p>۱۸ الف) منظور از آنیمیسیم چیست؟ ب) دو مذهب دین اسلام را نام ببرید؟</p>	
<p>۰/۵</p>	<p>۱۹ هر یک از پدیده های زیر، به کدام یک از اشکال فرسایشی در سواحل (گاوشی - تراکمی) ارتباط دارد؟ الف) آب سنگ های مرجانی ب) غارهای دریایی</p>	
<p>۲</p>	<p>۲۰ با توجه به شکل روبرو به موارد زیر پاسخ دهید. الف) نیم رخ توپوگرافی را در راستای مورد نظر رسم کنید. ب) فاصله بین هر منحنی میزان چقدر است؟ ج) شیب در جهت AB بیش تر است یا CD؟</p>	
<p>۱</p>	<p>۲۱ الف - منظور از یک ناحیه فرهنگی چیست؟ ب - مطالعه نواحی فرهنگی از مهم ترین موضوعات کدام شاخه از دانش جغرافیاست؟</p>	
<p>۲۰</p>	<p>جمع نمره</p>	

موفق باشید



کلید سوالات آزمون جغرافیا ۲

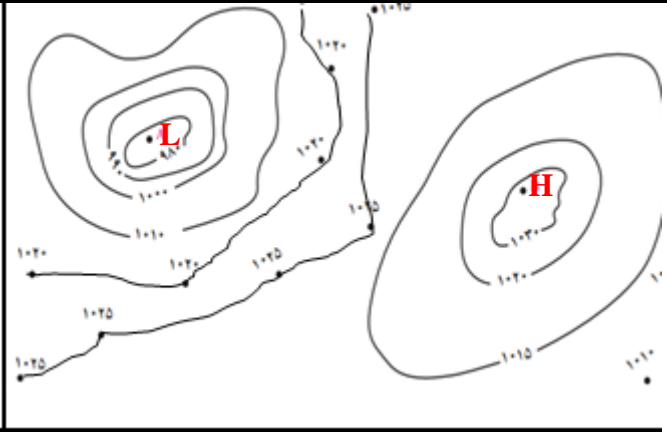
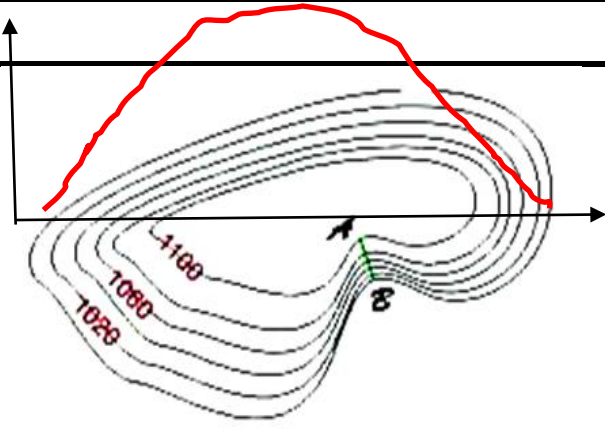
یازدهم انسانی

نوبت اول دی ماه ۱۴۰۲

دبیرستان و هنرستان شهیدثانی

خانم کاری

ردیف	سوالات	بارم
۱	الف) درست. (۰/۲۵) ب) نادرست. (۰/۲۵) ج) درست. (۰/۲۵) د) درست. (۰/۲۵)	۱
۲	الف) ناحیه (۰/۲۵) ب) توده هوا (۰/۲۵) ج) انتشار (۰/۲۵) د) بوم سازگان (۰/۲۵)	۱
۳	الف) دشوارتر (۰/۲۵) ب) نیمه بیابانی (۰/۲۵) ج) دشت ها (۰/۲۵) د) عربی (۰/۲۵)	۱
۴	الف) بیشتر (۰/۲۵) ب) بیشتر (۰/۲۵) ج) کمتر (۰/۲۵) د) کمتر (۰/۲۵)	۱
۵	الف) ۴ (۰/۲۵) ب) ۳ (۰/۲۵) ج) ۱ (۰/۲۵) د) ۲ (۰/۲۵) هـ) ۴ (۰/۲۵) و) ۳ (۰/۲۵)	۱/۵
۶	الف) ۳ (۰/۲۵) ب) ۲ (۰/۲۵) د) ۱ (۰/۲۵)	۰/۷۵
۷	ویژگی اصلی هر ناحیه، وحدت و همگونی نسبی عناصر طبیعی (۰/۲۵) و انسانی (۰/۲۵) در آن است	۰/۵
۸	الف) عامل انسانی (۰/۲۵) ب) عامل طبیعی (۰/۲۵)	۰/۵
۹	الف) منطقه فشار کم (۰/۲۵) ایجاد می شود. ب) بر اثر صعود هوا (۰/۲۵) این صعود تحت تأثیر توده هوایی است که از سمت قطب به طرف آن حرکت می کند (۰/۲۵) و هوای نسبتاً گرمتر را به سمت بالا می راند.	۰/۷۵
۱۰	الف) کانون (۰/۲۵) یا مرکز ناحیه ب) نواحی سیاسی (۰/۲۵) ج) ۱- ناحیه سیاسی (۰/۲۵) و ۲- ناحیه طبیعی (۰/۲۵) است	۱
۱۱	الف) به علت دوری از دریاها و منابع رطوبتی (۰/۲۵) و یا شکل و جهت ناهمواری ها (۰/۲۵) و یا قرار گرفتن در پشت کوهها (۰/۲۵) که از رسیدن توده هوای مرطوب به آنها جلوگیری می کند ب) مرکز پرفشار (۰/۲۵) یا عدم صعود هوا	۱
۱۲	الف) ساحلی (۰/۲۵) ب) کوهستانی (۰/۲۵) ج) کوهستانی (۰/۲۵)	۰/۷۵
۱۳	الف) جبهه ای یا سیکلونی (۰/۲۵) ب) همرفتی (۰/۲۵)	۰/۵
۱۴	الف) چینی - تبتی (۰/۵) ب) رشد ارتباطات و فناوری اطلاعات (۰/۵) ج) هندواروپایی (۰/۵)	۱/۵
۱۵	سرما (۰/۲۵) یا گرمای شدید هوا (۰/۲۵)، خشکی هوا، کمبود آب و دشواری آمد و شد و راه سازی به دلیل پوشش وسیع ماسه ای ب) ریگ (۰/۲۵) یا بقایای گیاهان (۰/۲۵)	۱

۰/۵	الف (ستون سنگی یا گرز دیو (۰/۲۵) ب) برخان(۰/۲۵)	۱۶
۱/۵	 <p>الف) A سیکلون (۰/۲۵) و B آنتی سیکلون (۰/۲۵) است. L (۰/۲۵) و H (۰/۲۵) ب) A (۰/۲۵) و ۹۸۰ (۰/۲۵)</p>	۱۷
۰/۲۵	الف) مذاهب قبیله ای است. (۰/۲۵) ب) تشیع (۰/۲۵) و تسنن (۰/۲۵)	۱۸
۰/۵	الف) تراکمی (۰/۲۵) ب) کاوشی (۰/۲۵)	۱۹
۲	 <p>الف) (۱/۵) ب) ۲۰ متر (۰/۲۵) ج) شیب در جهت AB بیش تر است (۰/۲۵)</p>	۲۰
۱	الف) بخشی از سطح زمین است (۰/۲۵) که در آن فرهنگ ویژه ای غالب است (۰/۲۵) و به سبب همان فرهنگ ویژه از سایر نواحی جدا می شود. (۰/۲۵) ب) جغرافیای فرهنگی (۰/۲۵)	۲۱
۲۰	جمع نمره	



اپلیکیشن درسی همیار

برنامه رایگان درسی همیار



تمام پایه ها

جواب کتاب ، تدریس و نمونه سوال



همیشه رایگان

برنامه همیار کاملا رایگان میباشد