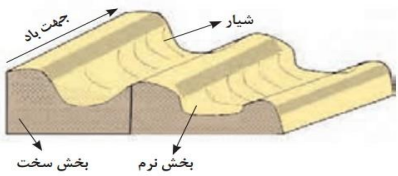
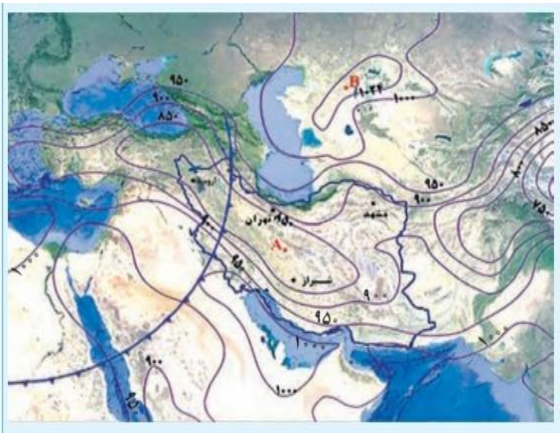
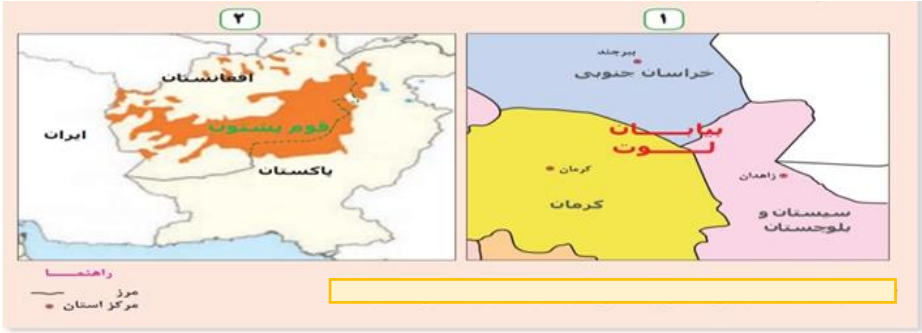




| | | | | | |
|-------------------------|-----------------------|-----------------------------|-------------------------|---|---|
| مهر آموزشگاه | ساعت امتحان : ۱۰ صبح | رشته : ادبیات و علوم انسانی | پایه : یازدهم | نام آموزشگاه : نمونه بعثت | اداره آموزش و پرورش ناحیه ۲ کرمانشاه |
| | وقت امتحان : ۷۵ دقیقه | درس : جغرافیا (۲) | تاریخ آزمون : ۱۳/۳/۱۴۰۲ | شامل : ۲۴ سوال در ۴ صفحه (پاسخ سوالات در برگه امتحانی بنویسید) | سوالات ارزشیابی : نوبت دوم |
| | نام ناظر | نام مدیر آموزشگاه | نام طراح | شماره صندلی | نام و نام خانوادگی |
| | رودابه قادری | اعظم نجفی زنگنه | محمودیان | | کلاس |
| | | | | | ۲۰۴ |
| یاد خدا آرام بخش دلهاست | | | | | |

| بارم | ردیف | سوال |
|--------------------------|------|---|
| ۱/۲۵ | ۱ | <p>صحیح و غلط بودن عبارات زیر را مشخص کنید.</p> <p>الف - در جنگ های جهانی اول و دوم به کشورهای سرمایه داری صنعتی ، خسارت های زیادی وارد شد.</p> <p>ب - مطالعه نواحی سیاسی یکی از موضوعات رشته ی جغرافیای اقتصادی است.</p> <p>پ - خطوط هوایی حد اعمال اراده سیاسی یک حکومت یا یک نظام مدیریت هستند.</p> <p>ت - هویت یک ملت ریشه در تاریخ و فرهنگ مشترک آن دارد.</p> <p>ث - حدود ۴۰ درصد ذرت جهان توسط ایالات متحده آمریکا تولید می شود.</p> |
| ۱/۲۵ | ۲ | <p>در پرسش های زیر گزینه صحیح را انتخاب کنید.</p> <p>الف - کدام گزینه پاسخ صحیح سوال زیر است ؟</p> <p>۱ - شیوه کشاورزی تجاری به دنبال چه مسئله ای در جهان گسترش یافت ؟</p> <p>۲ - استخراج معدن مربوط به کدام نوع فعالیت است ؟</p> <p>۳ - میزان تولید و سود اقتصادی در کشاورزی معیشتی چگونه است ؟</p> <p>۱) پیشرفت های فناوریانه - صنعت - تولید زیاد و سود کم <input type="checkbox"/></p> <p>۲) پیشرفت های فناوریانه - کشاورزی - تولید و سود کم <input type="checkbox"/></p> <p>۳) رشد جمعیت در جهان - کشاورزی - تولید و سود کم <input type="checkbox"/></p> <p>۴) رشد جمعیت در جهان - صنعت - تولید زیاد و سود کم <input type="checkbox"/></p> <p>ب - کدام کشور از پیش گامان الگوی نظام سیاسی تک ساخت است ؟</p> <p>۱) استرالیا <input type="checkbox"/> ۲) فرانسه <input type="checkbox"/> ۳) انگلستان <input type="checkbox"/> ۴) آمریکا <input type="checkbox"/></p> <p>پ - این کشور الگوی نظام سیاسی یکپارچه دارد.</p> <p>۱) ایران <input type="checkbox"/> ۲) آلمان <input type="checkbox"/> ۳) عراق <input type="checkbox"/> ۴) جمهوری آذربایجان <input type="checkbox"/></p> <p>ت - در کدام گزینه به درستی * مرکز - پیرامون - نیمه پیرامون * و همچنین کشور مورد نظریان شده است.</p> <p>۱) نیمه پیرامون - بنگلادش <input type="checkbox"/> ۲) مرکز - چین <input type="checkbox"/> ۳) پیرامون - کره جنوبی <input type="checkbox"/> ۴) مرکز - ژاپن <input type="checkbox"/></p> <p>ث - کشورهایی هستند که بین دو یا چند قدرت بزرگ قرار دارند</p> <p>۱) محاطی <input type="checkbox"/> ۲) حائل <input type="checkbox"/> ۳) محیطی <input type="checkbox"/> ۴) دنباله دار <input type="checkbox"/></p> |
| ۱ | ۳ | <p>عبارات زیر را با کلمه مناسب کامل کنید.</p> <p>الف - به استان ها یا ایالت هایی که به دلیل شرایط قومی و مذهبی از استقلال محدودی برخوردارند ، نواحی می گویند.</p> <p>ب - عنصر بنیادین یک کشور است.</p> <p>پ - جوهره ی ژئوپلیتیک را تشکیل می دهد.</p> <p>ت - بهترین شکل برای یک کشور ، شکل است.</p> |
| ۱ | ۴ | <p>کلمه مناسب را از داخل کمانک () انتخاب کنید.</p> <p>الف - مهم ترین نواحی صنعتی اروپا در (شرق - غرب) این قاره قرار دارد.</p> <p>ب - شرکت های (چند ملیتی - میزبان) به دنبال افزایش فروش و سود خود هستند.</p> <p>پ - هر کشور مستقل که نظام حکومتی مستقلی دارد ، یک ناحیه ی سیاسی (فرومی - ملی) محسوب می شود.</p> <p>ت - از وظایف مهم نظام مدیریت مدرسه ، پرداخت قبض آب و برق به (تنظیم امور فضا - تنظیم امور مدرسه با خارج از آن) مربوط است.</p> |
| ۰/۵ | ۵ | <p>ناحیه بندی جغرافیادان ها با کارمحققان سایر رشته های علمی چه شباهتی دارد؟</p> |
| ادامه سوالات در صفحه دوم | | |

| بارم | ادامه سوالات | ردیف |
|-------|--|------|
| . / ۵ | <p>با توجه به نقشه به سوالات زیر پاسخ دهید.</p> <p>الف - در نقشه شماره (۱) ، استان های سیستان و بلوچستان و کرمان و خراسان جنوبی چگونه از هم جدا شده اند؟</p> <p>ب - در نقشه شماره (۲) ، کشورهای افغانستان و پاکستان چگونه از هم جدا شده اند؟</p> | ۶ |
| ۱ | <p>این نقشه ، هوای ایران را در یک روز معین از سال نشان می دهد. با توجه به این مورد به سوالات زیر پاسخ دهید.</p> <p>الف - از این دو شهر ارومیه و تهران کدام یک سرد تر است ؟ چرا؟</p> <p>ب - برای ساعات آینده چه تغییری برای دمای هوا در تهران پیش بینی می کنید.</p> | ۷ |
| ۱ | <p>با توجه به مدل زیر ، چگونگی فرایند فرسایش و چگونگی پیدایش آن را شرح دهید.</p> | ۸ |
| ۱ | <p>قابلیت های ناحیه زیستی زیر را با توجه به شکل در " نقطه چین ها " بنویسید.</p> | ۹ |



| ردیف | ادامه سوالات | بارم | | | | | | | | |
|--|--|---|-------------------|---------------------------------------|-------------------|--|-------------------|--|---------------|--|
| ۱۰ | به نظر شما ، پخش فرهنگی درجه زمینه های مثبت و قابل قبول ، و درجه زمینه های نامناسب و منفی است ؟ نظر خود را با استدلال توضیح دهید. | ۱ | | | | | | | | |
| ۱۱ | با توجه به نقشه و راهنمای آن ، کشورها را از نظر سوء تغذیه مقایسه و نقشه را تفسیر کنید. | ۱ | | | | | | | | |
| |  <p>میزان سوء تغذیه در جمعیت جهان ، گزارش فانو (۲۰۱۶-۲۰۱۴ م)</p> | | | | | | | | | |
| ۱۲ | هریک از عبارات های سمت راست در جدول با کدام نوع کشاورزی تجاری در سمت چپ ارتباط دارد ؟ (یک مورد اضافی است). | ۰/۷۵ | | | | | | | | |
| | <table border="1"> <tr> <td>الف - کاشت و برداشت محصول به صورت ماشینی انجام می شود</td> <td>۱ - دامداری تجاری</td> </tr> <tr> <td>ب - خطر فرسایش وضعیف شدن خاک زیاد است</td> <td>۲ - باغداری تجاری</td> </tr> <tr> <td>پ - آرژانتین و برزیل از مهم ترین مراکز این طبقه بندی هستند</td> <td>۳ - کشت غله تجاری</td> </tr> <tr> <td></td> <td>۴ - پالانتیشن</td> </tr> </table> | الف - کاشت و برداشت محصول به صورت ماشینی انجام می شود | ۱ - دامداری تجاری | ب - خطر فرسایش وضعیف شدن خاک زیاد است | ۲ - باغداری تجاری | پ - آرژانتین و برزیل از مهم ترین مراکز این طبقه بندی هستند | ۳ - کشت غله تجاری | | ۴ - پالانتیشن | |
| الف - کاشت و برداشت محصول به صورت ماشینی انجام می شود | ۱ - دامداری تجاری | | | | | | | | | |
| ب - خطر فرسایش وضعیف شدن خاک زیاد است | ۲ - باغداری تجاری | | | | | | | | | |
| پ - آرژانتین و برزیل از مهم ترین مراکز این طبقه بندی هستند | ۳ - کشت غله تجاری | | | | | | | | | |
| | ۴ - پالانتیشن | | | | | | | | | |
| ۱۳ | هر تصویر کدام نوع فعالیت اقتصادی را نشان می دهد؟ تصویر الف : تصویر ب : | ۰/۵ | | | | | | | | |
| |   <p>الف</p> <p>ب</p> | | | | | | | | | |
| ۱۴ | هریک از کلمات داخل * پرانتز * مناسب کدام عبارت می باشد؟ (مرکز - هلند - پیرامون - اوپک - کشتی های فله بر - اقتصاد جهانی - بلژیک - هواپیما - نفتا) الف - بر مبنای ارزش پول یک کشور صورت می گیرد؟ ب - کشور کنگو توسط این کشور غارت و چپاول شد. پ - برای کاهش قیمت نفت در بازار جهانی این سازمان تشکیل شد. ت - در این ناحیه مواد اولیه و خام و نیروی کار ارزان وجود دارد. ث - حمل کننده مبادلات اقتصادی کشورها مانند غلات ، زغال و سیمان است . | ۱/۲۵ | | | | | | | | |
| ۱۵ | اقدامات کشورها برای کاهش تاثیر منفی تجارت خارجی (صادرات و واردات) و رونق اقتصادی را بنویسید. (ذکر چهار مورد الزامیست). | ۱ | | | | | | | | |
| | <p>۱ : _____</p> <p>۲ : _____</p> <p>۳ : _____</p> <p>۴ : _____</p> | | | | | | | | | |
| ۱۶ | در شکل زیر ، ارکان ناحیه سیاسی را با توجه به شکل در * نقطه چین ها * بنویسید. | ۰/۷۵ | | | | | | | | |
| |  <p>ارکان ناحیه سیاسی</p> | | | | | | | | | |
| ۱۷ | چرا شهرستان و استان ، ناحیه ی سیاسی محسوب می شود ؟ | ۰/۵ | | | | | | | | |

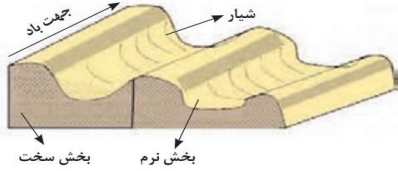
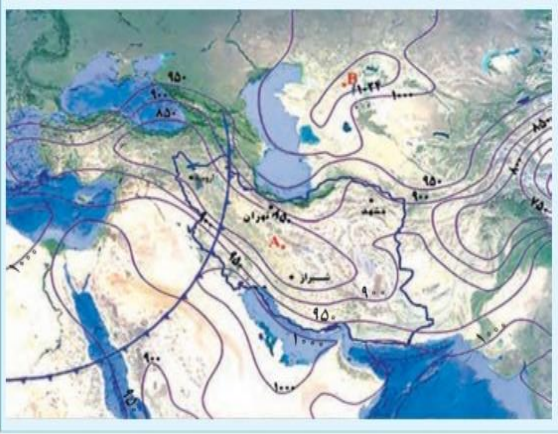
| ردیف | ادامه سوالات | بارم |
|------------|---|------|
| ۱۸ | <p>کدام یک از عبارات زیر تحت تاثیر* فضای جغرافیایی برسیاست* و یا تحت تاثیر* تصمیم گیری های سیاسی بر فضای جغرافیایی* می باشد؟</p> <p>الف - شورای ترافیک استان خراسان رضوی و سازمان حمل و نقل شهرداری مشهد با طراحی و اجرای محدوده ی طرح ترافیک زوج و فرد ، سعی در حل این مشکل کرده اند.</p> <p>ب - دو قطبی شدن شهرها و پیدایش مناطق مرفه نشین ، که به طبقه ثروتمند اختصاص دارد و مناطق فقیرنشین که فاقد امکانات اند، از ویژگی های ایدئولوژی سرمایه داری است.</p> | ۰/۵ |
| ۱۹ | <p>با توجه به نوع مرزها به سوالات زیر پاسخ دهید.</p> <p>الف - در کدام نوع از مرزها ، حداقل کشمکش و اختلاف مشاهده می شود؟</p> <p>ب - در کدام نوع مرز ، افراد یک ملت یا قوم در دو کشور همسایه و در دو حکومت جداگانه قرار می گیرند؟</p> | ۰/۵ |
| ۲۰ | <p>با توجه به تصاویر زیر، اگر یک رود مرز بین دو کشور باشد ، برای تعیین مرز از چه خطوطی استفاده می شود؟</p> <p>شکل ۱:</p> <p>شکل ۲:</p> | ۰/۵ |
| |  <p>شکل ۱</p>  <p>شکل ۲</p> | |
| ۲۱ | <p>عوامل مختلفی که در انتخاب یک مکان به عنوان پایتخت موثرند ، کدام اند ؟ (ذکر دو مورد الزامیست).</p> <p>۱:</p> <p>۲:</p> | ۰/۵ |
| ۲۲ | <p>مهم ترین عوامل پیدایش و بقای یک کشور را نام ببرید.</p> | ۰/۷۵ |
| ۲۳ | <p>نظریه راتزل را نقد کنید.</p> | ۱ |
| ۲۴ | <p>اصطلاح* ناحیه یا منطقه ژئوپلتیک* چیست ؟</p> | ۱ |
| موفق باشید | | ۲۰ |
| جمع نمرات | | |

| | |
|------------------------------|------------------------------|
| نام و نام خانوادگی مصحح اول: | نام و نام خانوادگی مصحح دوم: |
| تاریخ و امضاء: | تاریخ و امضاء: |
| نمره مستمر کلاسی | نمره مستمر کلاسی |
| نمره برگه امتحانی | نمره برگه امتحانی |
| میانگین نمره | میانگین نمره |

| | | | | | |
|-------------------------|-----------------------|-----------------------------|-------------------------|---|---|
| مهر آموزشگاه | ساعت امتحان : ۱۰ صبح | رشته : ادبیات و علوم انسانی | پایه : یازدهم | نام آموزشگاه : نمونه بعثت | اداره آموزش و پرورش ناحیه ۲ کرمانشاه |
| | وقت امتحان : ۸۰ دقیقه | درس : جغرافیا (۲) | تاریخ آزمون : ۱۳/۳/۱۴۰۲ | شامل : ۲۴ سوال در ۴ صفحه (پاسخ سوالات در برگه امتحانی بنویسید) | سوالات ارزشیابی : نوبت دوم |
| | نام ناظر | نام مدیر آموزشگاه | نام طراح | شماره صندلی | نام و نام خانوادگی |
| | رودابه قادری | اعظم نجفی زنگنه | میترا محمودیان | | کلاس |
| | | | | | ۲۰۴ |
| یاد خدا آرام بخش دلهاست | | | | | |

| بارم | ردیف | سوال |
|------|------|--|
| ۱/۲۵ | ۱ | <p>صحیح و غلط بودن عبارات زیر را مشخص کنید.</p> <p>الف - در جنگ های جهانی اول و دوم به کشورهای سرمایه داری صنعتی ، خسارت های زیادی وارد شد.</p> <p>ب - مطالعه نواحی سیاسی یکی از موضوعات رشته ی جغرافیای اقتصادی است.</p> <p>پ - خطوط هوایی حد اعمال اراده سیاسی یک حکومت یا یک نظام مدیریت هستند.</p> <p>ت - هویت یک ملت ریشه در تاریخ و فرهنگ مشترک آن دارد.</p> <p>ث - حدود ۴۰ درصد ذرت جهان توسط ایالات متحده آمریکا تولید می شود.</p> |
| ۱/۲۵ | ۲ | <p>در پرسش های زیر گزینه صحیح را انتخاب کنید.</p> <p>الف - کدام گزینه پاسخ صحیح سوال زیر است ؟</p> <p>۱ - شیوه کشاورزی تجاری به دنبال چه مسئله ای در جهان گسترش یافت ؟</p> <p>۲ - استخراج معدن مربوط به کدام نوع فعالیت است ؟</p> <p>۳ - میزان تولید و سود اقتصادی در کشاورزی معیشتی چگونه است ؟</p> <p>۱) پیشرفت های فناوریانه - صنعت - تولید زیاد و سود کم <input type="checkbox"/></p> <p>۲) پیشرفت های فناوریانه - کشاورزی - تولید و سود کم <input type="checkbox"/></p> <p>۳) رشد جمعیت در جهان - کشاورزی - تولید و سود کم <input checked="" type="checkbox"/></p> <p>۴) رشد جمعیت در جهان - صنعت - تولید زیاد و سود کم <input type="checkbox"/></p> <p>ب - کدام کشور از پیش گامان الگوی نظام سیاسی تک ساخت است ؟</p> <p>۱) استرالیا <input type="checkbox"/> ۲) فرانسه <input checked="" type="checkbox"/> ۳) انگلستان <input type="checkbox"/> ۴) آمریکا <input type="checkbox"/></p> <p>پ - این کشور الگوی نظام سیاسی یکپارچه دارد.</p> <p>۱) ایران <input checked="" type="checkbox"/> ۲) آلمان <input type="checkbox"/> ۳) عراق <input type="checkbox"/> ۴) جمهوری آذربایجان <input type="checkbox"/></p> <p>ت - در کدام گزینه به درستی * مرکز - پیرامون - نیمه پیرامون * و همچنین کشور مورد نظریان شده است.</p> <p>۱) نیمه پیرامون - بنگلادش <input type="checkbox"/> ۲) مرکز - چین <input type="checkbox"/> ۳) پیرامون - کره جنوبی <input type="checkbox"/> ۴) مرکز - ژاپن <input checked="" type="checkbox"/></p> <p>ث - کشورهایی هستند که بین دو یا چند قدرت بزرگ قرار دارند</p> <p>۱) محاطی <input type="checkbox"/> ۲) حائل <input checked="" type="checkbox"/> ۳) محیطی <input type="checkbox"/> ۴) دنباله دار <input type="checkbox"/></p> |
| ۱ | ۳ | <p>عبارات زیر را با کلمه مناسب کامل کنید.</p> <p>الف - به استان ها یا ایالت هایی که به دلیل شرایط قومی و مذهبی از استقلال محدودی برخوردارند ، نواحی خود مختار می گویند.</p> <p>ب - عنصر بنیادین یک کشور ملت است.</p> <p>پ - جوهره ی ژئوپلیتیک را قدرت تشکیل می دهد.</p> <p>ت - بهترین شکل برای یک کشور ، شکل فشرده یا جمع وجور است.</p> |
| ۱ | ۴ | <p>کلمه مناسب را از داخل کمانک () انتخاب کنید.</p> <p>الف - مهم ترین نواحی صنعتی اروپا در (شرق - غرب) این قاره قرار دارد.</p> <p>ب - شرکت های (چند ملیتی - میزبان) به دنبال افزایش فروش و سود خود هستند.</p> <p>پ - هر کشور مستقل که نظام حکومتی مستقلی دارد ، یک ناحیه ی سیاسی (فرومی - ملی) محسوب می شود.</p> <p>ت - از وظایف مهم نظام مدیریت مدرسه ، پرداخت قبض آب و برق به (تنظیم امور فضا - تنظیم امور مدرسه با خارج از آن) مربوط است.</p> |
| ۰/۵ | ۵ | <p>ناحیه بندی جغرافیدان ها با کارمحققان سایر رشته های علمی چه شباهتی دارد؟ با روش ناحیه بندی همانند سایر علوم ، مطالعات دقیق ترو علمی تر انجام می شود.</p> |

| بارم | ادامه سوالات | ردیف |
|-------|---|------|
| . / ۵ | <p>با توجه به نقشه به سوالات زیر پاسخ دهید.</p> <p>الف - در نقشه شماره (۱) ، استان های سیستان و بلوچستان و کرمان و خراسان جنوبی چگونه از هم جدا شده اند ؟ این سه استان به وسیله مرزهای داخلی (مرز استان ها) از هم جدا شده اند.</p> <p>ب - در نقشه شماره (۲) ، کشورهای افغانستان و پاکستان چگونه از هم جدا شده اند ؟ به وسیله مرزهای بین المللی</p> | ۶ |
| ۱ | <p>این نقشه ، هوای ایران را در یک روز معین از سال نشان می دهد. با توجه به این مورد به سوالات زیر پاسخ دهید.</p> <p>الف - از این دو شهر ارومیه و تهران کدام یک سرد تر است ؟ چرا ؟ ارومیه ، زیرا به جبهه سرد نزدیک تر است .</p> <p>ب - برای ساعات آینده چه تغییری برای دمای هوا در تهران پیش بینی می کنید. با توجه به اینکه جبهه سرد دارای حرکت غرب به شرق می باشد. در ساعات آینده هوای تهران با عبور جبهه سرد که در غرب کشور قرار دارد سرد ترمی شود.</p> | ۷ |
| ۱ | <p>با توجه به مدل زیر ، چگونگی فرایند فرسایش و چگونگی پیدایش آن را شرح دهید.</p> <p>کلوت یا یاردانگ در رسوبات نرم به جا مانده از دریاچه های قدیم پدید می آید. طی میلیون ها سال ، باد شیارهایی موازی و U شکل در این رسوبات ایجاد می کند. به تدریج بخش نرم را با خود می برد و بخش های سخت تری باقی می ماند. کلوت ها که حاصل فرسایش بادی - آبی هستند ، در مناطق خشک ایالات متحده آمریکا ف مصر ، چین و ایران مشاهده می شوند.</p> | ۸ |
| ۱ | <p>قابلیت های ناحیه زیستی زیر را با توجه به شکل در " نقطه چین ها " بنویسید.</p> <p>.... دامنه های مناسب برای پرورش دام و رمه گردانی</p> <p>..... جاذبه های گردشگری</p> <p>.... تنوع زیستی ، تنوع فرهنگ های بومی ...</p> <p>.... تامین منابع آب شیرین</p> | ۹ |



| ردیف | ادامه سوالات | بارم | | | | | | | | |
|---|---|--|-------------------|---|-------------------|---|-------------------|--|--------------|--|
| ۱۰ | به نظر شما ، پخش فرهنگی در چه زمینه هایی مثبت و قابل قبول ، و در چه زمینه هایی نامناسب و منفی است ؟ نظر خود را با استدلال توضیح دهید. پخش فرهنگی در بیشتر موارد در زمینه های علمی ف فناوری و اقتصادی مناسب می باشد و در زمینه های فرهنگی و اجتماعی در بعضی موارد (دین ، مذهب ، زبان ، فرهنگ ها و قومیت ها ف نوع لباس و پوشش و ...) نامناسب می باشد. زیرا موجب تغییر و حتی تخریب فرهنگ های بومی کشورهای می شود که پدیده پخش به ان نفوذ کرده است و در واقع کشور از مبدأ پخش به دیگر کشورها منتقل می شود. | ۱ | | | | | | | | |
| ۱۱ | با توجه به نقشه و راهنمای آن ، کشورها را از نظر سوء تغذیه مقایسه و نقشه را تفسیر کنید. بیشتر کشورهای که دچار سوء تغذیه می باشند ، در قاره آفریقا قرار دارند . مانند آفریقای مرکزی و زامبیا و نامیبیا ، در جنوب شبه جزیره عربستان به دلیل وقوع جنگ داخلی مشکل سوء تغذیه به وجود آمده است. | ۱ | | | | | | | | |
| |  <p>میزان سوء تغذیه در جمعیت جهان ، گزارش فائو (۲۰۱۶-۲۰۱۴ م)</p> | | | | | | | | | |
| ۱۲ | هر یک از عبارات های سمت راست در جدول با کدام نوع کشاورزی تجاری در سمت چپ ارتباط دارد ؟ (یک مورد اضافی است). | ۰/۷۵ | | | | | | | | |
| | <table border="1"> <tr> <td>الف - کاشت و برداشت محصول به صورت ماشینی انجام می شود. (کشت غله تجاری)</td> <td>۱ - دامداری تجاری</td> </tr> <tr> <td>ب - خطر فرسایش وضعیف شدن خاک زیاد است. (پلانتیشن)</td> <td>۲ - باغداری تجاری</td> </tr> <tr> <td>پ - آرژانتین و برزیل از مهم ترین مراکز این طبقه بندی هستند. (دامداری تجاری)</td> <td>۳ - کشت غله تجاری</td> </tr> <tr> <td></td> <td>۴ - پلانتیشن</td> </tr> </table> | الف - کاشت و برداشت محصول به صورت ماشینی انجام می شود. (کشت غله تجاری) | ۱ - دامداری تجاری | ب - خطر فرسایش وضعیف شدن خاک زیاد است. (پلانتیشن) | ۲ - باغداری تجاری | پ - آرژانتین و برزیل از مهم ترین مراکز این طبقه بندی هستند. (دامداری تجاری) | ۳ - کشت غله تجاری | | ۴ - پلانتیشن | |
| الف - کاشت و برداشت محصول به صورت ماشینی انجام می شود. (کشت غله تجاری) | ۱ - دامداری تجاری | | | | | | | | | |
| ب - خطر فرسایش وضعیف شدن خاک زیاد است. (پلانتیشن) | ۲ - باغداری تجاری | | | | | | | | | |
| پ - آرژانتین و برزیل از مهم ترین مراکز این طبقه بندی هستند. (دامداری تجاری) | ۳ - کشت غله تجاری | | | | | | | | | |
| | ۴ - پلانتیشن | | | | | | | | | |
| ۱۳ | هر تصویر کدام نوع فعالیت اقتصادی را نشان می دهد؟ تصویر الف : خدمات (فعالیت نوع سوم) تصویر ب : صنعت (فعالیت نوع دوم) | ۰/۵ | | | | | | | | |
| |  <p>الف ب</p> | | | | | | | | | |
| ۱۴ | هر یک از کلمات داخل * پرانتز * مناسب کدام عبارت می باشد؟ (مرکز - هلند - پیرامون - اوپک - کشتی های فله بر - اقتصاد جهانی - بلژیک - هواپیما - نفتا) الف - بر مبنای ارزش پول یک کشور صورت می گیرد؟ (اقتصاد جهانی) ب - کشور کنگو توسط این کشور غارت و چپاول شد. (بلژیک) پ - برای کاهش قیمت نفت در بازار جهانی این سازمان تشکیل شد. (اوپک) ت - در این ناحیه مواد اولیه و خام و نیروی کار ارزان وجود دارد. (پیرامون) ث - حمل کننده مبادلات اقتصادی کشورها مانند غلات ، زغال و سیمان است . (کشتی های فله بر) | ۱/۲۵ | | | | | | | | |
| ۱۵ | اقدامات کشورها برای کاهش تاثیر منفی تجارت خارجی (صادرات و واردات) و رونق اقتصادی را بنویسید. (ذکر چهار مورد الزامیست). ۱ : وضع تعرفه های گمرکی و مالیات بر کالاهای وارداتی ۲ : محدود یا ممنوع کردن واردات برخی کالاها در دوره های زمانی خاص ۳ : تشکیل اتحادیه های اقتصادی - تجاری منطقه ای ۴ : ایجاد مناطق آزاد تجاری | ۱ | | | | | | | | |
| ۱۶ | در شکل زیر ، ارکان ناحیه سیاسی را با توجه به شکل در * نقطه چین ها * بنویسید. نظام مدیریت ارکان ناحیه سیاسی قلمرو جغرافیایی اجتماعی و روابط تابعیت سیاسی ساز | ۰/۷۵ | | | | | | | | |

| ردیف | ادامه سوالات | بارم |
|------|---|------|
| ۱۷ | چرا شهرستان و استان ، ناحیه ی سیاسی محسوب می شود؟ زیرا تحت مدیریت ، فرماندار و استاندار قرار دارند | ۰/۵ |
| ۱۸ | کدام یک از عبارات زیر تحت تاثیر *فضای جغرافیایی بر سیاست* و یا تحت تاثیر* تصمیم گیری های سیاسی بر فضای جغرافیایی* می باشد؟ الف - شورای ترافیک استان خراسان رضوی و سازمان حمل و نقل شهرداری مشهد با طراحی و اجرای محدوده ی طرح ترافیک زوج و فرد ، سعی در حل این مشکل کرده اند. (تصمیم گیری سیاسی بر فضای جغرافیایی) ب - دو قطبی شدن شهرها و پیدایش مناطق مرفه نشین ، که به طبقه ثروتمند اختصاص دارد و مناطق فقیرنشین که فاقد امکانات اند ، از ویژگی های ایدئولوژی سرمایه داری است. (تاثیر فضای جغرافیایی بر سیاست) | ۰/۵ |
| ۱۹ | با توجه به نوع مرزها به سوالات زیر پاسخ دهید. الف - در کدام نوع از مرزها ، حداقل کشمکش و اختلاف مشاهده می شود؟ مرزهای پیشناز (قبل از سکونت) ب - در کدام نوع مرز ، افراد یک ملت یا قوم در دو کشور همسایه و در دو حکومت جداگانه قرار می گیرند؟ مرزهای تحمیلی | ۰/۵ |
| ۲۰ | با توجه به تصاویر زیر ، اگر یک رود مرز بین دو کشور باشد ، برای تعیین مرز از چه خطوطی استفاده می شود؟ شکل ۱: خط تالوک شکل ۲: خط منصف | ۰/۵ |
| |   | |
| ۲۱ | عوامل مختلفی که در انتخاب یک مکان به عنوان پایتخت موثرند ، کدام اند؟ (ذکر دو مورد الزامیست). ۱: داشتن قابلیت های محیطی مناسب ، مانند دسترسی به آب و اراضی حاصلخیز ۲: داشتن جمعیت قابل توجه ۳: در تقاطع راه های ارتباطی قرار داشتن ، دسترسی آسان به سرتاسر کشور به ویژه مرزها ۴: داشتن قابلیت دفاعی مناسب و دور بودن از مرزها | ۰/۵ |
| ۲۲ | مهم ترین عوامل پیدایش و بقای یک کشور را نام ببرید. هویت ملی ، همبستگی ملی ، پیوستگی سرزمینی | ۰/۷۵ |
| ۲۳ | نظریه راتزل را نقد کنید. همیشه کشورهای کوچک ضعیف نبی باشند. بر طبق نظریه راتزل کشورهای کوچک نابود می شوند ، ولی امروزه می بینیم که در جهان کشورهای کوچک زیادی وجود دارند و حتی بعضی از آنها کشورهای نسبتاً قدرتمندی به حساب می آیند. | ۱ |
| ۲۴ | اصطلاح*ناحیه یا منطقه ژئوپلیتیک* چیست ؟ منطقه ژئوپلیتیک عبارت است از بخشی از سطح زمین یا تعدادی کشور هم جوار که به دلیل داشتن ارزش های جغرافیایی ، بازیگران سیاسی برای کنترل یا تصرف آنها با یکدیگر وارد تعامل (کنش و واکنش) می شوند. این تعامل ممکن است مذاکره ، همکاری و همبستگی یا رقابت و کشمکش و حتی جنگ باشد. | ۱ |
| | موفق باشید | ۲۰ |
| | جمع نمرات | |

| نام و نام خانوادگی مصحح اول: | نام و نام خانوادگی مصحح دوم: |
|------------------------------|------------------------------|
| تاریخ و امضاء: | تاریخ و امضاء: |
| نمره مستمر کلاسی | نمره مستمر کلاسی |
| نمره برگه امتحانی | نمره برگه امتحانی |
| میانگین نمره | میانگین نمره |



اپلیکیشن درسی همیار

برنامه رایگان درسی همیار



تمام پایه ها

جواب کتاب ، تدریس و نمونه سوال



همیشه رایگان

برنامه همیار کاملا رایگان میباشد