

جمهوری اسلامی ایران

نام و نام خانوادگی :

مدیریت آموزش و پرورش گلپایگان

تاریخ امتحان: ۱۴۰۱/۰۳/۲۳

نام پدر :

دبیرستان نمونه دولتی محسن جنتی

زمان آزمون: ۶۰ دقیقه

نمره با عدد	با حروف

رشته و پایه تحصیلی : یازدهم انسانی

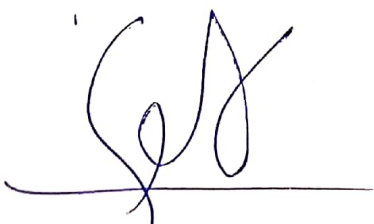
نام درس : جغرافیا (۲)

مهر آموزشگاه

نام و امضاء دبیر

بارم	تأ خدا هست دلیلی برای ناامیدی نیست	ردیف
۱/۵	گزینه صحیح را انتخاب کنید. ۱- مرز بین کانادا و آلاسکا چه نوع مرزی است و مرز بین کدام کشورها از نوع تطبیقی می باشد؟ (۱) تحمیلی- هندوپاکستان (۲) تطبیقی- کره شمالی و جنوبی (۳) قبل از سکونت- هند و پاکستان (۴) پیشتاز- کره شمالی و جنوبی	۱-
۱/۵	۲- کدام مورد در رابطه با عوامل موثر در انتخاب پایتخت درست است؟ (۱) داشتن وسعت زیاد (۲) آرایه خدمات مناسب به شهروندان (۳) داشتن جمعیت قابل توجه (۴) قابلیت تبدیل شدن به کلانشهر	۱-
۱/۵	۳- مرز کره شمالی و جنوبی و ایالات متحده آمریکا و کانادابه ترتیب روی کدام مدارها تعیین شده اند؟ (۱) ۳۸ درجه و ۵۹ درجه عرض شمالی (۲) ۲۸ درجه و ۵۹ درجه عرض شمالی (۳) ۳۸ درجه و ۴۹ درجه عرض شمالی (۴) ۲۸ درجه و ۴۹ درجه عرض شمالی	۱-
۱/۵	۴- حد اعمال اراده سیاست یک نظام مدیریت یا حکومت هستند. (۱) خطوط مرزی (۲) کانون ناحیه سیاسی (۳) فضای سیاسی (۴) فضای جغرافیایی	۱-
۱/۵	۵- کدام کشور همسایه با ایران با نظام فدرالی اداره می شود؟ (۱) افغانستان (۲) پاکستان (۳) عراق (۴) ترکیه	۱-
۱/۵	۶- تقسیم نواحی سیاسی به فراملی و فراملی بر اساس کدام معیارها صورت گرفته است؟ (۱) مقیاس فضای جغرافیایی - نظام مدیریت (۲) مقیاس فضای جغرافیایی - سازه ی انسانی (۳) سازه ی انسانی - ساختار مدیریت (۴) جمعیت - نظام مدیریت سیاسی	۱-
۱/۵	۷- خودمختاری، به معنای استقلال..... یک واحد سیاسی در اداره ی امور خود در..... است. (۱) کامل - یک منطقه ی جغرافیایی (۲) محدود - یک منطقه ی جغرافیایی (۳) کامل - داخل کشور (۴) محدود - داخل یک کشور	۱-
۱/۵	۸- بیش تر پلانتیشن ها در کجا واقع شده اند و توسط چه کسانی اداره می شوند؟ (۱) در نزدیکی شهرهای بزرگ - شرکت های چند ملیتی (۲) در نزدیکی سواحل دریا - شرکت های چند ملیتی (۳) در نزدیکی شهرهای بزرگ - شرکت های کشت و صنعت (۴) در نزدیکی سواحل دریا - شرکت های کشت صنعت	۱-
۱/۵	کامل کنید. (۱).....وهوازدگی موجب تغییر چهره زمین می شوند. (۲) کشور «شیلی» به لحاظ شکل از کشورهای محسوب می شود. (۳).....حاصل فرسایش بادی-آبی هستند.	۲-
۱/۵	گزینه مناسب «صحیح» یا «غلط» بگذارید. (۱) نظام سیاسی در واقع همان حکومت است که وظیفه اداره امور سرزمین و جمعیت را بر عهده دارد (۲) رواج ورزش هاکی در ایالات متحده آمریکا به روش انتشار مستقیم صورت گرفته است.	۳-

۱	۳ (۱)	۳ (۲)	۳ (۳)	۱ (۴)
۲	۲ (۵)	۱ (۶)	۴ (۷)	۲ (۸)
۳	۱ - فرسایش	۲ - طویل	۳ - کلفت ها	
۴	اصحیح	۲ - صحیح		
۵	الف) ۵	ب) ۱	ج) ۲	د) ۳
۵	<p>۱) فرونشینی هوا مانع صعود هوا و در نتیجه بارش می نشود پس توده های هوا در حوالی این دومدار فرو می نشینند و منطقه پهنشمار را به وجود می آورند.</p> <p>۲) عمدتاً به محور فناوری پیشرفته و استفاده از متخصصان هستند. پیشرفت آنها به مبنای فناوری و رقابت است. این صنایع تأثیر به برقراری ارتباط با فناوری های روز دنیا و صادر کردن کالاهایشان هستند.</p> <p>۳) آب و هوای خشک، وزش پادهای شدید، موجود خاک های نرم و فقر پوشش گیاهی</p> <p>۴) او معتقد بود بخش عمده خشکی های جهان که آسیا و اروپا و آفریقا است جزیره جهانی نام دارد. مکنیدر در این جزیره جهانی منطقه خشکی اوراسیا را قله جهان می دانست و می گفت این منطقه برای قدرت های دریایی غیر قابل دسترس است. او بخش مرکزی این منطقه را قلب خشکی جهان نامید و تسلط بر آن را معادل تسلط بر کل جهان می دانست.</p> <p>۵) آن ها هم می دانند از قدرت برای دست یافتن به اهدافی همچون استقلال و منافع و امنیت کشور برسند و هم می توانند آن را علیه ملت خود به کار گیرند.</p>			
۶	<p>الف) به نیرویی گفته می شود که قادر است در محدوده آب های عمیق اقیانوس عملیات انجام می دهد. به گونه ای که بتواند خود را از همه تهدیدات حفظ کند و محدودیتی برای اجرای عملیات در مناطق دوردست و حفاظت از منافع ملی کشور نداشته باشد.</p> <p>ب) خط مرزی که عمیق ترین نقاط بستر رود را به هم متصل می کند تالوک نام دارد.</p> <p>ج) توده هوا از توده هوای مجاور خود گرم تر می شود؛ همراه با بالاتر رفتن، دمای آن پایین می یابد و ابر تشکیل می شود. بارش های بهاری بیشتر از این نوع اند.</p> <p>د) تپه های ماسه ای هلالی شکل و منفذی هستند که دو زائده یا بازو در جهت باد دارند.</p>			



۲	<p>عبارت‌های سمت راست را به اصطلاحات سمت چپ وصل کنید.</p> <p>الف) عامل تشخیص وجدایی کشورها از یکدیگر ب) عصر اکتشافات جغرافیایی ج) ناحیه انتقالی بین جنگل‌های بارانی و صحرای بزرگ آفریقا د) از اشکال کارستی می باشد</p> <p>۱) تغییر الگوهای زبانی ۲) ساوان ۳) کتله خور ۴) چاله های بادی ۵) مرز</p>	۴-
	<p>به سوالات زیر پاسخ دهید. (در پایین همین صفحه پاسخ دهید)</p> <p>۱) علت ایجاد مراکز پرفشار در نواحی جنب استوایی (اطراف مدار راس السرطان و راس الجدی) چیست؟ (۵/۵ انمره)</p> <p>۲) ویژگیهای صنایع نو را بیان کنید. (۵/۵ انمره)</p> <p>۳) دلایل شدید بودن فرسایش بادی در بیابان‌ها را بنویسید. (۱ انمره)</p> <p>۴) نظریه «قدرت خشکی» مکیندر را توضیح دهید. (۲/۵ انمره)</p> <p>۵) چرا قدرت برای حکومت‌ها مانند یک شمشیر دو لبه است؟ (۱ انمره)</p> <p>۶) اصطلاحات زیر را تعریف کنید. (۴ انمره)</p> <p>الف) نیروی دریایی راهبردی ب) تالوگ ج) بارندگی همرفتی د) برخان</p>	۵-
۲۰	جمع بارم	«سلامتی و موفقیت برایتان آرزومندم» «فروغی»

امیر حسین کارون

معین جنبی گلیان

۰۲۰۰۱۳۱۲۲۲

۱	۱ (۸)	۳	۱ (۹)	۳ (۳)	۱ (۴)	۲ (۵)	۱ (۶)	۱ (۷)	۲ (۸)
۲	(۱) فرسایش	(۲) طول	(۳) کلوک ها						
۳	(۱) صوبیح	(۲) صحیح							
۴	الف (۵)	ب (۱)	ج (۲)	د (۳)					

۱) هوای سرد شده در نواحی فوقانی استوا به سمت عرض های بالاتر حرکت می کند و تحت تأثیر نیروی کوریولیس دچار انحراف می شود. در منطقه جنب چاره سرد و سنگین می شود و در مراکز فشار زیاد جنب استوایی را به وجود می آورد.

۲) فناوری پیشرفته و استفاده از متخصصان (۱) بر مبنای نوآوری و رقابت است (۲) تأثیر به برقراری ارتباط با فناوری های روز دنیا

۳) ۱) آب و هوای خشک ۲) وزش باد ۳) فکد برفش گیاهی ۴) خاک نرم

۴) جزیره جهانی: سه قاره به هم چسبیده دنیا
 قلعه جهان: منطقه خشکی اوراسیا
 قلب جهان: مرکز عتلاک جهان
 تسلط بر این ها = تسلط بر دنیا.

۵) زیر اهم می توان از آن در جهت تأمین منافع ملی استفاده کرد و هم به علیه ملت خود.

۶) الف) نیرویی که قادر است به محدوده عمیق آب های اقیانوسی عملیات انجام دهد
 ب) اتصال عمیق ترین نقاط بستر رود به طوری که لشیترانی برای هر دو طرف ممکن باشد

ج) بارش های بهاری / توده هوا از هوای مجاور خود گرم تر می شود.


د) تکانه ای که دو زائده یا بازو در جهت باد دارد و در حرکت است.






اپلیکیشن درسی همیار

برنامه رایگان درسی همیار



تمام پایه ها

جواب کتاب ، تدریس و نمونه سوال



همیشه رایگان

برنامه همیار کاملا رایگان میباشد