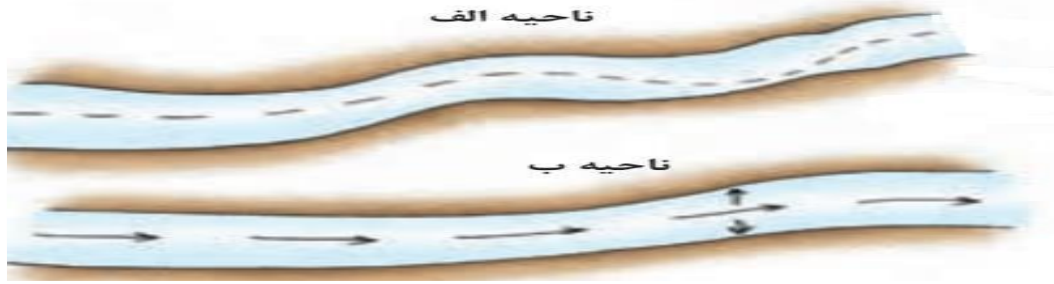


<b>نام درس: جغرافیای ۲ (ناحیه ای)</b> نام دبیر طراح: <b>کلامی</b>		محل مهر آموزشگاه		آموزش و پرورش استان کردستان مدیریت آموزش و پرورش ناحیه یک سنندج  دبیرستان دخترانه فرزنانگان دوره دوم	
پایه: یازدهم		رشته: انسانی		امتحانات نیمسال دوم (خرداد ماه ۱۴۰۲)	
پاس‌ننامه نیاز دارد <input type="checkbox"/> پاس‌ننامه نیاز ندارد <input checked="" type="checkbox"/>		تعداد صفحه: ۴		نام و نام خانوادگی:	
شماره صفحه: ۱		تاریخ امتحان: ۱۴۰۲/۳/۲۲		زمان امتحان: ۹۰ دقیقه	
ساعت شروع: ۱۰		سوالات		تعداد سوال: ۱۲	
نمره					ردیف
۰/۵	۱ صحیح یا غلط: الف) ناحیه بندی یعنی تقسیم یک محیط جغرافیایی بر اساس معیارهایی به واحدهای کوچکتر به طور یکه هر واحد با واحد مجاور تفاوت داشته باشد، ص □ غ □ ب) به طور کلی علل ایجاد بیابان ها شامل استقرار مرکز پرفشار و دوری از منبع رطوبت می باشد. ص □ غ □				۱
۲	۲ سوالهای چهار گزینه ای: ۱- در محل برخورد توده های هوا، یک ..... شکل می گیرد و جبهه هوای قطبی در منطقه ..... تشکیل می شود. الف) منطقه تغییر - قطبی ب) منطقه کم فشار - قطبی ج) منطقه گذار - معتدله د) منطقه پرفشار - معتدله ۲- از معیارهای طبقه بندی کشاورزی در جهان می باشد. الف) نیروی انسانی و کاربرد ماش بین آلات، فناوری و ... ب) معیشتی یا تجاری بودن و میزان سرمایه ج) اندازه و وسعت زمین و مالکیت زمین (شخصی، دولتی و ...) د) همه ی موارد ۳- کدام گزینه صحیح نمی باشد؟ الف) ایجاد بیشتر مزارع پلانتیشن در نزدیکی دریاها ی نواحی استوایی به دلیل امکان صدور محصولات با کشتی ب) فقر، جنگ ها و مهاجرت های اجباری از علل مهم گرسنگی گروه هایی از مردم جهان ج) فعالیت هایی مانند، حمل و نقل و خرید و فروش جزو فعالیت های نوع دوم می باشند د) فعالیت کشورهای چند ملیتی در خارج از کشورهای مبدا ۴- تعیین مرز کدام ناحیه از سایر نواحی دشوارتر است؟ الف) نواحی طبیعی ب) نواحی قومی ج) نواحی زبانی د) گزینه های ب و ج ۵- در صورتی که میزان واردات کشوری ۸۰۰۰،۰۰۰ دلار و میزان صادرات آن ۵۰۰۰،۰۰۰ دلار باشد، کدام گزینه ها درست می باشند؟ الف) موازنه تجارت و بازرگانی منفی در این کشور ب) دست یافتن این کشور به رونق اقتصادی و تجاری ج) وضعیت مطلوب رفاه در این کشور د) پایین بودن استانداردهای زندگی در این کشور ۱) الف و ب ۲) الف و د ۳) ب و ج ۴) ج و د ۶- هر یک از کشورهای زیر با کدام نظام سیاسی اداره می شوند؟ "عراق، ایران، کانادا" الف) ترکیبی - ناحیه ای - ترکیبی ب) ناحیه ای - یکپارچه - فدرال ج) تک ساخت - ناحیه ای - فدرال د) فدرال - تک ساخت - یکپارچه				۲
۰/۵	۳ عبارت صحیح را از داخل پرانتز انتخاب کنید: الف) نواحی صنعتی ایالات متحده امریکا و اروپا بیشتر و به ترتیب در (شمال شرق، غرب - شمال غرب، غرب) گسترده شده اند. ب) شهرستان سنندج و اتحادیه اروپا به ترتیب جزو (ناحیه سیاسی فرو ملی، ناحیه سیاسی منطقه ای - ناحیه سیاسی ملی، ناحیه سیاسی منطقه ای) محسوب می شوند.				۳

۱	<p>عبارات سمت راست را به طور صحیح به گزینه های سمت چپ ارتباط دهید:</p> <p>انواع مرز</p> <p>مثال</p> <p>1- مرز تطبیقی</p> <p>2- مرز پیشتاز</p> <p>3- مرز تحمیلی</p> <p>4- مرز طبیعی</p> <p>الف) مرز بین آمریکا و کانادا</p> <p>ب) مرز بین کره شمالی و کره جنوبی</p> <p>ج) مرز بین کشور ایران و افغانستان</p> <p>د) مرز بین هند و پاکستان</p>	۴
۱	<p>در جاهای خالی عبارت مناسب بنویسید:</p> <p>الف) مناطق خود مختار مناطقی هستند که از استقلال محدودی برخوردارند و در امور ..... تابع حکومت مرکزی می باشند.</p> <p>ب) معمولاً، امکان تبدیل کشورهایی که در منطقه آب و هوایی ..... قرار دارند، به قدرتهای سیاسی جهانی بیشتر است.</p> <p>ج) حدود ۹۰ درصد از تجارت بین المللی به دلیل ..... و ..... از طریق حمل و نقل دریایی صورت می گیرد.</p>	۵
۵	<p>پاسخ کوتاه دهید:</p> <p>1- کدام زیست بوم بیشترین میزان تولید ماده آلی را در کره زمین دارد؟ 0 / 25</p> <p>2- عبارت " جنگ روسیه و اکرین ، سبب افزایش شدید بهای گندم در جهان شده است" کدام نوع از روابط انسان و محیط را بیان می کند؟ 0 / 25</p> <p>3- از ویژگیهای اصلی هر ناحیه وحدت یابی است، منظور چیست؟ 0 / 25</p> <p>4- بیش از نیمی از مردم جهان ، به یکی از زیرشاخه های کدام خانواده زبانی صحبت میکنند؟ نام ببرید و بنویسید، زبان عربی جزو زیر شاخه کدام خانواده زبانی محسوب می شود؟ 0 / 5</p> <p>5- جزیره جهانی مکیندر که برای قدرتهای دریایی غیر قابل دسترس بود، کدام بخش از جهان را دربر می گرفت؟ 0 / 25</p> <p>6- کدام نظریه ژئوپلیتیکی در بروز جنگ های جهانی اول و دوم موثر بوده است ؟ 0 / 25</p> <p>7- کدام راهکارهای حفاظتی را می توان در هر سه محیط ( ساحل، بیابان و کوهستان ) به کار گرفت؟(دو مورد) 0 / 5</p> <p>8- چرا، با وجود اینکه کشور چین بزرگترین تولید کننده گندم در جهان است اما جزو کشورهای صادر کننده محسوب نمی شود؟ 0 / 25</p> <p>9- از مهمترین عوامل پیدایش و بقای یک کشور علاوه بر هویت ملی می توان به کدام دو مورد دیگر اشاره نمود، نام ببرید: 0 / 5</p> <p>10- دو رکن دیگر هر ناحیه سیاسی غیر از نظام مدیریت را بنویسید: 0 / 5</p> <p>11- منابع انرژی و معدنی کشورها در چه صورتی می تواند منشا قدرت ملی و در چه صورتی عامل کاهش قدرت ملی می باشد؟ 0 / 5</p> <p>12- ناحیه سیاسی ملی و فرو ملی را با مثال با یکدیگر مقایسه کنید: 1</p>	۶

۲/۷۵	<p>۷ در ارتباط با تجارت و اقتصاد جهانی به پرسشها پاسخ دهید:  الف) کشور کره جنوبی و چین از نظر موازنه اقتصادی جزو کدام یک از کشورها قرار میگیرند، نام برده و مختصر توضیح دهید: ۰/۷۵</p> <p>ب) اتحادیه های اقتصادی تجاری منطقه ای ما بین کدام کشورها شکل می گیرد و این کشورها چگونه به رونق اقتصادی همدیگر کمک می کنند؟ ۱</p> <p>ج) از اقدامات انجام شده توسط کشورهای با موازنه منفی تجاری جهت جبران این مشکل به دو مورد اشاره کنید: ۱</p>
۱	<p>۸ مثال های زیر هر کدام ، چگونه ارتباط جغرافیا با سیاست را بیان میکند؟ (تاثیر جغرافیا بر سیاست یا سیاست بر فضای جغرافیایی یا تاثیر متقابل)</p> <p>الف) تونل مانش:</p> <p>ب) کشمکش بر سر اکرین مابین روسیه و غربیها:</p> <p>ج) اجرای محدوده طرح ترافیک در بخشهای مرکزی مشهد:</p> <p>د) محوطه سازی برای تفریحگاه و مکان ورزشی توش نوذر در سنج:</p>
۲	<p>۹ الف) از نظر کارشناسان محیط زیست دو پیامد منفی کشت تک محصولی چیست؟ بنویسید: ۱</p> <p>ب) فعالیتهای اقتصادی نوع اول و چهارم را مختصر با یکدیگر مقایسه کنید: ۱</p>
۱	<p>۱۰ در ارتباط با الگوی مدیریت فضای جغرافیایی توسط حکومت ها جاهای خالی را پر کنید:</p> <p>نحوه اداره کشور: .....  الف) نظام سیاسی ناحیه ای و ترکیبی (مثال: .....)</p> <p>۲- تقسیم کشور به واحدهای سیاسی کوچکتر، سیاست گذاری متمرکز از پایتخت و .. (ب) .....  (استان، شهرستان و -)</p> <p>۳- .....  ج) نظام سیاسی فدرال (استرالیا)</p>
۱/۵	<p>۱۱ در ارتباط با تصاویر به پرسشها پاسخ دهید:  الف) حدود مرزهای دریایی آبهای داخلی چگونه مشخص می شود؟ (روی تصویر مشخص بنویسید) ۰/۲۵</p>  <p>ب) محاسبه کنید 12 مایل دریایی محدوده دریای سرزمینی برای کشور عربستان در کنار خلیج فارس معادل چند کیلومتر است؟ ۰/۵</p>

ج) روش تعیین مرز رودخانه ای بین دو کشور همسایه (روی هر دو تصویر: ۰/۱۰)



د) عامل ایجاد عارضه طبیعی تصویر مقابل: ۰/۲۰

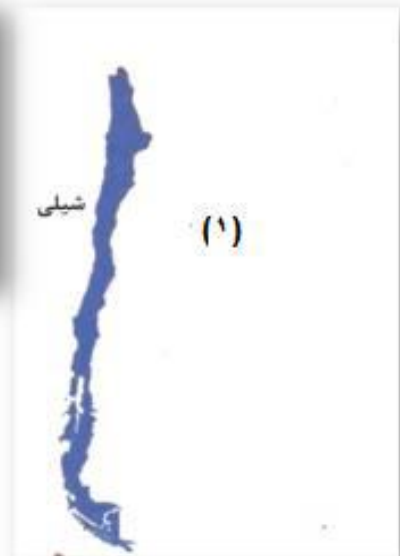
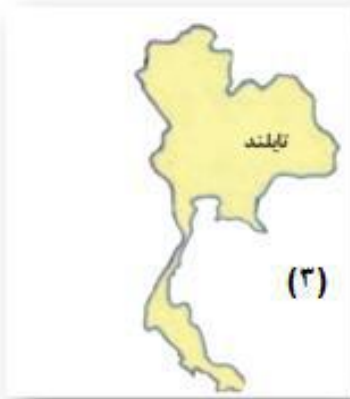


۱/۷۰

در ارتباط با نقش شکل کشورها در قدرت ملی به پرسشها پاسخ دهید:

- 1) تعریف کشورهای طویل مانند شیلی:
- 2) ذکر دو مشکل برای کشورهای شیلی و اندونزی:
- 3) ایران از نظر شکل تقریباً در کدام دسته جای می گیرد؟
- 4) بهترین شکل برای یک کشور در کدام تصویر دیده می شود؟ (با ذکر دو علت)

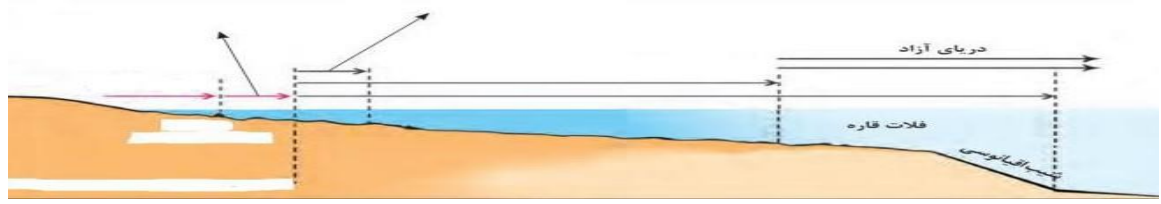



۱۲



جمع  
نمره  
۲۰

موفق و سر بلند باشید

ردیف	کلید سوالات	نمره
۱	صحیح یا غلط: الف) ص □ ب) ص □	۰/۵
۲	سوالهای چهار گزینه ای: ۱- ج) منطقه گذار - معتدله 2- د) همه ی موارد 3- ج) فعالیت هایی مانند، حمل و نقل و خرید و فروش جزو فعالیتهای نوع دوم می باشند 4- د) گزینه های ب و ج 5- الف و د 6- ب) ناحیه ای - یکپارچه - فدرال	۲
۳	عبارت صحیح را از داخل پرانتز انتخاب کنید: الف) (شمال شرق، غرب) ب) (ناحیه سیاسی فرو ملی، ناحیه سیاسی منطقه ای)	۰/۵
۴	عبارات سمت راست را به طور صحیح به گزینه های سمت چپ ارتباط دهید: 1- مرز تطبیقی (د) مرز بین هند و پاکستان) 2- مرز پیشتاز (الف) مرز بین آمریکا والاسکا) 3- مرز تحمیلی (ب) مرز بین کره شمالی و کره جنوبی) 4- مرز طبیعی (ج) مرز بین کشور ایران و افغانستان)	۱
۵	در جاهای خالی عبارت مناسب بنویسید: الف) خارجی ب) معتدله ج) هرینه کم و مسافت طولانی	۱
۶	پاسخ کوتاه دهید: 1- استوایی ۰ / ۲۵ 2- کنش متقابل نواحی با یکدیگر ۰ / ۲۵ 3- وحدت و همگونی نسبی عناصر طبیعی و انسانی در آن است ۰ / ۲۵ 4- هند و اروپایی - خانواده آفر آسیایی ۰ / ۵ 5- منطقه خشکی اوراسیا (از رود ولگا در غرب تا سیبری در شرق) ۰ / ۲۵ 6- هارتلند یا نظریه قدرت خشکی ؟ ۰ / ۲۵ 7- نهالکاری - تولید انرژی طبیعی (دو مورد) ۰ / ۵ 8- جمعیت زیاد و مصرف زیاد ۰ / ۲۵ 9- هویت ملی، همبستگی ملی و پیوستگی سرزمینی (دو مورد) ۰ / ۵ 10- ساختار انسانی- قلمرو جغرافیایی ۰ / ۵ 11- اگر این منابع در کشوری در جهت توسعه صنایع قرار بگیرند، (مانند چین و برزیل) در قدرت آن کشور مؤثرند، اما اگر اقتصاد کشوری وابسته به صادرات آنها باشد، یک ویژگی منفی و عامل کاهش قدرت ملی تلقی م میشوند. ۰ / ۵ 12- ناحیه سیاسی ملی(هر کشور مستقل که نظام حکومتی مستقلی دارد) و فرو ملی (یک واحد جغرافیایی مانند روستا، شهر، بخش، شهرستان و استان است که تحت مدیریت دهداری، شهرداری، بخشداری، فرمانداری و استانداری قرار دارد). ۱	۵
۷	الف) این کشورها بین کشورهای مرکز و پیرامون نقش واسطه بازی می کنند و ساختار اقتصادی و اجتماعی آنها دچار تغییرات و تحولات صنعتی و فناوریانه شده است. ۰ / ۷۵ ب) اتحادیه های اقتصادی تجاری منطقه ای ما بین کدام کشورهای همسایه شکل می گیرد - مالیات ها و تعرفه های گمرکی را بین خودشان کاهش دهند یا بر دارند تا تجارت بین کشورهای منطقه، افزایش یابد و به رونق و توسعه اقتصادی کشورها کمک شود. ۱ ج) وضع تعرفه های گمرکی و مالیات بر کالاهای وارداتی، محدود یا ممنوع کردن واردات برخی کالاها در دوره های زمانی خاص، تشکیل اتحادی های اقتصادی تجاری منطقه ای و ایجاد مناطق آزاد تجاری(دو مورد) ۱	۲/۷۵

۱	<p>الف) تونل مانش: سیاست برفضای جغرافیایی (ب) کشمکش بر سر اکراین مابین روسیه و غربیها: تاثیر متقابل          ج) سیاست برفضای جغرافیایی (د) سیاست برفضای جغرافیایی</p>	۸
۲	<p>الف) خطر فرسایش و ضعیف شدن خاک - آسیب به محیط زیست به دلیل استفاده مداوم و زیاد از کودها و آفت کشهای شیمیایی ۱          ب) نوع اول با (با استخراج و به دست آوردن مواد خام یا محصول از زمین یا دریا سروکار دارند؛ مانند کشاورزی) نوع -          چهارم (فراهم کننده خدمات مربوط به جمع آوری و پردازش اطلاعات و پژوهش و تحقیق و توسعه است) مختصر ۱</p>	۹
۱	<p>نحوه اداره کشور:          نوع نظام حکومتی: <b>الف) نظام سیاسی ناحیه ای و ترکیبی</b>  <b>۱- یک یا چند بخش کوچک به صورت ناحیه ای و خودمختار اداره می شوند</b>  <b>۲- تقسیم کشور به واحدهای سیاسی کوچکتر، سیاست گذاری متمرکز از پایتخت و ..</b>  <b>۳- کشور به چند ایالت تقسیم می شود. حکومت و توزیع قدرت در سرزمین دو سطح دارد</b>          مثال:          ب) یکپارچه (استان، شهرستان و -)          ج) نظام سیاسی فدرال (استرالیا)</p>	۱۰
۱/۵	<p>در ارتباط با تصاویر به پرسشها پاسخ دهید:          الف) از خط مبنا) ۰/۲۵</p>  <p>ب) 22 کیلومتر ۰/۵</p> <p>ج) الف) خط تالوگ (ب) خط منصف ۰/۵</p>  <p>د) یخچال ۰/۲۵</p> 	۱۱
۱/۷۵	<p>در ارتباط با نقش شکل کشورها در قدرت ملی به پرسشها پاسخ دهید:          1) طول آنها حداقل شش برابر عرضشان باشد.          ۲) نظارت حکومت بر همه قسم تهای کشور و همچنین ایجاد خطوط ارتباطی با مشکل مواجه م ی شود.          ۳) فشرده یا جمع و جور          4) لهستان - زیرا در کمترین زمان          میتوان از مرکز یک سرزمین به تمام نقاط آن دسترسی پیدا کرد. قابلیت دفاعی کشور در این شکل زیاد است (با ذکر دو علت)</p> 	۱۲



## اپلیکیشن درسی همیار

برنامه رایگان درسی همیار



**تمام پایه ها**

جواب کتاب ، تدریس و نمونه سوال



**همیشه رایگان**

برنامه همیار کاملا رایگان میباشد