

(۱) جاهای خالی را کامل کنید .

- مثلثی که ضلع آن برابرند، متساوی‌الضلاع نام دارد .
- اندازه‌ی دور هر شکل را می‌نامند.
- سانتی‌متر یعنی ۱ متر و ۳۷ سانتی متر .
- ۶۴۰۰ گرم یعنی کیلوگرم و گرم
- خط‌های هیچ وقت یکدیگر را قطع نمی‌کنند .

(۲) الگوهای زیر را ادامه دهید .



۵۴ - ۶۰ - - - - -

(۳) عدد ۸۰۶۳ را در جدول ارزش مکانی قرار بده و به سوالات پاسخ بده .

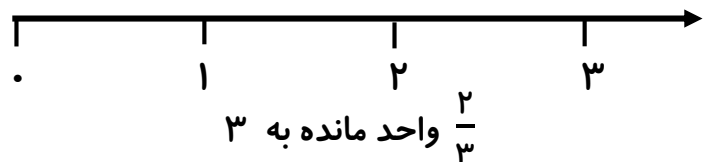
یکان	دهگان	صدگان	هزارگان

- عدد را با حروف بنویس .
- رقم صفر در چه مرتبه‌ای قرار دارد؟
- بزرگترین عدد در چه مرتبه‌ای قرار دارد؟


(۴) برنامه‌ی تلویزیونی عموپورنگ ساعت ۱۹:۳۰ پخش می‌شود. زمان پخش این برنامه ساعت چند بعد از ظهر است؟

کسر $\frac{۴}{۶}$ را روی شکل نشان بدهید .

(۵) کسر زیر را روی محور نشان بدهید .



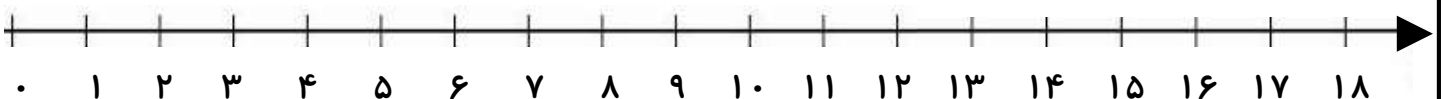
(۶) برای شکلهای روبه‌رو عملیات‌های خواسته شده را بنویسید .



..... + + + + + =

..... × =

..... ÷ =



۷) مقایسه کنید و علامت ($< = >$) بگذارید.

$$\frac{2}{5} \bigcirc \frac{4}{5}$$



$$2000 + 2500 \bigcirc 1500 + 3000$$



$$\frac{1}{6} \bigcirc \frac{1}{4}$$

$$4 \times 1 \bigcirc 8 \times 0$$



$$\text{نیم} \bigcirc \text{نصف}$$



$$24 \div 4 \bigcirc 15 \div 3$$




$$30 \times 30 \bigcirc 60 \times 10$$

۸) باغچه ای به شکل مستطیل به طول ۸ و عرض ۴ داریم. می خواهیم دورتادور آن را نرده بکشیم. برای دور تا دور آن به چند متر نرده نیاز داریم؟ مساحت این باغچه را به دست آورید.

۹) حاصل جمع و تفریق زیر را به دست آورید.

$$\begin{array}{r} 4652 \\ + 3247 \\ \hline \end{array}$$

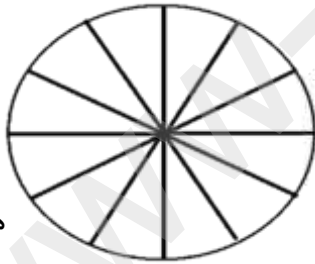


$$\begin{array}{r} 5802 \\ - 2369 \\ \hline \end{array}$$



۱۰) در باغ مشهدی یحیی درختان زیر کاشته شده است. با توجه به جدول نمودارها را کامل کنید.

درخت	زردآلو	سیب	گیلاس	هلو	گلابی
تعداد	۱۵	۲۰	۵	۱۰	۱۰



هر قسمت = ۵ درخت

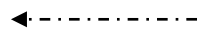
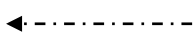


۱۱) حاصل ضرب و تقسیم زیر را به دست بیاورید.

$$\begin{array}{r} 236 \\ \times 4 \\ \hline \end{array}$$

$$\begin{array}{r} 32 \overline{) 6} \\ \hline \end{array}$$

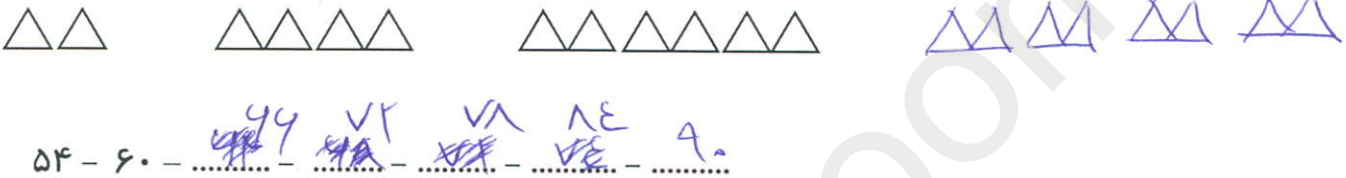
۱۲) نام شکل های زیر را بنویسید.



(۱) جاهای خالی را کامل کنید .

- مثلثی که ۳ ضلع آن برابرند، متساوی‌الضلاع نام دارد .
- اندازه‌ی دور هر شکل را محیط می‌نامند .
- ۱۳۷ سانتی‌متر یعنی ۱ متر و ۳۷ سانتی‌متر .
- ۶۴۰۰ گرم یعنی ۶ کیلوگرم و ۴۰۰ گرم .
- خط‌های موازی هیچ وقت یکدیگر را قطع نمی‌کنند .

(۲) الگوهای زیر را ادامه دهید .



(۳) عدد ۸۰۶۳ را در جدول ارزش مکانی قرار بده و به سوالات پاسخ بده .

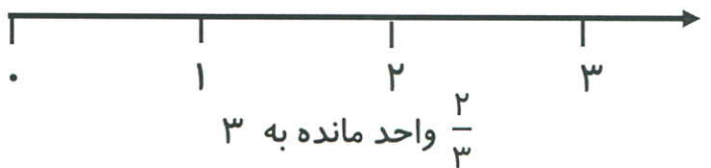
یکان	دهگان	صدگان	هزارگان
۳	۶	۰	۸

- عدد را با حروف بنویس . هشت هزار و شصت و سه
- رقم صفر در چه مرتبه‌ای قرار دارد؟ صدگان
- بزرگترین عدد در چه مرتبه‌ای قرار دارد؟ هزارگان


(۴) برنامه‌ی تلویزیونی عموپورنگ ساعت ۱۹:۳۰ پخش می‌شود. زمان پخش این برنامه ساعت چند بعد از ظهر است؟ ۷:۳۰

کسر $\frac{۴}{۶}$ را روی شکل نشان بدهید .

(۵) کسر زیر را روی محور نشان بدهید .



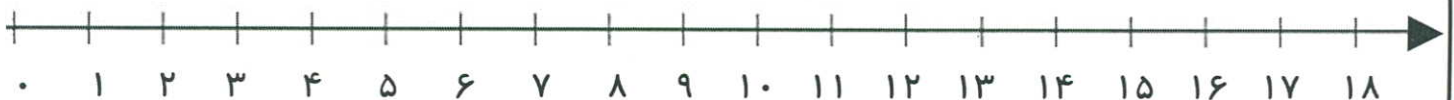
(۶) برای شکل‌های روبه‌رو عملیات‌های خواسته شده را بنویسید .



$$\dots + \dots + \dots + \dots + \dots + \dots = \dots$$

$$\dots \times \dots = \dots$$

$$\dots \div \dots = \dots$$

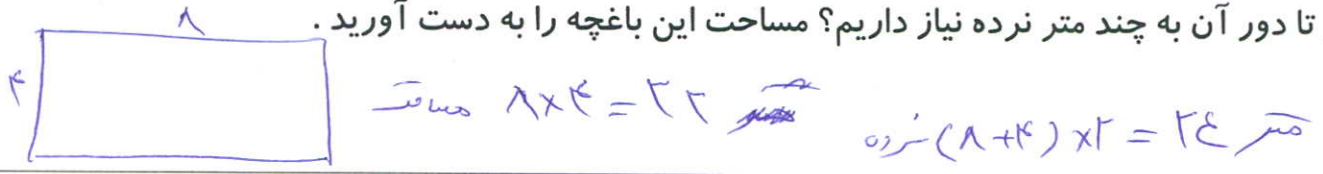


۷) مقایسه کنید و علامت ($< = >$) بگذارید.

$\frac{2}{5} < \frac{4}{5}$ ♥ $2000 + 2500 = 1500 + 3000$ ♥ $\frac{1}{6} < \frac{1}{4}$

$4 \times 1 > 8 \times 0$ ♥ نیم = نصف ♥ $24 \div 4 > 15 \div 3$ ♥ $30 \times 30 > 60 \times 10$

۸) باغچه ای به شکل مستطیل به طول ۸ و عرض ۴ داریم. می خواهیم دورتادور آن را نرده بکشیم. برای دور تا دور آن به چند متر نرده نیاز داریم؟ مساحت این باغچه را به دست آورید.



۹) حاصل جمع و تفریق زیر را به دست آورید.

$$\begin{array}{r} 4652 \\ + 3247 \\ \hline 7899 \end{array}$$




$$\begin{array}{r} 5802 \\ - 2369 \\ \hline 3433 \end{array}$$

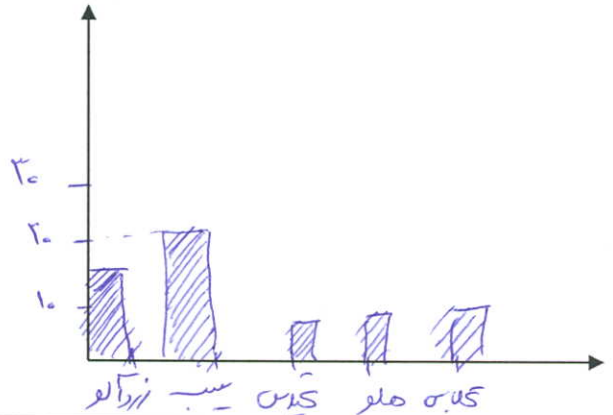


۱۰) در باغ مشهدی یحیی درختان زیر کاشته شده است. با توجه به جدول نمودارها را کامل کنید.

درخت	زردآلو	سیب	گیلاس	هلو	گلابی
تعداد	۱۵	۲۰	۵	۱۰	۱۰



هر قسمت = ۵ درخت



۱۱) حاصل ضرب و تقسیم زیر را به دست بیاورید.

$$\begin{array}{r} 236 \\ \times 4 \\ \hline 944 \end{array}$$

$$\begin{array}{r} 32 \overline{) 6} \\ \underline{30} \\ 20 \\ \underline{19} \\ 1 \end{array}$$

۱۲) نام شکل های زیر را بنویسید.





اپلیکیشن درسی همیار

برنامه رایگان درسی همیار



تمام پایه ها

جواب کتاب ، تدریس و نمونه سوال



همیشه رایگان

برنامه همیار کاملا رایگان میباشد