
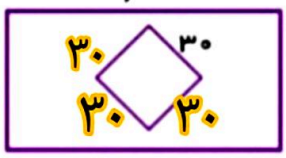
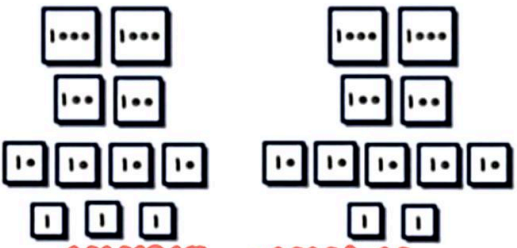
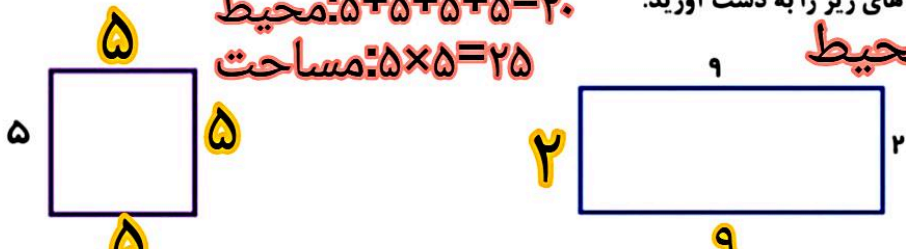



تاریخ آزمون: ۱۴۰۳/۲/۲۲	پایه: سوم	بیتل
نام آموزگار: فرشته جعفری	مدت: ۶۰ دقیقه	نام و نام خانوادگی:
نام آموزشگاه: برتران دانش	ساعت شروع: ۱۰:۴۵	آزمون درس: ریاضی


ردیف	سوالات																
۱	<p>محمد ۴ بسته ی ۷ تایی مداد قرمز و ۲ بسته ی ۷ تایی مداد زرد دارد.</p> <p>محمد چند مداد قرمز دارد؟ $4 \times 7 = 28$</p> <p>محمد چند مداد زرد دارد؟ $2 \times 7 = 14$</p> <p>محمد روی هم چند مداد دارد؟ $28 + 14 = 42$</p>																
۲	<p>ساختمانی ۳ طبقه دارد. اگر هر طبقه ی ساختمان ۷ پله داشته باشد. کل ساختمان چند پله دارد؟</p> <p>الف) ۱۰ ب) ۱۴ ج) ۲۰ د) ۲۱ </p> <p>$3 \times 7 = 21$</p>																
۳	<p>تساوی های زیر را کامل کنید.</p> <p>$10 \times \dots = 170$ $\dots \times 12 = 12$ $145 \times 0 = \dots$</p> <p>$20 \times 400 = \dots$ $21 \times \dots = 2100$ $50 \times 2 \times 4 = \dots$</p> <p>Handwritten answers: ۱۷, ۱, ۰, ۸۰۰, ۱۰۰, ۴۰۰</p>																
۴	<p>اعداد زیر را از کوچک به بزرگ مرتب کنید.</p> <p>۱۷۱۳ < ۱۷۰۱ < ۱۶۹۳ < ۱۶۳۹</p> <p>۱۷۰۱ - ۱۶۳۹ - ۱۷۱۳ - ۱۶۹۳</p>																
۵	<p>فاطمه دور یک رومیزی و یک دستمال سفره را توردوزی کرده است با توجه به اندازه های شکل. او از چند سانتی متر تور استفاده کرده است؟</p> <p>محیط مربع: $30 + 30 + 30 + 30 = 120$</p> <p>محیط مستطیل: $30 + 60 + 30 + 60 = 180$</p> <p>محیط کل شکل: $120 + 180 = 300$</p> 																
۶	<p>عددی را که هر شکل نشان می دهد. زیر آن بنویسید. سپس عددها را با هم مقایسه کنید.</p> <p> <table border="1" style="display: inline-table; margin-right: 20px;"> <tr><td>ه</td><td>ص</td><td>د</td><td>ی</td></tr> <tr><td>۷</td><td>۸</td><td>۶</td><td>۴</td></tr> </table> <table border="1" style="display: inline-table; margin-right: 20px;"> <tr><td>ه</td><td>ص</td><td>د</td><td>ی</td></tr> <tr><td>۷</td><td>۸</td><td>۶</td><td>۳</td></tr> </table>  </p> <p>$7864 \geq 7863$ $2243 < 2252$</p>	ه	ص	د	ی	۷	۸	۶	۴	ه	ص	د	ی	۷	۸	۶	۳
ه	ص	د	ی														
۷	۸	۶	۴														
ه	ص	د	ی														
۷	۸	۶	۳														

<p>۷ با رقم های ۵ و ۷ و ۰ و ۲ بزرگترین و کوچکترین عدد چهار رقمی را بسازید. اختلاف این دو عدد را پیدا کنید.</p> <p>بزرگترین: ۷۵۲۰ کوچکترین: ۲۰۵۷</p> $\begin{array}{r} 7520 \\ - 2057 \\ \hline 5463 \end{array}$	۷										
<p>۸ محیط و مساحت شکل های زیر را به دست آورید.</p> <p>مربع: محیط: $5+5+5+5=20$ مساحت: $5 \times 5=25$</p> <p>مستطیل: محیط: $9+2+9+2=22$ مساحت: $9 \times 2=18$</p> 	۸										
<p>۹ عددی را سه برابر کردیم و با ۳۰ جمع کردیم، جواب ۵۷ شد، آن عدد را پیدا کنید.</p> $(9 \times 3) + 30 = 57$	۹										
<p>۱۰ حاصل جمع و تفریق های زیر را به صورت تکنیکی به دست آورید.</p> $\begin{array}{r} 7060 \\ - 3426 \\ \hline 3634 \end{array}$ $\begin{array}{r} 8000 \\ - 4524 \\ \hline 3476 \end{array}$ $\begin{array}{r} 2720 \\ + 3499 \\ \hline 6219 \end{array}$ $\begin{array}{r} 1555 \\ + 2666 \\ \hline 4221 \end{array}$	۱۰										
<p>۱۱ حاصل هر یک از ضرب و تقسیم های زیر را به دست آورید.</p> $\begin{array}{r} 53 \\ \times 4 \\ \hline 212 \end{array}$ $\begin{array}{r} 134 \\ \times 2 \\ \hline 268 \end{array}$ $\begin{array}{r} 83 \\ - 81 \\ \hline 2 \end{array}$ $\begin{array}{r} 52 \\ - 48 \\ \hline 4 \end{array}$	۱۱										
<p>۱۲ در جدول زیر تعداد حیوانات یک باغ وحش نشان داده شده است. تعداد هر حیوان را با رنگ کردن قسمت های نمودار دایره ای نشان دهید. نکته: هر قسمت از نمودار، نشان دهنده ۵ حیوان است.</p> <table border="1" data-bbox="622 1792 1149 1948"> <thead> <tr> <th>حیوان</th> <th>آهو</th> <th>میمون</th> <th>خرگوش</th> <th>شیر</th> </tr> </thead> <tbody> <tr> <td>تعداد</td> <td>۲۰</td> <td>۱۵</td> <td>۲۰</td> <td>۵</td> </tr> </tbody> </table> <p>آهو: سبز میمون: آبی خرگوش: زرد شیر: قرمز</p>  <p>۴ قسمت سبز ۳ قسمت آبی ۴ قسمت زرد ۱ قسمت قرمز</p> <p>پسرای کلم، موفق باشید</p>	حیوان	آهو	میمون	خرگوش	شیر	تعداد	۲۰	۱۵	۲۰	۵	۱۲
حیوان	آهو	میمون	خرگوش	شیر							
تعداد	۲۰	۱۵	۲۰	۵							



اپلیکیشن درسی همیار

برنامه رایگان درسی همیار



تمام پایه ها

جواب کتاب ، تدریس و نمونه سوال



همیشه رایگان

برنامه همیار کاملا رایگان میباشد