

«بسمه تعالی»

نام و نام خانوادگی:

ارزشیابی نوبت دوم ریاضی

پایه سوم

آموزگار: راضیه نوری

دبستان دخترانه ی غیر دولتی خواجه نصیر

سال تحصیلی ۱۴۰۲-۱۴۰۳

۱. جمله های درست و نادرست را مشخص کنید.

الف) اندازه ی سطح هر شکل، محیط آن شکل است.

ب) فاصله ی بین دوشهر رابا کیلومتر اندازه گیری می کنند.

ج) اگر محیط مستطیلی ۱۸ سانتی متر و ندازه ی طول آن ۷ سانتی متر باشد، اندازه ی عرض آن ۲ سانتی متر خواهد بود.

د) سر و ته استوانه به شکل مربع است.

۲. پاسخ صحیح را مشخص کنید.

الف) ضلع های روبه روی کدام شکل هابهم موازی است؟

- (۱) مستطیل       (۲) مثلث       (۳) مربع       (۴) گزینه های (۱ و ۳)

ب) کسر ۱ را ..... می گوئیم.

۲

- (۱) نصف       (۲) ثلث       (۳) ربع       (۴) خمس

ج) طول کدام یک قابل اندازه گیری است؟

- (۱) نیم خط       (۲) خط راست       (۳) پاره خط       (۴) همه ی موارد

د) در هر بار پرتاب یک سکه، احتمال آمدن پشت سکه، چه کسری است؟

- (۱)  $\frac{1}{2}$        (۲)  $\frac{1}{6}$        (۳)  $\frac{3}{8}$        (۴)  $\frac{1}{4}$

۳. هر عبارت را به پاسخ مربوط به آن وصل کنید.

- تعداد قطرهای مستطیل      ●      ●      ۰
- $9 \times 0$       ●      ●      ۸
- بزرگترین عدد زوج یک رقمی      ●      ●      ۲

۴. ۳۷ کیلوگرم گیلان را در جعبه هایی می ریزیم که هر کدام ۵ کیلوگرم گیلان جای می گیرد. چند جعبه لازم داریم؟

۵. جاهای خالی را کامل کنید.

الف) اندازه ی قطر، ..... شعاع است.

ب) با ..... می توانیم زاویه ی راست (قائمه) را تشخیص دهیم.

ج) ساعت ۱۷:۳۰ همان ..... بعد از ظهر است.

د) به مثلثی که سه ضلع هم اندازه دارد، مثلث ..... می گویند.

۶. مقایسه کنید. <=>

۹۰۰ ریال  ۱۰۰ تومان

۳ کیلوگرم و ۲۵۰ گرم  ۳۲۵۰ گرم

ساعت بیست و ربع  ساعت هشت و نیم

۳ واحد ۱ واحد  ۲ واحد و ۸ واحد

۲۳۰۰-۲۹۰۰  ۴۰۰+۱۷۰۰

(۴۸÷۶)  (۱×۴)+(۲×۴)

۷. دیواری به طول ۹ متر و عرض ۸ متر است. بر روی آن تابلویی به طول ۳ متر و عرض ۲ متر نصب شده است. چند متر مربع از دیوار دیده می شود؟

۸. جمع و تفریق زیر را به صورت فرآیندی (گسترده) انجام دهید.

۱۳۵۷  
—  
۱۳۹۱  
—————

۷۴۵۱  
—  
۶۳۴۹  
—————

۹. جاهای خالی را با عدد مناسب پر کنید.

$$3 \times 9 = (3 \times \dots) + (\dots \times 5)$$


$$320 \times \dots = 3200$$

$$(6 \times 5) - (7 \times 3) = \dots - \dots = \dots$$

$$50 + 7 + 200 + 40 + 100 = \dots$$

۱۰. تعداد کتاب های کتابخانه کلاس سوم ب در جدول زیر آمده است. با توجه به داده های جدول، نمودار ستونی مربوطه را تکمیل کنید.

نوع	داستان	علمی	مذهبی	سرگرمی
تعداد	۲۰	۳۰	۳۰	۱۰



۱۱. با رقم های ۳، ۰، ۵، ۹ کوچکترین عدد چهار رقمی را بنویسید. سپس به سوال های زیر پاسخ دهید.

الف) این عدد را به حروف بنویسید. ....

ب) رقم ۵ در چه مرتبه ای قرار دارد؟

\_\_\_\_\_

ج) در مرتبه ی صدگان چه رقمی قرار دارد؟

نیاز به تلاش بیشتر	قابل قبول	خوب	خیلی خوب	انتظارات آموزشی
				مفهوم محیط و مساحت را می داند وقادر به محاسبه ی آنهاست.
				انواع خطوط را می شناسد.
				نام دیگر کسر هارا می داند.
				کسر احتمال پرتاب سکه را می داند.
				ویژگی اشکال هندسی را می داند.
				ساعت در بعد از ظهر را تشخیص می هد.
				جدول ارزش مکانی را می شناسد وقادر به عدد نویسی است.
				می تواند اعداد را مقایسه کند.
				می تواند جمع و تفریق فرآیندی را انجام دهد.
				بر اساس اطلاعات جدول می تواند نمودار ستونی رسم کند.
				ضرب و تقسیم را به درستی انجام می دهد.
				اعداد زوج را شخیص می دهد.
				تعداد قطر هارا می داند.
				بازخورد آموزگار:
				نظراولیا: :



بسمه تعالی

پاسخنامه ارزشیابی نوبت دوم ریاضی

آموزگار: راضیه نوری

کلاس: سوم ب

.....

۱ -

الف)  $\times$  (ب) (ج)  $\times$  (د)

.....

۲ -

الف) ۴ (ب) ۱ (ج) ۳ (د) ۱

.....

۳ -

تعداد قطرهای مستطیل ← ۲

۰  $\times$  ۹ ← ۰

بزرگترین عدد زوج یک رقمی ← ۸

.....

۴ -

الف) دو برابر (ب) گویا (ج)  $۵:۳۰$  (د) متساوی الاضلاع

.....

۵ -

۳۰۵۹

الف) سه هزار و پنجاه و نه

ب ( دهگان

ج ( صفر

۶ -

۳ کیلوگرم و ۲۵۰  ۳۲۵۰ گرم

۳ واحد و ۱ واحد  ۲ واحد و ۸ واحد

۱۰

۱۰

( ۴۸ ÷ ۶ )  ( ۱ × ۴ ) + ( ۲ × ۴ )

۱۰۰ تومان  ۹۰۰۰ تومان

ساعت هشت و نیم  ساعت بیست و ربع

۱۷۰۰ + ۴۰۰  ۲۹۰۰ - ۲۳۰۰

۷- مساحت دیوار : عرض × طول =

مساحت تابلو : عرض × طول =

$$\begin{array}{r} ۱۳۵۷ \\ + ۱۳۹۱ \\ \hline ۲۷۴۸ \\ + ۳۹۱ \\ \hline ۳۱۳۹ \\ + ۹۱ \\ \hline ۳۲۳۰ \\ + ۱ \\ \hline ۳۲۳۱ \end{array}$$

۸-

$$\begin{array}{r} ۷۴۵۱ \\ - ۶۳۴۹ \\ \hline ۱۱۰۲ \\ - ۳۴۹ \\ \hline ۷۶۵ \\ - ۴۹ \\ \hline ۷۶۰۶ \end{array}$$

$$3 * 9 = (3 * 4) + (3 * 5)$$

$$(6 * 5) - (7 * 3) = 30 - 21 = 9$$

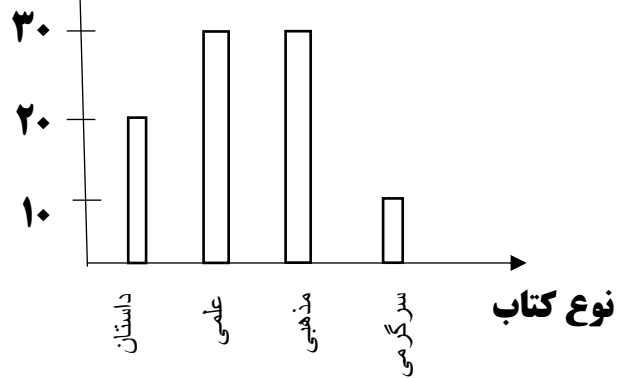
$$320 * 10 = 32000 \quad -9$$

$$100 + 40 + 200 + 7 + 50 = 397$$

$$\begin{array}{r} 37 \\ - 35 \\ \hline 02 \end{array}$$

۱۰-۸ جعبه نیاز است.

تعداد کتاب




-11



## اپلیکیشن درسی همیار

برنامه رایگان درسی همیار



**تمام پایه ها**

جواب کتاب ، تدریس و نمونه سوال



**همیشه رایگان**

برنامه همیار کاملا رایگان میباشد