

محل مهر مدرسه	بسمی تعالی		دبستان دخترانه غیر دولتی علوم درخشان
مدت ارزشیابی: ۴۵ دقیقه	نام درس: ریاضی	سال تحصیلی: ۱۴۰۲-۱۴۰۳ نیم سال دوم	نام و نام خانوادگی: نام دبیر: خانم نوروزی

۱- عدد ۷۵۲۸ را به حروف بنویسید؟

رقم یکان هزار آن چند است.

رقم دهگان آن چند است ؟

۲- در جای خالی کلمات مناسب بنویسید ؟

حاصل ضرب هر عدد در صفر برابر با ..... است .

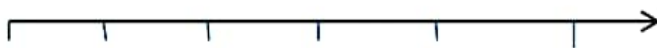
خطی که دو سر آن بسته باشد..... نام دارد .

۲۰۹۸ گرم یعنی ..... کیلو گرم و ..... گرم دارد.

مستطیل..... خط تقارن دارد.

۳- در یک رستوران ۶ ردیف صندلی ۸ تایی آبی و ۵ ردیف صندلی ۴ تایی قرمز چیده اند. در این رستوران چند صندلی وجود دارد.

۴-  $\frac{2}{3}$  واحد بعد از عدد ۳ را روی محور نشان دهید ؟

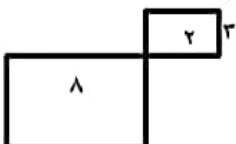


۵- با کامل کردن شکل نشان دهید  $\frac{4}{10} = \frac{2}{5}$  است .

۶- حاصل جمع ها و تفریق های زیر را به صورت فرایندی به دست آورید ؟

$8435$	$6523$	$9725$	$4721$
$\underline{\quad 2213}$	$\underline{+2342}$	$\underline{\quad 3451}$	$\underline{+1248}$

۷- مساحت و محیط شکل زیر را به دست آورید؟



۸- حاصل ضرب های زیر را بنویسید؟

$2 \times 20 \times 2 =$

$5 \times 9 =$

$100 \times 3 =$

$20 \times 40 =$

$7 \times 9 =$

$\times 103$

$\times 253$

$\times 345$

4

2

6

۹- تقسیم های زیر را انجام دهید.

$64 \div 8 =$

$24 \div 3 =$

$18 \div 6 =$

$$\begin{array}{r} 58 \overline{) 7} \\ \hline \end{array}$$

$$\begin{array}{r} 49 \overline{) 5} \\ \hline \end{array}$$

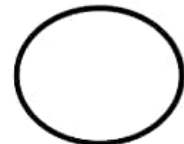
$$\begin{array}{r} 30 \overline{) 4} \\ \hline \end{array}$$

۱۰- با رقم های ۵، ۵، ۲، ۶ بزرگترین و کوچکترین عدد چهار رقمی را بنویسید و اختلاف این دو عدد را بنویسید؟

۱۱- علی میخواهد دور تا دور یک رومیزی به طول ۳۵۰ سانتی متر و به عرض ۱۸۰ سانتی متر تور بدوزد. او به چند متر تور نیاز دارد.

۱۲- اطلاعات جدول را به صورت نمودار ستونی و دایره ای نمایش بدهید.

نام کلاس	سوم الف	سوم ب	چهارم الف	چهارم ب
جمعیت کلاس	۴۰ نفر	۳۰ نفر	۳۰ نفر	۲۰ نفر



چهارم ب    چهارم الف    سوم ب    سوم الف

۱- عدد ۷۵۲۸ را به حروف بنویسید؟ هفت هزار و پانصد و بیست و هشت

رقم یکان هزار آن چند است. ۷

رقم دهگان آن چند است ۲؟

۲- در جای خالی کلمات مناسب بنویسید ؟

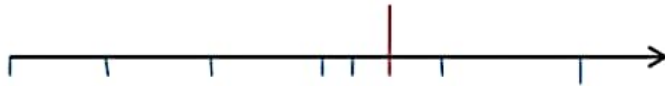
حاصل ضرب هر عدد در صفر برابر با ..... صفر ..... است .

خطی که دو سر آن بسته باشد.... پاره خط..... نام دارد .

۲۰۹۸ گرم یعنی ۲... کیلو گرم و ۹۸... گرم دارد.

مستطیل..... ۲..... خط تقارن دارد.

۳- در یک رستوران ۶ ردیف صندلی ۸ تایی آبی و ۵ ردیف صندلی ۴ تایی قرمز چیده اند. در این رستوران چند صندلی وجود دارد.  $۶۸ = ۲۰ + ۴۸ = (۴ \times ۵) + (۸ \times ۶)$



۴/۳ واحد بعد از عدد ۳ را روی محور نشان دهید ؟

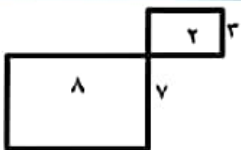
۵- با کامل کردن شکل نشان دهید  $\frac{4}{10} = \frac{2}{5}$  است .



۶- حاصل جمع ها و تفریق های زیر را به صورت فرایندی به دست آورید ؟

۸۴۳۵	۶۵۲۳	۹۷۲۵	۴۷۲۱
<u>  ۲۲۱۳</u>	<u>  ۲۳۴۲</u>	<u>  ۳۴۵۱</u>	<u>  ۱۲۴۸</u>
۶۴۳۵	۸۵۲۳	۶۷۲۵	۵۷۲۱
<u>  ۲۱۳</u>	<u>  ۳۴۲</u>	<u>  ۴۵۱</u>	<u>  ۲۴۸</u>
۶۲۳۵	۸۸۲۳	۶۳۲۵	۵۹۲۱
<u>  ۱۳</u>	<u>  ۴۲</u>	<u>  ۵۱</u>	<u>  ۴۸</u>
۶۲۲۵	۸۸۶۳	۶۲۷۵	۵۹۶۱
<u>  ۳</u>	<u>  ۲</u>	<u>  ۱</u>	<u>  ۸</u>
۶۲۲۲	۸۸۶۵	۶۲۷۴	۵۹۶۹

۷- مساحت و محیط شکل زیر را به دست آورید ؟



مساحت شکل =  $۷ \times ۸ = ۵۶$  مساحت شکل  $۲ = ۲ \times ۳ = ۶$  مساحت کل شکل =  $۵۶ + ۶ = ۶۲$

محیط شکل  $۱ = ۸ + ۷ + ۸ + ۷ = ۳۰$  محیط شکل  $۲ = ۲ + ۳ + ۲ + ۳ = ۱۰$  محیط کل =  $۳۰ + ۱۰ = ۴۰$

۸- حاصل ضرب های زیر را بنویسید؟

$$2 \times 20 \times 2 = 800$$

$$5 \times 9 = 45$$

$$100 \times 3 = 300$$

$$800$$

$$20 \times 40 =$$

$$7 \times 9 = 63$$

$$\times 103$$

$$\times 253$$

$$\times 345$$

$$\begin{array}{r} 4 \\ \hline 400 \\ +12 \\ \hline 412 \end{array}$$

$$\begin{array}{r} 2 \\ \hline 400 \\ +100 \\ \hline 500 \\ \hline 506 \end{array}$$

$$\begin{array}{r} 6 \\ \hline 1800 \\ +24 \\ \hline 1824 \\ \hline 2070 \end{array}$$

۹- تقسیم های زیر را انجام دهید.

$$64 \div 8 = 8$$

$$24 \div 3 = 8$$

$$18 \div 6 = 3$$

$$\begin{array}{r} 58 \overline{) 7} \\ 56 \phantom{0} \\ \hline 02 \end{array}$$

$$\begin{array}{r} 49 \overline{) 5} \\ 48 \phantom{0} \\ \hline 01 \end{array}$$

$$\begin{array}{r} 30 \overline{) 4} \\ 28 \phantom{0} \\ \hline 02 \end{array}$$

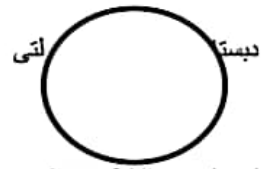
۱۰- با رقم های ۵،۵،۲،۶ بزرگترین و کوچکترین عدد چهار رقمی را بنویسید و اختلاف این دو عدد را بنویسید؟ بزرگترین ۶۵۵۲ کوچکترین ۲۵۵۶  
 $3996 = 2556 - 6552$

۱۱- علی میخواهد دور تا دور یک رومیزی به طول ۳۵۰ سانتی متر و به عرض ۱۸۰ سانتی متر تور بدوزد. او به چند متر تور نیاز دارد.

$$1060 = 180 + 350 + 180 + 350$$

۱۲- اطلاعات جدول را به صورت نمودار ستونی و دایره ای نمایش بدهید.

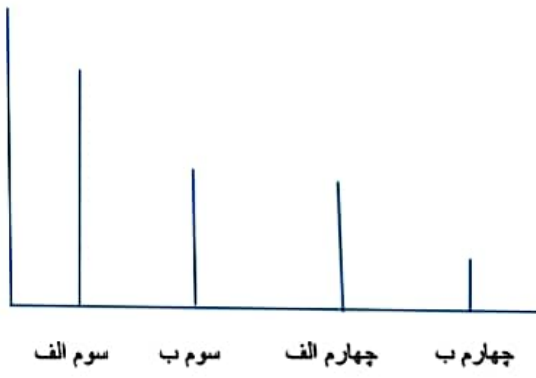
نام کلاس	سوم الف	سوم ب	چهارم الف	چهارم ب
جمعیت کلاس	۴۰ نفر	۳۰ نفر	۳۰ نفر	۲۰ نفر



این دایره به ۱۲ قسمت تقسیم میشود.

بسمی تعالی

محل مهر مدرسه





## اپلیکیشن درسی همیار

برنامه رایگان درسی همیار



**تمام پایه ها**

جواب کتاب ، تدریس و نمونه سوال



**همیشه رایگان**

برنامه همیار کاملا رایگان میباشد