


# ۴

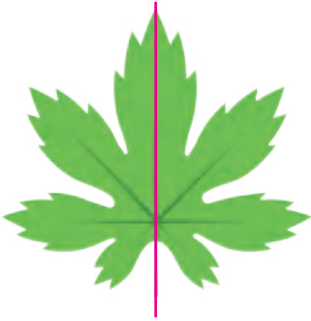
## تقارن و چندضلعی ها



خانه طیبانی ها - کاشان

تقارن، نظم و هماهنگی از مهم ترین ویژگی های هنر ایرانی است.  
آیا می توانید در شکل های بالا تقارن ها را مشخص کنید؟

## تقارن محوری

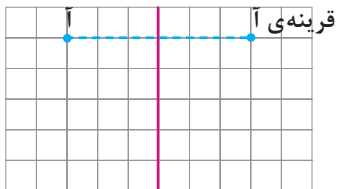
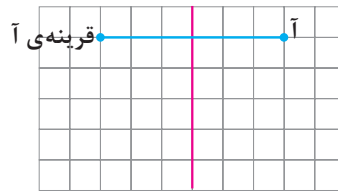
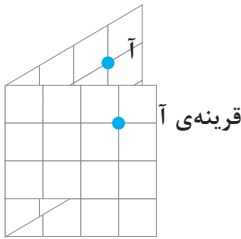


برگ‌ها فعالیت‌های زیادی دارند؛ مثلاً اکسیژن تولید می‌کنند. همچنین آب به صورت بخار از سطح برگ‌ها دفع می‌شود. در شکل روبه‌رو تصویر یک برگ را می‌بینید. به سمت چپ و سمت راست این برگ نگاه کنید. با تا کردن برگ از روی خط قرمز رنگ، قسمت چپ و قسمت راست برگ روی هم قرار می‌گیرند. به این خط، خط تقارن می‌گویند. دو طرف این خط قرینه‌ی یکدیگرند. به اطراف خود نگاه کنید؛ کدام شکل‌ها این ویژگی را دارند؟

### فعالیت

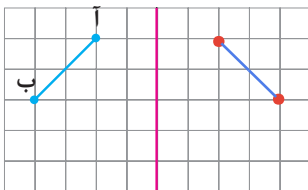
۱- خانم جلالی از دانش‌آموزان خواسته بود قرینه‌ی نقطه‌ی «آ» نسبت به خط تقارن را پیدا کنند. دانش‌آموزان به روش‌های زیر قرینه‌ی نقطه‌ی «آ» را پیدا کردند:

**محمد مهدی:** من کاغذ را از روی خط تقارن، تا کردم و قرینه‌ی نقطه‌ی «آ» را پیدا کردم.



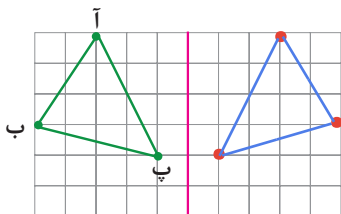
**علی:** من از نقطه‌ی «آ» روی خط‌های شطرنجی حرکت کردم تا به خط تقارن رسیدم. سپس به همان اندازه در طرف دیگر ادامه دادم.

این دو روش را با یکدیگر مقایسه کنید.



۲- قرینه‌ی باره‌خط «آ ب» نسبت به خط تقارن را پیدا کنید. توضیح دهید که چگونه این کار را انجام دادید.

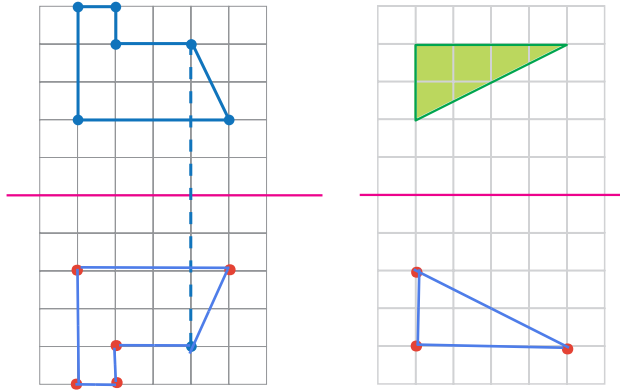
اول قرینه‌ی نقطه‌ی آ و سپس قرینه‌ی نقطه‌ی ب را پیدا می‌کنیم و آن‌ها را به هم وصل می‌کنیم



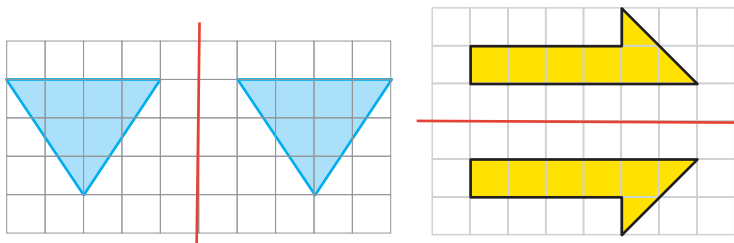
۳- قرینه‌ی مثلث «آ ب پ» را نسبت به خط تقارن پیدا کنید.

Leyla.fouladi

## فعالیت



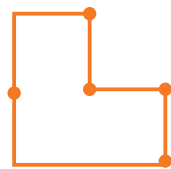
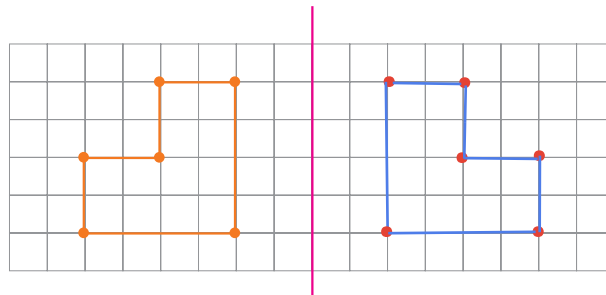
۴- قرینه‌ی شکل‌های روبه‌رو را نسبت به خطّ تقارن پیدا کنید. برای راهنمایی شما، قرینه‌ی یک نقطه رسم شده است.



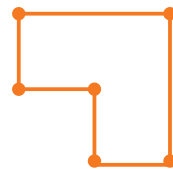
۵- قرینه‌ی هر شکل نسبت به خطّ تقارن آن رسم شده است. محلّ خطّ تقارن را پیدا کنید.

## کار در کلاس

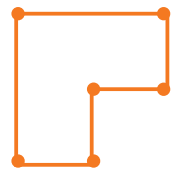
۱- الف) کدام یک از شکل‌های زیر، قرینه‌ی شکل داده شده است؟ با استفاده از شکل‌ها ابتدا پاسخ را حدس بزنید و سپس آن را رسم کنید.



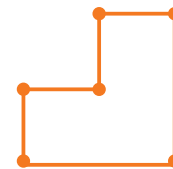
(شکل ۱)



(شکل ۲)



(شکل ۳)

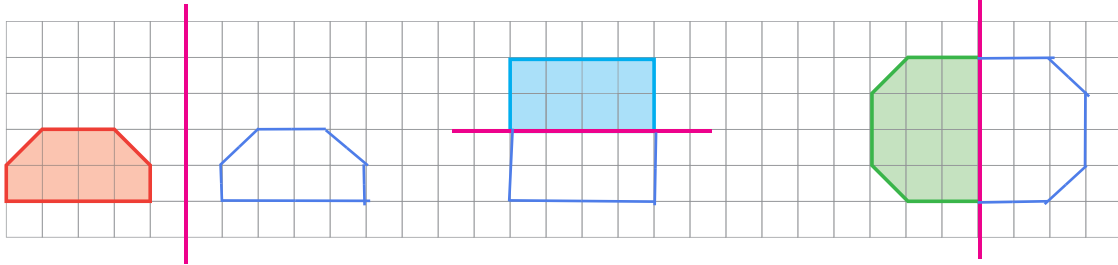


(شکل ۴)

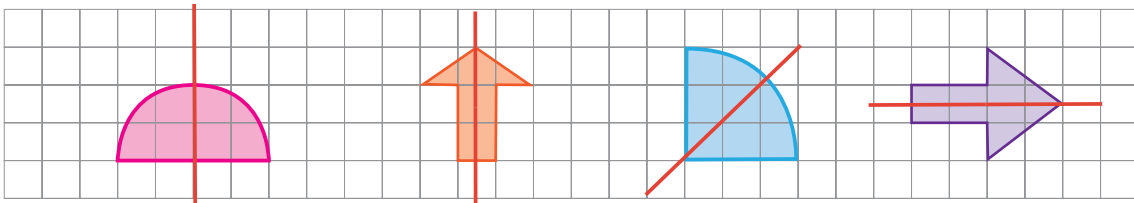
ب) توضیح دهید که پیدا کردن قرینه‌ی یک نقطه از شکل، چگونه به رسم قرینه‌ی کلّ شکل کمک می‌کند.

ابتدا با کمک گونیا از نقطه آ یک خط عمود بر خط تقارن رسم می کنیم سپس خط را اندازه می گیریم و در طرف دیگر هم به همان اندازه خط را ادامه می دهیم

۲- ابتدا قرینه‌ی هر شکل را نسبت به خط تقارن تصوّر کنید. سپس آن را رسم کنید.

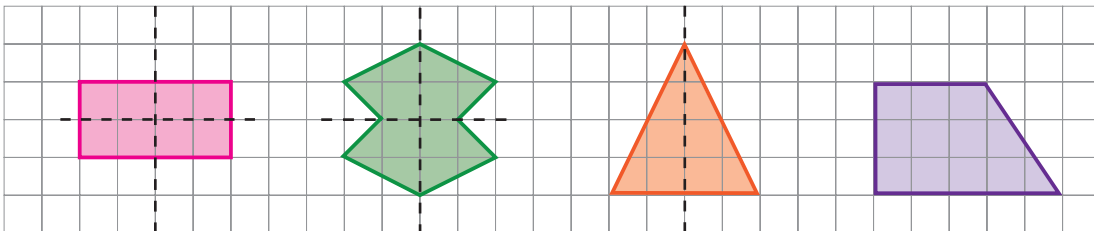


۳- در شکل‌های زیر، خط تقارن را رسم کنید. توضیح دهید که چگونه این کار را انجام می‌دهید.

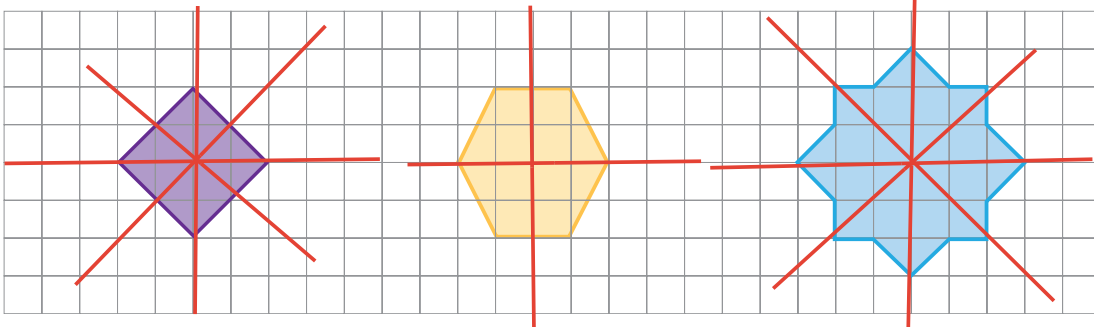


۴- ممکن است شکلی خط تقارن نداشته باشد یا بیشتر از یک خط تقارن داشته باشد. در شکل‌های زیر، خط‌چین‌ها خط

تقارن هستند.



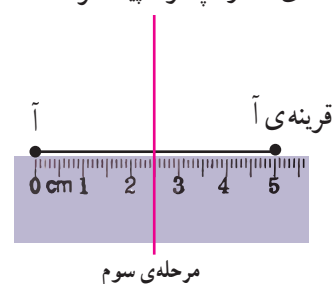
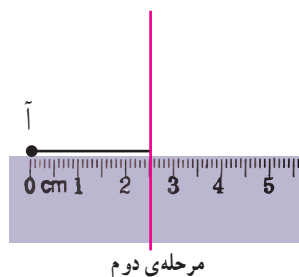
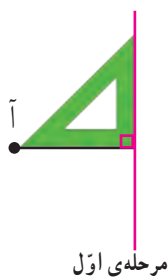
در شکل‌های زیر، همه‌ی خط‌های تقارن را رسم کنید.



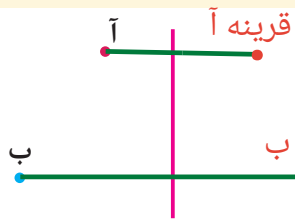
## فعالیت

۱- آموزگار برای پیدا کردن قرینه‌ی نقطه‌ی «آ» نسبت به خط تقارن داده شده، مانند شکل‌های زیر عمل کرد. توضیح دهید

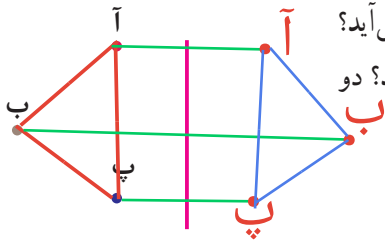
که او قرینه‌ی نقطه‌ی «آ» را چگونه پیدا کرده است.



۷۰

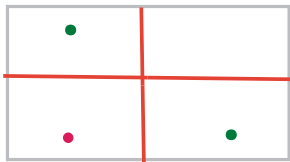


۲- شما هم به روش آموزگار، قرینه‌ی هریک از نقطه‌های «آ» و «ب» را نسبت به خط تقارن داده شده پیدا کنید. توضیح دهید که چگونه این کار را انجام می‌دهید.




۳- ابتدا سه نقطه‌ی «آ»، «ب» و «پ» را به هم وصل کنید. چه شکلی به دست می‌آید؟ اکنون قرینه‌ی این سه نقطه را پیدا کنید و به هم وصل کنید. چه شکلی به دست می‌آید؟ دو شکلی که در دو طرف خط تقارن به دست می‌آیند، چه رابطه‌ای با هم دارند؟

## کار در کلاس

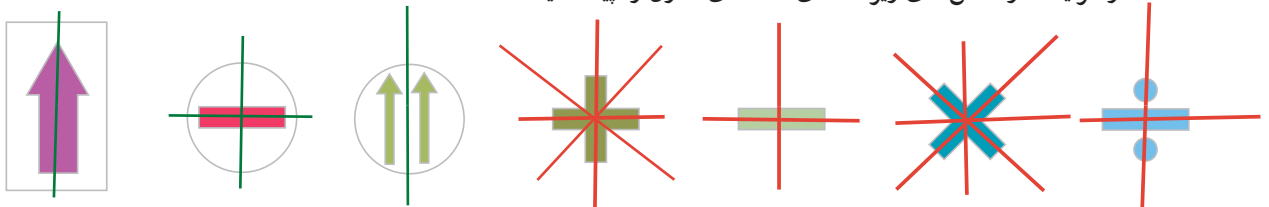


۱- روی کاغذ مستطیل شکل روبه‌رو، یک نقطه‌ی رنگی قرار دارد. قرینه‌ی این نقطه را نسبت به خط‌های تقارن کاغذ پیدا کنید. چه روش‌های دیگری برای پیدا کردن قرینه‌ی نقطه‌ی رنگی پیشنهاد می‌کنید؟ آنها را توضیح دهید.

۲- در شکل‌های زیر، قرینه‌ی نقاط رنگی را نسبت به خط تقارن رسم شده پیدا کنید.



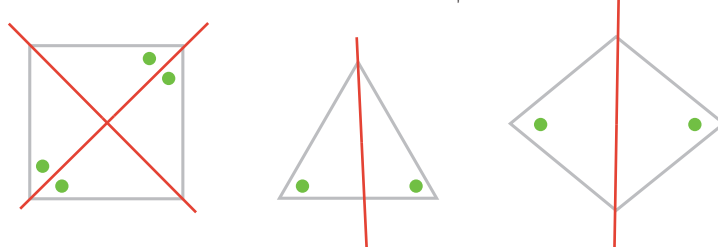
۳- در هر یک از شکل‌های زیر، همه‌ی خط‌های تقارن را پیدا کنید.



۴- نیمه‌ی دیگر هر شکل را طوری بکشید که خط آبی رنگ، خط تقارن آن باشد.



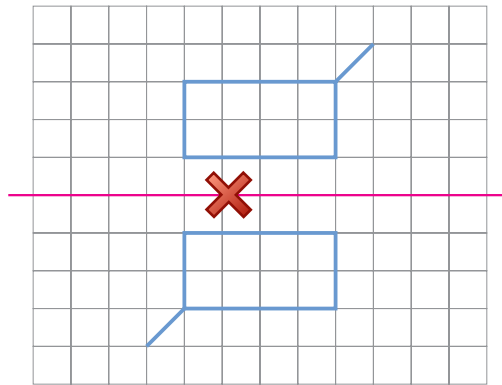
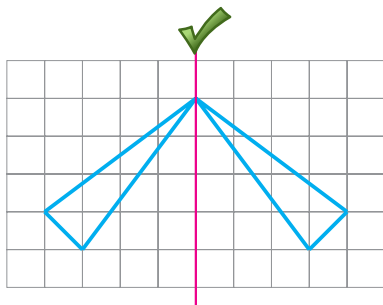
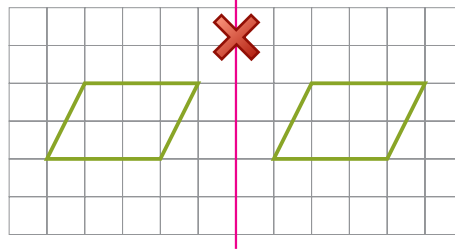
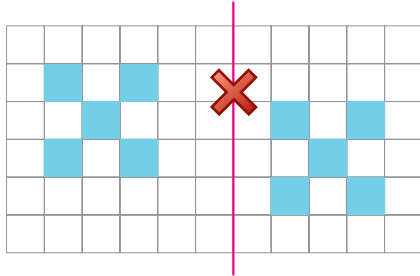
۵- در شکل‌های زیر، نقطه‌های رنگی نسبت به هم قرینه‌اند. محل خط‌های تقارن را مشخص کنید.



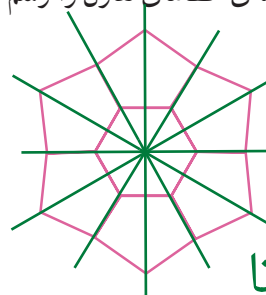
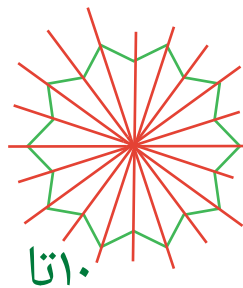
Leyla.fouladi

## تمرین

۱- کدام یک از خط‌های قرمز رنگ، خط تقارن را نشان می‌دهد؟



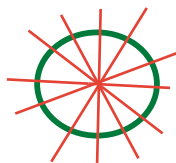
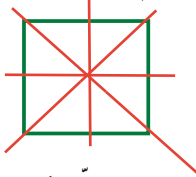
۲- در شکل‌های زیر، همه‌ی خط‌های تقارن را رسم کنید.



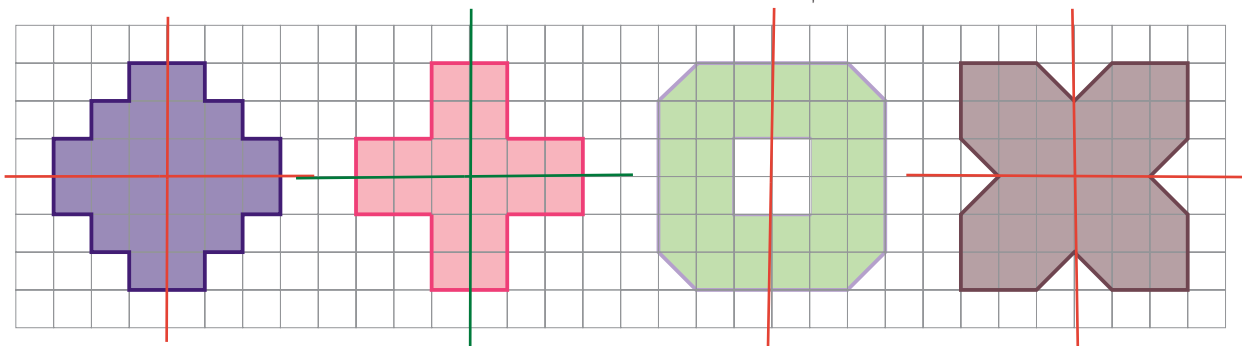
۱۰ تا

۶ تا

۳- شکلی رسم کنید که بیش از دو خط تقارن داشته باشد. سپس خط‌های تقارن آن را رسم کنید.



۴- در هر یک از شکل‌های زیر، با رسم خط‌های تقارن و پیدا کردن مساحت یک قسمت، مساحت کل شکل را پیدا کنید.



$$4 \times 6 = 24$$

$$4 \times 5 = 20$$

$$2 \times 15 = 30$$

$$4 \times 8 = 32$$

۷۲