

نام و نام خانوادگی:

.....

نام آموزگار: اکرم هوشمند مقدم

کلاس: پنجم

بسمه تعالی  
اداره‌ی آموزش و پرورش شهرستان خواف  
دبستان غیردولتی نوآوران اندیشه

تاریخ آزمون: ۱۱/۳ / ۱۴۰۱  
عنوان درس: مطالعات اجتماعی  
تعداد صفحات: ۳ صفحه

موفقیت تصادفی نیست! موفقیت یعنی: تلاش، استقامت، یادگیری، مطالعه، فداکاری و بیشتر از همه، عشق به آن چیزی که انجام می‌دهید.

■ صحیح یا غلط بودن عبارات زیر را مشخص کنید؟

1. جمعیت ایران در همه جای آن به طور یکسان پراکنده شده است.  ص  غ
2. صنایع مادر کالاهایی تولید می‌کند که به طور مستقیم مصرف می‌شوند.  ص  غ
3. مداد\_ فرش\_ شکر از صنایع مصرفی به حساب می‌آیند.  ص  غ

■ جاهای خالی را با عبارت مناسب پر کنید؟

1. یک کارخانه برای تولید کالا علاوه بر مواد اولیه به ..... و ..... و ..... نیاز دارد.
2. ..... و ..... دو نمونه از مؤسساتی هستند که به کسانی دچار حادثه شده اند و نیازمند کمک هستند، کمک می‌کنند.
3. مردم برای استفاده از آب های زیر زمینی ..... و ..... حفر می‌کنند.

■ گزینه ی صحیح را انتخاب کنید؟

1. امیر محمد می‌خواست در مورد آزمون علوم دو روز پیش را برای پدرش تعریف کند ، اما پدرش در حال صحبت کردن با مادرش بود . به نظر شما امیر محمد کدام اصل گفت و گو را رعایت نکرد؟  
(الف) حریم شخصی  .  
(ب) قطع نکردن حرف گوینده  .  
(ج) انتخاب زمان مناسب گفت گو  .  
(د) دقت و توجه به سخنان  .
2. پراکندگی صنایع مصرفی در کدام شهر ایران بیشتر است؟  
(الف) تهران  .  
(ب) اصفهان  .  
(ج) یزد  .  
(د) تبریز  .
3. کدام نواحی جزء نواحی کم جمعیت است؟  
(الف) نواحی کناره دریای خزر  (ب) ناحیه ی تهران  (ج) ناحیه ی داخلی  (د) کوهپایه آذربایجان
4. آب رودها چگونه آلوده می‌شود؟  
(الف) تخلیه فاضلاب کارخانه ها و فاضلاب های خانگی  .  
(ب) تخلیه زباله در رود ها  .  
(ج) آلودگی ناشی از استفاده کود های شیمیایی در کشاورزی  .  
(د) همه موارد  .

نام و نام خانوادگی:

.....

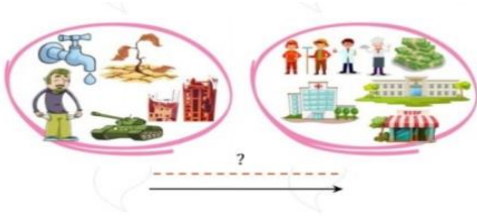
نام آموزگار: اکرم هوشمند مقدم

کلاس: پنجم

بسمه تعالی  
اداره‌ی آموزش و پرورش شهرستان خواف  
دبستان غیردولتی نوآوران اندیشه

تاریخ آزمون: ۱۴۰۱ / ۱۱ / ۳  
عنوان درس: مطالعات اجتماعی  
تعداد صفحات: ۳ صفحه

۵\_ با توجه به تصویر زیر در جای خالی چه چیزی باید نوشت؟ آن را توضیح دهید؟



■ مفاهیم زیر را تعریف کنید.

گروه:

همدلی:

قنات:

صنایع مصرفی:

■ به سوالات زیر پاسخ کامل بدهید؟

۱\_ چگونه و از چه راه هوایی می‌توانیم بر ترس خود غلبه کنیم؟

۲\_ هدف از تشکیل شورای دانش‌آموزی چیست؟

۳\_ وظیفه سازمان انتقال خون چیست؟

دبستان غیر دولتی نوآوران اندیشه

■ زیر را کامل کنید.

نام استان	صنایع ذوب آهن	صنایع ماشین‌سازی	صنایع پتروشیمی
۱_			
۲_			



نام و نام خانوادگی:

.....

نام آموزگار: اکرم هوشمند مقدم

کلاس : پنجم

بسمه تعالی

اداره‌ی آموزش و پرورش شهرستان خواف

دبستان غیردولتی نوآوران اندیشه

تاریخ آزمون. ۱۴۰۱ / ۱۱ / ۳

عنوان درس: مطالعات اجتماعی

تعداد صفحات: ۳ صفحه


دبستان غیر دولتی نوآوران اندیشه

نام و نام خانوادگی:

.....

نام آموزگار: اکرم هوشمند مقدم

کلاس: پنج

بسمه تعالی  
اداره‌ی آموزش و پرورش شهرستان خواف  
دبستان غیردولتی نوآوران اندیشه

تاریخ آزمون: ۱۱/۳ / ۱۴۰۱  
عنوان درس: پاسخنانه مطالعات  
تعداد صفحات: ۳ صفحه

موفقیت تصادفی نیست! موفقیت یعنی: تلاش، استقامت، یادگیری، مطالعه، فداکاری و بیشتر از همه، عشق به آن چیزی که انجام می‌دهید.

■ صحیح یا غلط بودن عبارات زیر را مشخص کنید؟

1. جمعیت ایران در همه جای آن به طور یکسان پراکنده شده است.  ص  غ
2. صنایع مادر کالاهایی تولید می‌کند که به طور مستقیم مصرف می‌شوند.  ص  غ
3. مداد\_ فرش\_ شکر از صنایع مصرفی به حساب می‌آیند.  ص  غ

■ جاهای خالی را با عبارت مناسب پر کنید ؟

1. یک کارخانه برای تولید کالا علاوه بر مواد اولیه به ..... نیروی کار ..... و ..... سرمایه .....  
و ..... ماشین آلات و ابزار ..... نیاز دارد.
2. ... هلال احمر ..... و ..... سازمان انتقال خون ..... دو نمونه از مؤسساتی هستند که به کسانی دچار حادثه شده اند و نیازمند کمک هستند، کمک می‌کنند .
3. مردم برای استفاده از آب های زیر زمینی ..... قنات ..... و ..... چاه ..... حفر می‌کنند.

■ گزینه ی صحیح را انتخاب کنید؟

1. امیر محمد می‌خواست در مورد آزمون علوم دو روز پیش را برای پدرش تعریف کند ، اما پدرش در حال صحبت کردن با مادرش بود . به نظر شما امیر محمد کدام اصل گفت و گو را رعایت نکرد؟  
(الف) حریم شخصی  .  
(ب) قطع نکردن حرف گوینده  .  
(ج) انتخاب زمان مناسب گفت گو  .  
(د) دقت و توجه به سخنان  .
2. پراکندگی صنایع مصرفی در کدام شهر ایران بیشتر است؟  
(الف) تهران  .  
(ب) اصفهان  .  
(ج) یزد  .  
(د) تبریز  .
3. کدام نواحی جزء نواحی کم جمعیت است؟  
(الف) نواحی کناره دریای خزر  (ب) ناحیه ی تهران  (ج) ناحیه ی داخلی  (د) کوهپایه آذربایجان
4. آب رودها چگونه آلوده می‌شود؟
5. (الف) تخلیه فاضلاب کارخانه ها و فاضلاب های خانگی  .  
(ب) تخلیه زباله در رود ها  .

نام و نام خانوادگی:

.....

نام آموزگار: اکرم هوشمند مقدم

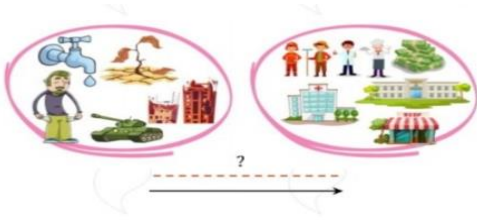
کلاس: پنجم

بسمه تعالی  
اداره‌ی آموزش و پرورش شهرستان خواف  
دبستان غیردولتی نوآوران اندیشه

تاریخ آزمون: ۱۱/۳ / ۱۴۰۱  
عنوان درس: پاسخنامه مطالعات  
تعداد صفحات: ۳ صفحه

ج) آلودگی ناشی از استفاده کود های شیمیایی در کشاورزی □. (د) همه موارد □

۵\_ با توجه به تصویر زیر در جای خالی چه چیزی باید نوشت؟ آن را توضیح دهید؟ **مهاجرت**



■ مفاهیم زیر را تعریف کنید.

**گروه:** گروه از تعدادی افراد تشکیل شده است که برای انجام دادن فعالیت های مشترک و برای رسیدن به هدفی مشترک با

یکدیگر ارتباط دارند

**همدلی:** یعنی اینکه فرد بتواند احساسات، رفتار و شرایط دیگران را درک کند و خودش را جای او بگذارد

**قنات:** قنات یک تونل زیرزمینی است که آب در آن خودبه خود از مناطق پر آب به نواحی کم آب، جاری می شود.

**صنایع مصرفی:** کالاهایی تولید می کنند که مردم آن ها را به طور مستقیم مصرف می کنند یا می خردند.

■ به سوالات زیر پاسخ کامل بدهید؟

۱\_ چگونه و از چه راه هوایی می توانیم بر ترس خود غلبه کنیم؟ ۱\_ توکل به خدا ۲\_ مشورت کردن با بزرگ تر ها ۳\_ نقاشی

کشیدن ۴\_ فیلم وحشتناک تماشا نکنیم. ۵\_ به مرور زمان با پدیده ای که مارا می ترساند روبه رو شویم تا نریمان از بین برود

۲\_ هدف از تشکیل شورای دانش آموزی چیست؟ هدف این است که مسئولان مدرسه از نظرات دانش آموزان درباره مسائل درسی و

امور مربوط به مدرسه آگاه شوند و با آن ها مشارکت کنند.

۳\_ وظیفه سازمان انتقال خون چیست؟ گرفتن خون از داوطلبان و انتقال آن به درمانگاه ها و بیمارستان ها را برعهده دارد

■ زیر را کامل کنید.


نام استان	صنایع ذوب آهن	صنایع ماشین سازی	صنایع پتروشیمی
۱_	اصفهان	مرکزی	کردستان
۲_	خوزستان	آذربایجان شرقی	اصفهان





## اپلیکیشن درسی همیار

برنامه رایگان درسی همیار



**تمام پایه ها**

جواب کتاب ، تدریس و نمونه سوال



**همیشه رایگان**

برنامه همیار کاملا رایگان میباشد