

نام و نام خانوادگی :

به نام خالق هستی

نیمسال اول

ساناز حاجی پور

دبستان دخترانه ی فرهنگ

سوال درس مطالعات اجتماعی

پایه پنجم

اداره آموزش و پرورش ناحیه ۲ اهواز دی ماه ۱۴۰۱

☆ متن زیر را بخوانید و به سوالات خواسته شده پاسخ دهید.

دانش آموزان برای برگزاری انتخابات شورای دانش آموزی مدرسه آماده بودند. مربی پرورشی مدرسه ۱۰ نفر از دانش آموزان کلاس پنجم را به عنوان گروه برگزار کننده انتخابات، انتخاب کرده است و در مورد وظایفشان با آنها صحبت می کند. لیلا در زمان صحبت های مربی حواسش به اطراف پرت است. مریم مدام صحبت های مربی را قطع می کند و سوال می پرسد. مدیر مدرسه به گروه بچه ها می گوید بهتر است در مورد درست گفت و گو کردن و همچنین داشتن یک گروه خوب با هم صحبت کنیم و بعد به کار خود ادامه دهیم.

(۱) به نظر شما آیا لیلا و مریم نکات صحیح گفت و گو را رعایت کردند؟ چه نکاتی را؟

(۲) برای اینکه این گروه ۱۰ نفره وظایفشان را در گروه به درستی انجام دهند باید چه مواردی را رعایت کنند؟

(۳) انتخابات شورای دانش آموزی در چه زمانی قرار است برگزار شود؟

(۴) آیا شما هم در انتخابات شورای دانش آموزی مدرسه خود شرکت کردید؟

☆ با توجه به تصاویر مشخص کنید کدام ترس به جا و کدام ترس نا به جا است.



برای مقابله با ترس هایمان چه راهکاری پیشنهاد می کنی؟

☆ آیه ای که در قرآن در مورد مشورت آمده است بنویسید.

☆ بنویسید در موقعیت های زیر چه کارهایی انجام بدهیم تا دیگران احساس بهتری پیدا کنند.

الف) یکی از همکلاسی های شما در مسابقه ورزشی مقام اول را به دست آورده است.

ب) زنگ نقاشی است و دوست شما بسته ی مداد رنگی بسیار با ارزشی را که دیشب خریده ، گم کرده است.

☆ کدام عوامل زیر جذب کننده و کدام یک دور کننده جمعیت است.

خشک سالی شغل و درآمد مناسب.....

جنگ..... مراکز درمانی مجهز.....

☆ با توجه به تصویر چه عواملی باعث آلودگی آب ها می شوند؟

● نمونه هایی از راه های آلوده کردن آب



جدول را کامل کن.

بدی ها 😞	خوبی ها 😊	وسیله حمل و نقل
		
		
		

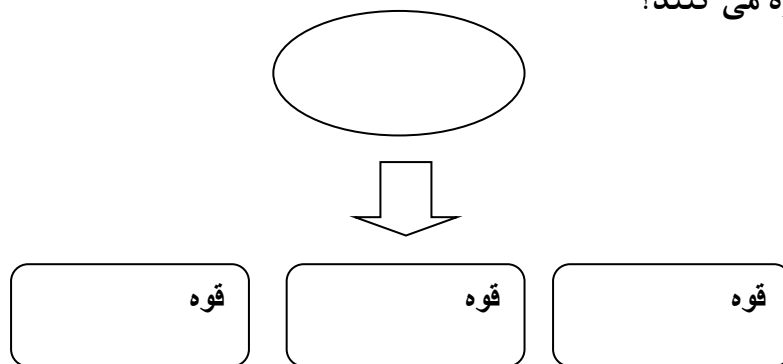
☆ صنایع مادر و صنایع مصرفی را مشخص کن.

مبل، ذوب آهن، پارچه بافی، پیراهن، پتروشیمی، فولاد

	صنایع مادر
	صنایع مصرفی

☆ نمودار زیر را کامل کنید.

چه کسانی کشور را اداره می کنند؟



نیاز به تلاش	قابل قبول	خوب	خیلی خوب	اهداف و انتظارات
				اصول گفتگو را می داند و آنها را در جمله تشخیص می دهد.
				ترس های نا به جا و به جا را با توجه به تصویر درک می کند.
				مفهوم همدلی را در موقعیت های واقعی می فهمد.
				عوامل کاهش و افزایش جمعیت را می شناسد.
				علت آلودگی آب را بیان می کند.
				صنایع مصرفی و مادر را تشخیص میدهد.
				ویژگی انواع وسایل حمل و نقل را می داند.
				قوای سه گانه کشور را می شناسد.

.....باز خورد معلم.....

خود سنجی: دانش آموز خوبم نظرت درباره ی عملکردت در این آزمون چیه؟

۱) خیر. قطع کردن صحبت های گوینده و توجه نکردن به صحبت های گوینده.

۲) اعضای گروه وظایف خود را بشناسند و آن ها را به درستی انجام دهند. با یکدیگر روابط خوبی داشته باشند و همدل و مهربان باشند. نظم و مقررات را رعایت کنند. در تصمیم گیری و انجام کارها مشورت و همفکری کنند.

۳) نیمه اول آبان ماه

۴) بر عهده دانش آموز

با توجه به تصاویر مشخص کنید کدام ترس به جا و کدام ترس نا به جا است.

ترس از دزد (به جا) ترس از آمپول (نا به جا) ترس از امتحان (نا به جا) ترس از حیوانات وحشی (به جا)

با بزرگترها (مادر، پدر، معلم، مشاور مدرسه و...) درباره ی ترس خود مشورت کنیم و از آن ها کمک بگیریم. در موقع روبه رو شدن با چیزی که ما را میترساند، از نام و یاد خدا کمک بگیریم. درباره ی ترس هایمان با دیگران صحبت کنیم یا چیزی که از آن میترسیم نقاشی کنیم.

آیه ای که در قرآن در مورد مشورت آمده است بنویسید.

وامرهم شورا بینهم. در کارهایشان با یکدیگر مشورت می کنند.

بنویسید در موقعیت های زیر چه کارهایی انجام بدهیم تا دیگران احساس بهتری پیدا کنند.

الف) خوشحال می شوم و از صمیم قلب به دوستم تبریک می گویم.

ب)مداد رنگی خودم را در اختیار دوستم قرار میدهم تا باهم نقاشی کنیم.

کدام عوامل زیر جذب کننده و کدام یک دور کننده جمعیت است.

دور کننده ی جمعیت جذب کننده ی جمعیت

دور کننده ی جمعیت جذب کننده ی جمعیت

با توجه به تصویر چه عواملی باعث آلودگی آب ها می شوند؟فاضلاب کارخانه ها-ریختن زباله های شهری-فاضلاب شهری-کودهای کشاورزی

جدول را کامل کن.

کشتی: بسیار ارزان است. برای حمل کالاهای سنگین بسیار مناسب است.

خیلی آهسته حرکت می کند. همه ی کشورها به دریا دسترسی ندارند.

هوآپیما: برای حمل مسافر و کالاهای سبک بسیار مناسب است. سرعت زیادی دارد و مسافت های طولانی را در مدت کمی طی می کند.

هزینه مسافرت با آن زیاد است.

قطار: حمل بارهای سنگین با قطار باری، در مقایسه با کامیون ارزان تر تمام می شود.

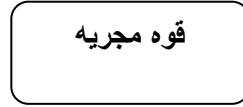
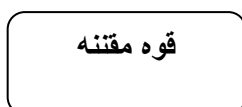
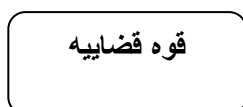
همه ی شهرها به شبکه ی راه آهن متصل نیستند.

صنایع مادر و صنایع مصرفی را مشخص کن.

صنایع مادر	ذوب آهن - پتروشیمی - فولاد
صنایع مصرفی	پارچه بافی - مبیل - پیراهن

نمودار زیر را کامل کنید.

چه کسانی کشور را اداره می کنند؟





اپلیکیشن درسی همیار

برنامه رایگان درسی همیار



تمام پایه ها

جواب کتاب ، تدریس و نمونه سوال



همیشه رایگان

برنامه همیار کاملا رایگان میباشد