


بسم الله الرحمن الرحيم

<p>آزمون درس : مطالعات اجتماعی پایه ششم ابتدایی</p> <p>نوبت آزمون : نوبت دوم</p>		<p>نام و نام خانوادگی : .....</p> <p>نام پدر: .....</p>
<p>باز خورد آموزگار:</p> <p><input type="checkbox"/> خیلی خوب (۱) <input type="checkbox"/> قابل قبول (۳)</p> <p><input type="checkbox"/> خوب (۲) <input type="checkbox"/> نیاز به تلاش بیشتر (۴)</p>	<p>اداره آموزش و پرورش شهرستان بن</p> <p>آموزشگاه ابتدایی .....</p>	<p>تاریخ آزمون : ۱۴۰۲/۰۳/۳</p> <p>مدت آزمون : ۷۰ دقیقه</p> <p>ساعت شروع : ۹:۰۰ صبح</p>

شیرینی یک بار پیروزی به تلخی هزاران بار شکست می آرزود. موفق و پیروز باشید.

مقیاس	الف) گزینه ی صحیح را انتخاب کنید.	ردیف
	<p>گزینه صحیح را با علامت ( X ) مشخص کنید.</p> <p>الف) منظور از مروارید سیاه چیست؟</p> <p>الف) نفت خلیج فارس ( <input type="radio"/> ب) گاز دریای خزر ( <input type="radio"/> ج) طلا ( <input type="radio"/> د) خاویار دریای خزر ( <input type="radio"/> )</p> <p>ب) خواجه نظام الملک چه مدارسی را تاسیس کرد؟</p> <p>الف) نظامیه ( <input type="radio"/> ب) فنی ( <input type="radio"/> ج) ستاره شناسی ( <input type="radio"/> د) پزشکی ( <input type="radio"/> )</p> <p>ج) عصر تاریکی اروپاییان مقارن (نزدیکی) با کدام دوره مسلمانان بود ؟</p> <p>الف) جهل و خرافات در بین مسلمانان ( <input type="radio"/> ب) گسترش مراکز علمی جهان اسلام ( <input type="radio"/> )</p> <p>ج) کشف سر زمین های جدید توسط مسلمانان ( <input type="radio"/> د) دوره فرمانروایی مغول بر مسلمانان ( <input type="radio"/> )</p> <p>د) در چه تاریخی ملی شدن صنعت نفت اعلام شد؟</p> <p>الف) ۲۹ اسفند ( <input type="radio"/> ب) ۲۲ بهمن ( <input type="radio"/> ج) ۱۲ بهمن ( <input type="radio"/> د) ۱۲ فروردین ( <input type="radio"/> )</p>	۱
	<p>در جاهای خالی کلمات مناسب بنویسید.</p> <p>۱_ بیشتر منبع گاز ایران از.....و.....کشور به دست می آید.</p> <p>۲_ سلسله صفویه را.....تاسیس کرد.</p> <p>۳_ مهم ترین علت پیشرفت علمی مسلمانان.....بود.</p> <p>۴_ دیر خوابیدن و کمبود خواب بر.....و.....تاثیرات بدی بر جای می گذارد.</p> <p>۵_ برای ایجاد بندر و پهلو گرفتن کشتی ها.....بسیار مناسب هستند.</p> <p>۶_ همه ی کشورهای همسایه ایران به جز.....مسلمان هستند.</p> <p>۷_ مهم ترین منابع مصرف انرژی در دنیای امروز.....است.</p>	۲
	<p>جملات ((درست)) و جملات ((نادرست)) را داخل پرانتز مشخص کنید:</p> <p>الف) به همکاری افراد برای کار تولیدی، خط تولید میگویند. ( )</p> <p>ب) نقاشی های تالار و اتاق های عالی قاپو اثر استاد علیرضا عباسی است. ( )</p> <p>ج) دریا ها، گودال های پر آبی هستند که به اقیانوس ها راه ندارند. ( )</p>	۳

	<p style="text-align: center;">به سوالات زیر پاسخ کوتاه بدهید.</p> <p style="text-align: right;">۴</p> <p>۱_ تصمیم گیری چه مراحل دارد؟</p> <p>۲_ سه مرحله عمده کشاورزی را نام ببرید.</p> <p>۳_ چه خاک هایی استعداد کشاورزی ندارند؟</p> <p>۴_ مستعمره چیست؟</p> <p>۵_ انقلاب اسلامی در چه تاریخی به پیروزی رسید؟</p>				
	<p style="text-align: right;">۵</p> <p>جدول زیر را کامل کنید.</p> <table style="width: 100%; border-collapse: collapse;"> <thead> <tr> <th style="width: 50%; text-align: center;">علت ها</th> <th style="width: 50%; text-align: center;">معلول</th> </tr> </thead> <tbody> <tr> <td style="vertical-align: top;"> <div style="border: 1px solid black; height: 20px; width: 100%; margin-bottom: 5px;"></div> <div style="border: 1px solid black; height: 20px; width: 100%; margin-bottom: 5px;"></div> <div style="border: 1px solid black; height: 20px; width: 100%;"></div> </td> <td style="vertical-align: middle; text-align: center;"> <div style="border: 1px solid black; padding: 5px; width: 80%; margin: 0 auto;"> تغییر و تحول و قدرتمند شدن اروپائیان </div> </td> </tr> </tbody> </table>	علت ها	معلول	<div style="border: 1px solid black; height: 20px; width: 100%; margin-bottom: 5px;"></div> <div style="border: 1px solid black; height: 20px; width: 100%; margin-bottom: 5px;"></div> <div style="border: 1px solid black; height: 20px; width: 100%;"></div>	<div style="border: 1px solid black; padding: 5px; width: 80%; margin: 0 auto;"> تغییر و تحول و قدرتمند شدن اروپائیان </div>
علت ها	معلول				
<div style="border: 1px solid black; height: 20px; width: 100%; margin-bottom: 5px;"></div> <div style="border: 1px solid black; height: 20px; width: 100%; margin-bottom: 5px;"></div> <div style="border: 1px solid black; height: 20px; width: 100%;"></div>	<div style="border: 1px solid black; padding: 5px; width: 80%; margin: 0 auto;"> تغییر و تحول و قدرتمند شدن اروپائیان </div>				
	<p style="text-align: right;">۶</p> <p>آقای بهرامی به پرورش گل و گیاهان زینتی علاقه دارد. اما در منطقه ی زندگی او اختلاف دما در فصل های مختلف زیاد است. به نظر شما او باید چه روشی را برای کشت این گیاه انتخاب کند؟ (دو دلیل انتخاب خود را بنویسید.)</p>				
	<p style="text-align: right;">۷</p> <p>شما همراه پدر به ورزشگاه رفته اید. چه آداب و مقرراتی را باید رعایت کنید؟</p>				

۸

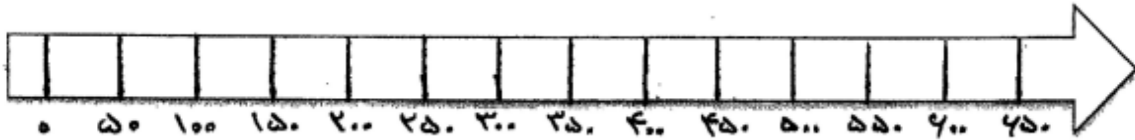
باتوجه به خط زمان:

الف) ابوریحان بیرونی (۴۴۰-۳۶۲) در چه قرنی می زیسته؟

نیمه ..... قرن ..... تا نیمه ..... قرن .....

ب) زکریای رازی (۳۱۳-۲۵۱) در چه قرنی به دنیا آمده است؟

نیمه ..... قرن ..... تا نیمه ..... قرن .....



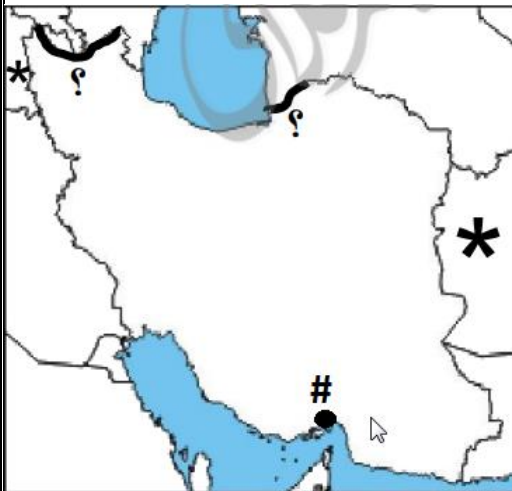
۹

موارد مشخص شده روی نقشه را زیر هر سوال

بنویسید:

الف) نام رودهای مرزی را که با علامت ((؟)) مشخص شده است را بنویسید .

ب) نام کشورهایی را که با علامت ((\*)) مشخص شده است را بنویسید.



ج) نام بندری که روی نقشه با علامت ((#)) مشخص شده را بنویسید.

راهنمای تصحیح

آزمون مطالعات پایه ششم ابتدایی در نوبت دوم خرداد ماه سال تحصیلی (۱۴۰۱-۱۴۰۲)

۱	الف) خاویار دریای خزر (ب) نظامیه (ج) گسترش مراکز علمی جهان اسلام (د) ۲۹ اسفند
۲	۱_ جنوب و شمال شرقی ۲_ شاه اسماعیل صفوی ۳_ تعالیم دین اسلام ۴_ سلامت جسم و روان ۵_ خورها ۶_ ارمنستان ۷_ سوخت های فسیلی
۳	الف) درست (ب) درست (ج) نادرست
۴	۱_ خوب فکر کنیم (۲) نتیجه ی هر انتخاب را پیش بینی کنیم (۳) بهترین راه را انتخاب کنیم) ۲_ کاشت، داشت و برداشت ) ۳_ خاک های آهکی یا نمکی) ۴_ به سرزمین هایی که استقلال سیاسی و اقتصادی نداشته باشند و تابع حکومت استعمارگر باشند مستعمره می گویند. ۵_ ۲۲ بهمن ماه ۱۳۵۷ به رهبری امام خمینی
۵	۱) علوم و فنون از جهان اسلام به اروپا انتقال یافت (۲) تجارت و بازرگانی در اروپا رونق یافت ۳) اروپاییان در علم و هنر پیشرفت کردند (۴) اروپاییان با اکتشافات جغرافیایی استعمارگری را آغاز کردند )
۶	کشت گلخانه ای (در گلخانه می توانیم هر محصول را در هر منطقه ی آب و هوایی و در همه ی فصول سال کشت کنیم؛ زیرا آب و هوای گلخانه و گرما و نور و رطوبت را خودمان با دستگاه های مختلف متناسب با نوع محصول تنظیم می کنیم. و کشت گلخانه ای در مقایسه با سایر کشت ها از نظر صرفه جویی در مصرف آب بسیار کمتر است).
۷	باز پاسخ (با صلاح دید آموزگار محترم ارزشیابی انجام شود).
۸	نیمه دوم قرن چهارم تا نیمه اول قرن پنجم نیمه دوم قرن سوم تا نیمه اول قرن چهارم
۹	الف) ارس، اترک ب) افغانستان، ترکیه ج) بندرعباس

آموزگار محترم:

خداقوت و انشالله در پناه حضرت حق همیشه سلامت و عزتمند باشید.



## اپلیکیشن درسی همیار

برنامه رایگان درسی همیار



**تمام پایه ها**

جواب کتاب ، تدریس و نمونه سوال



**همیشه رایگان**

برنامه همیار کاملا رایگان میباشد