


نام خانوادگی :	بسمه تعالی	شماره داوطلب :
نام حوزه ی امتحانی :	وزارت آموزش و پرورش	نام آموزشگاه :
نام حوزہ ی امتحانی :	اداره کل آموزش و پرورش استان آذربایجان شرقی	نام منطقه :
تاریخ امتحان :	سوالات امتحان هماهنگ درس مطالعات اجتماعی پایه ی ششم	تعداد صفحه : ۳
	مدت زمان :	

ردیف	سوالات	عملکرد
۱	<p>❖ صحیح یا غلط بودن هر یک از جملات زیر را مشخص کنید .</p> <p>الف) یک دوست ، همیشه مسیر زندگی انسان را به سوی موفقیت و سعادت تغییر می دهد . صحیح <input type="checkbox"/> غلط <input type="checkbox"/></p> <p>ب) به خلیج فارس انبار نفت جهان می گویند. صحیح <input type="checkbox"/> غلط <input type="checkbox"/></p> <p>ج) گنبد یکی از نشانه های معماری اسلامی است . صحیح <input type="checkbox"/> غلط <input type="checkbox"/></p> <p>د) شهر خرمشهر در عملیات والفجر از چنگال دشمن آزاد شد . صحیح <input type="checkbox"/> غلط <input type="checkbox"/></p>	<p><input type="checkbox"/> خ خ</p> <p><input type="checkbox"/> خ</p> <p><input type="checkbox"/> ق ق</p> <p><input type="checkbox"/> ن ت</p>
۲	<p>❖ جمله های زیر را کامل کنید .</p> <p>الف) در برابر خواسته های نا بجای دوستان و بزرگتر ها ، باید توان را داشته باشیم .</p> <p>ب) به تولید یک کالا به یک شکل و به تعداد زیاد می گویند .</p> <p>ج) بیش ترین منابع گاز ایران از و به دست می آید .</p> <p>د) معروف ترین نظامیه ها و بودند.</p>	<p><input type="checkbox"/> خ خ</p> <p><input type="checkbox"/> خ</p> <p><input type="checkbox"/> ق ق</p> <p><input type="checkbox"/> ن ت</p>
۳	<p>❖ در هر یک از سوالات زیر گزینه صحیح را مشخص کنید .</p> <p>الف) منظور از ضرب المثل زیر چیست ؟ (پیدا کردن دوست آسان است و نگهداری آن مشکل !)</p> <p>۱) وابستگی زیاد به دوست <input type="checkbox"/></p> <p>۲) داشتن حس خیرخواهی <input type="checkbox"/></p> <p>۳) اهمیت حفظ دوستی <input type="checkbox"/></p> <p>۴) چگونگی انتخاب دوست <input type="checkbox"/></p> <p>ب) کدام گیاه به دو شکل پاییزه و بهاره کشت می شود ؟</p> <p>۱) گندم <input type="checkbox"/> ۲) برنج <input type="checkbox"/> ۳) جو <input type="checkbox"/> ۴) چای <input type="checkbox"/></p> <p>ج) در کدام کشور نوروژ را عالم افروز می نامند ؟</p> <p>۱) ایران <input type="checkbox"/> ۲) پاکستان <input type="checkbox"/> ۳) افغانستان <input type="checkbox"/> ۴) عراق <input type="checkbox"/></p> <p>د) با توجه به اینکه غزالی از سال ۴۵۰ تا ۵۵۰ هجری قمری زندگی می کرده است ، او در چه قرنی می زیسته است ؟</p> <p>۱) نیمه اول قرن ۴ و نیمه دوم قرن ۵ <input type="checkbox"/></p> <p>۲) نیمه دوم قرن ۵ و نیمه اول قرن ۶ <input type="checkbox"/></p> <p>۳) نیمه دوم قرن ۴ و نیمه اول قرن ۵ <input type="checkbox"/></p> <p>۴) نیمه دوم قرن ۳ و نیمه دوم قرن ۴ <input type="checkbox"/></p>	<p><input type="checkbox"/> خ خ</p> <p><input type="checkbox"/> خ</p> <p><input type="checkbox"/> ق ق</p> <p><input type="checkbox"/> ن ت</p>

<input type="checkbox"/> خ <input type="checkbox"/> خ <input type="checkbox"/> ق <input type="checkbox"/> ن	<p>❖ گزینه های سمت چپ را به توضیحات سمت راست وصل کنید . (یک گزینه اضافی است)</p> <p>بزرگترین منبع ماهی خاویاری در جهان بریدگی عمیق کناره ی خلیج فارس آبراهه ای که دو دریا را به هم وصل می کند وسیله مطالعه ستارگان در زمانهای قدیم گودال های پرآبی که به اقیانوس می ریزند</p> <p>اسطرلاب دریا دریای خزر خور تنگه دریای عمان</p>	۴
<input type="checkbox"/> خ <input type="checkbox"/> خ <input type="checkbox"/> ق <input type="checkbox"/> ن	<p>به سوالات زیر پاسخ کوتاه بدهید .</p> <p>❖ با توجه به فرمایش پیامبر (ص) ، بدترین افراد چه کسانی هستند ؟</p> <p>❖ با سوزاندن سوخت های فسیلی در نیروگاهها ، چه نوع برقی تولید می شود ؟</p> <p>❖ ساعت پیک بین چه ساعاتی است ؟</p> <p>❖ به اوقاتی که فرد از انجام کار یا تحصیل آسوده است ، چه می گویند ؟</p> <p>❖ مذهب رسمی ایران در دوره ی صفویه چه بود ؟</p> <p>❖ روز ملی شدن صنعت نفت در ایران ، چه روزی است ؟</p>	۵ ۶ ۷ ۸ ۹ ۱۰
<input type="checkbox"/> خ <input type="checkbox"/> خ <input type="checkbox"/> ق <input type="checkbox"/> ن	<p>به سوالات زیر پاسخ بدهید .</p> <p>❖ ویژگی های یک برنامه ی متعادل را بنویسید .</p> <hr/> <p>❖ مرز چیست ؟ مراحل تعیین مرز را بنویسید.</p> <hr/> <p>❖ مکان های زیر را روی نقشه نشان دهید . (رودهای اترک و ارس - کشورهای افغانستان ، ترکیه ، کویت و عربستان)</p> 	۱۱ ۱۲ ۱۳

❖ انرژی های نو و انرژی های غیر قابل تجدید را با هم مقایسه کنید .

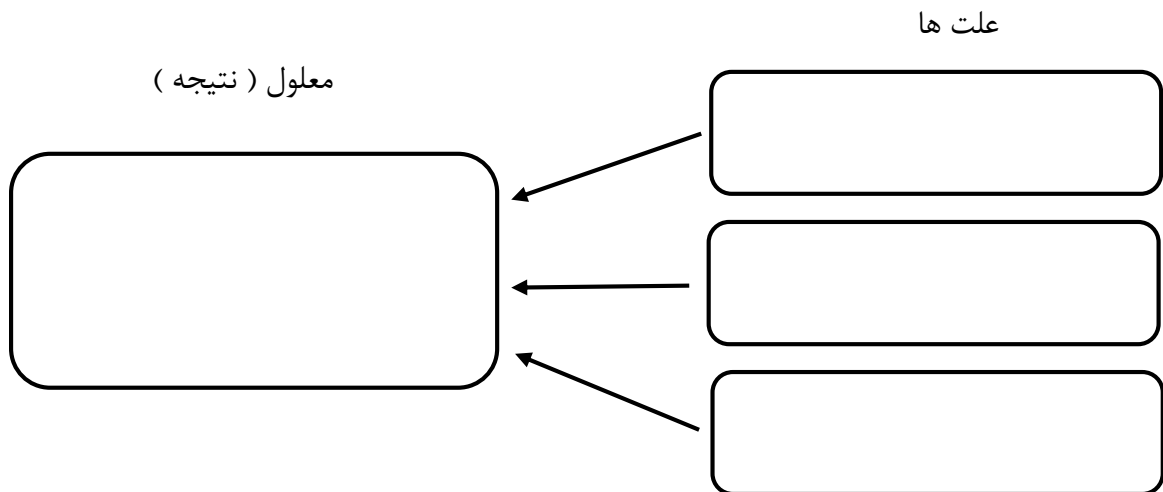
۱۴

❖ هزینه قبض برق خانه ی دوست شما نسبت به ماه گذشته بسیار زیادتر شده است . آنها می خواهند مصرف را به حداقل برسانند . سه راه حل به آنها پیشنهاد دهید .

۱۵

❖ علت های جنگ تحمیلی عراق بر ایران را در نمودار علت و معلول زیر به طور خلاصه بنویسید .

۱۶



توصیف عملکرد : خیلی خوب خوب قابل قبول نیاز به تلاش بیشتر

نام و نام خانوادگی معلم مربوطه : امضاء و تاریخ

نام و نام خانوادگی بازبینی کننده : امضاء و تاریخ

نام خانوادگی :	بسمه تعالی	شماره داوطلب :
نام حوزه ی امتحانی :	وزارت آموزش و پرورش	نام آموزشگاه :
نام تاریخ امتحان :	اداره کل آموزش و پرورش استان آذربایجان شرقی	نام منطقه :
مدت زمان :	سوالات امتحان هماهنگ درس مطالعات اجتماعی پایه ی ششم	تعداد صفحه : ۲

پاسخ نامه		
(۱) صحیح یا غلط الف) غلط	(ب) درست	(د) غلط
(۲) جاهای خالی را کامل کنید . الف) نه گفتن	(ب) انبوه	(د) نیشابور - بغداد
(۳) گزینه ی صحیح را مشخص کنید . الف) گزینه ی ۳	(ب) گزینه ی ۱	(د) گزینه ی ۲
(۴) بزرگترین منبع ماهی خاویاری در جهان - دریای خزر بریدگی عمیق کناره ی خلیج فارس - خور آبراهه ای که دو دریا را به هم وصل می کند - تنگه وسیله مطالعه ستارگان در زمانهای قدیم - اسطرلاب گودال های پرآبی که به اقیانوس می ریزند - دریا		
به سوالات زیر پاسخ کوتاه بدهید .		
(۵) سخن چین		
(۶) برق حرارتی		
(۷) سات ۷ تا ۱۱		
(۸) اوقات فراغت		
(۹) مذهب شیعه		
(۱۰) روز ۲۹ اسفند		
به سوالات زیر پاسخ بدهید .		
(۱۱) در برنامه متعادل ، استراحت ، خواب ، درس خواندن ، عبادت و تفریح و سرگرمی به اندازه ی کافی وجود دارد و هر کاری در موقع مناسب انجام می شود .		

۱۲) مرز خط مشخصی است که کشوری را از کشور دیگر جدا می کند .

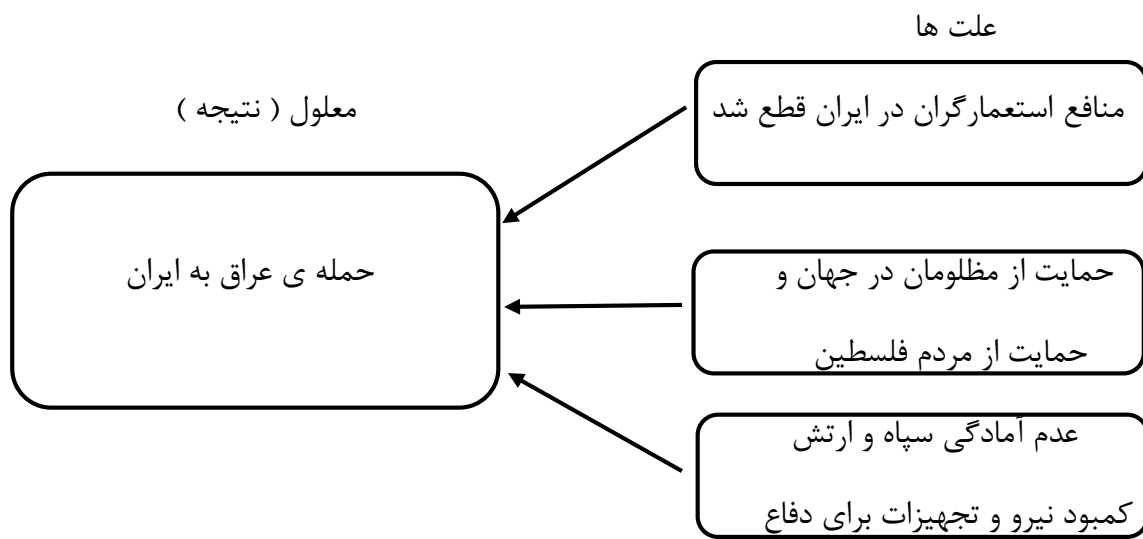
برای تعیین مرز ابتدا کشورها بر سر خطوط مرزی به توافق می رسند و میان خود خطوطی را معین می کنند سپس نقشه کش ها با دقت نقشه هایی از مرزها را ترسیم می کنند . در مرحله ی بعد طبق آن نقشه ، روی زمین در محل خطوط مرزی علامت گذاری می کنند .



۱۴) انرژی های نو ارزان تر هستند یا رایگان هستند - باعث آلودگی محیط زیست نمی شوند - تمام نمی شوند .

۱۵) به عهده ی دانش آموز (واگرا)

۱۶) علت های جنگ تحمیلی عراق بر ایران



نظر همکاران در تصحیح اوراق محترم می باشد .