

بارم	نام و نام خانوادگی:
۱	<p>(۱) جملات درست و نادرست را مشخص کنید.</p> <p>الف) قشر مخ مرکز بسیاری از اعمال ارادی بدن است. ص غ</p> <p>ب) شبکیه خارجی ترین لایه چشم است. ص غ</p> <p>پ) بافت پیوندی محکمی که استخوان ها را در محل مفصل های متحرک به هم وصل میکند رباط نام دارد. ص غ</p> <p>ت) افزایش فشار خون تحت تاثیر عملکرد غده فوق کلیه در بدن انجام می شود. ص غ</p>
۱	<p>(۲) جاهای خالی را با کلمات مناسب پر کنید.</p> <p>الف) به ترکیب شدن گامت نر و ماده ..... می گویند.</p> <p>ب) در ساخته شدن هورمون های غده ی ..... ید به کار می رود.</p> <p>پ) غده ی ..... وظیفه تولید انسولین در خون را بر عهده دارد.</p> <p>ت) تعداد فام تن یاخته های بدن انسان ..... می باشد.</p>
۱	<p>(۳) گزینه صحیح را انتخاب کنید.</p> <p>(۱) بخش ساقه مانندی در زیر مخ که مخ و مخچه را به نخاع وصل می کند.</p> <p>الف) ساقه مغز      ب) بصل النخاع      ج) قشر مخ</p> <p>(۲) محل اتصال استخوان ها به یکدیگر را چه می گویند؟</p> <p>الف) غضروف      ب) مفصل      ج) ماهیچه</p> <p>(۳) تبدیل دائمی سنگ های کره زمین به یکدیگر را چه می گویند؟</p> <p>الف) هوازدگی      ب) دگرگونی      ج) چرخه سنگ</p> <p>(۴) کدام گزینه جز سنگ های رسوبی است؟</p> <p>الف) تراورتن      ب) گابرو      ج) گرانیت</p>

۴) هریک از جانداران زیر به چه روشی تولید مثل میکنند؟

الف) باکتری ها:

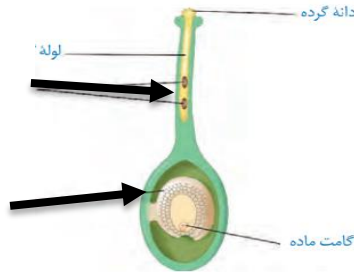
ب) مخمرها:

ج) خزه ها:

د) کپک نان:

۱

۵) در شکل زیر اجزای خواسته شده را بنویسید.



۰/۵

۶) هر عبارت ستون (الف) را به یکی از ستون (ب) ربط دهید. (۲ مورد اضافی است)

ستون (الف)

ستون (ب)

۱) کانی که مصرف خوراکی دارد.

فلوئوریت

۲) یک کانی ملی که به افتخار دانشمند ایرانی نام گذاری شد.

آزبست

۳) به کانی نامهربان معروف است.

هالیت

۴) کانی که در تهیه خمیر دندان از آن استفاده می شود.

بیرونیت

ایرانیت

۱

۷) به سوالات زیر پاسخ دهید؟

۱) ویژگی سنگ های رسوبی را بیان کنید؟

۰/۵


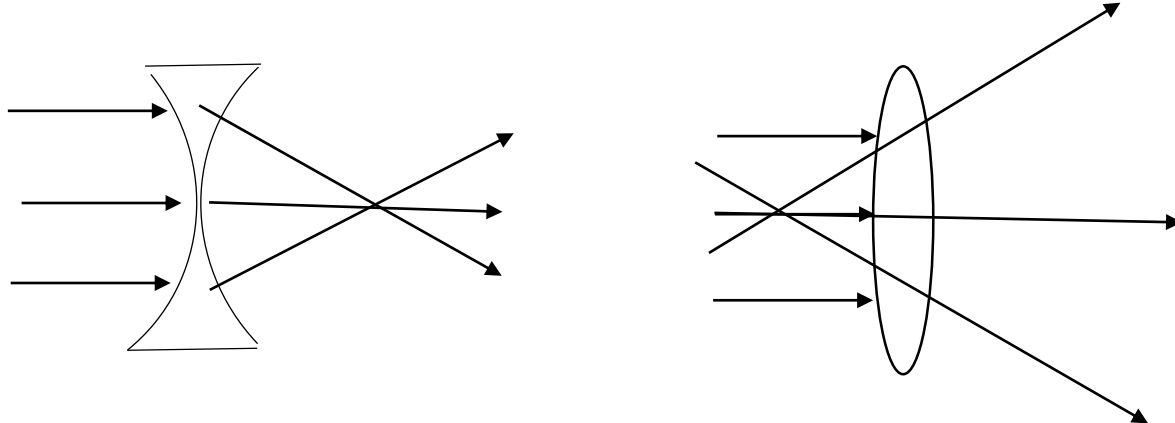
۲) هوازدگی شیمیایی را تعریف کنید؟ و یک مثال بزنید.

۰/۷۵

۳) کانی ها را بر اساس ترکیب شیمیایی به چند دسته تقسیم می شوند؟ برای هر کدام یک مثال بزنید.

۰/۷۵

سر بلند باشید...گُرد

محل مهر آموزشگاه		باسمه تعالی اداره کل آموزش پرورش استان خوزستان مدیریت آموزش پرورش شهرستان شوش دانیال (ع) دبیرستان دوره اول متوسطه مدرسه شمیم دانش		نام و نام خانوادگی :	
				آزمون: علوم هشتم	
				نام دبیر: فاطمه یارمحمدی	
				تاریخ امتحان: ۱۴۰۲/۳/۳	
				مدت: ۳۰ دقیقه	
ردیف	نمره				
۱	۱	۱- ولت سنج ۲- کربن مونو کسید ۳- یون منفی ۴- نزدیک			
۲	۲	۱- بیشترین: بنفش - کمترین: قرمز ۲- طیف نور سفید ۳- قانون بازتاب نور ۴- پی اچ ۵- اختلاف نقطه جوش ۶- خورشید گرفتگی ۷- بازتاب نور			
۳	۰/۵	کلمه نادرست: میکروسکوپ کلمه درست: الکتروسکوپ			
۴	۰.۵	اولین مدار ۲ و دومین و سومین مدار ۸ الکترون میگیرد			
۵	۱	افزایش جریان گذرنده - تعداد دور سیم پیچ			
۶	۱	ولتاژ = جریان * مقاومت $۱۲/۲=۶$ اهم			
					
		القای مغناطیسی		روش الکتریکی	
		مالش			
					



## اپلیکیشن درسی همیار

برنامه رایگان درسی همیار



**تمام پایه ها**

جواب کتاب ، تدریس و نمونه سوال



**همیشه رایگان**

برنامه همیار کاملا رایگان میباشد